

Tên:.....

TOÁN

HÌNH VUÔNG, HÌNH TRÒN, HÌNH TAM GIÁC, HÌNH CHỮ NHẬT

1. Mỗi đồ vật có hình dạng gì?



Hình vuông




Hình tròn




Hình chữ nhật




Hình tam giác



2. a) Những hình nào là hình tròn?



A




B



C




D




E


b) Những hình nào là hình tam giác?




A



B



C




D



E


c) Những hình nào là hình vuông?



A



B



C




D



E


d) Hình nào là hình chữ nhật?



A



B



C


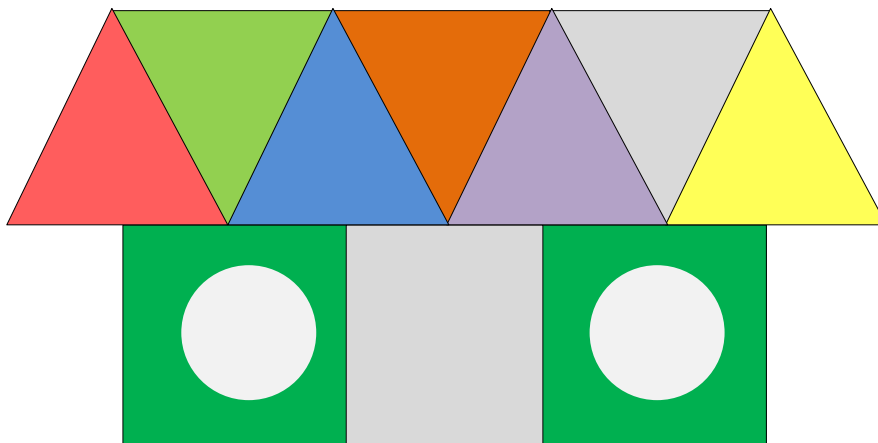


D



E

3. SỐ?



4. Tô màu theo yêu cầu sau:



Đỏ




Xanh lá
cây



Vàng



Xanh da
trời



Tên:.....


TOÁN


PHÉP CỘNG TRONG PHẠM VI 10

1. Số?

a)  $1 + 1 = \square$

b)  $2 + 1 = \square$

c)  $3 + 1 = \square$

d)  $1 + 4 = \square$

2. Số?


a)  $1 + 2 = \dots$

b)  $2 + 3 = \dots$

c)  $4 + 1 = \dots$

d)  $2 + 2 = \dots$

3. Số?



$2 + \dots = \dots$

b)



$$4 + \square = \square$$

4. Số?

a)



$$2 + 3 = \square$$



$$1 + 2 = \square$$



$$2 + 2 = \square$$

b)



$$1 + 1 = \square$$



$$3 + 1 = \square$$



$$2 + 1 = \square$$

5. Số?

$$\square + \square = \square$$

$$\square + \square = 5$$

$$\square + \square = 2$$

$$\square + \square = 5$$

6. Viết hai phép cộng khác nhau có kết quả bằng 3:

$$\square + \square = 3$$

$$\square + \square = 3$$

Tên:.....

TOÁN

LUYỆN TẬP

1. SỐ?



$5 + 1 = \boxed{\dots}$



$4 + 2 = \boxed{\dots}$



$3 + 3 = \boxed{\dots}$



$2 + 4 = \boxed{\dots}$



$1 + 5 = \boxed{\dots}$

2. Tính nhẩm

$1 + 1 = \dots$

$1 + 2 = \dots$

$1 + 5 = \dots$

$2 + 1 = \dots$

$1 + 3 = \dots$

$2 + 3 = \dots$

$3 + 1 = \dots$

$1 + 4 = \dots$

$4 + 2 = \dots$

3. SỐ?

a)




$3 + \boxed{\dots} = \boxed{\dots}$

b)



$2 + \boxed{\dots} = \boxed{\dots}$

c)



$$\boxed{\dots} + 4 = \boxed{\dots}$$

4. SỐ?

$$\boxed{1} + \boxed{\dots} = \boxed{2}$$

$$\boxed{3} + \boxed{\dots} = \boxed{5}$$

$$\boxed{2} + \boxed{\dots} = \boxed{4}$$

$$\boxed{5} + \boxed{\dots} = \boxed{6}$$

5. Em hãy viết số thích hợp vào ô trống để giúp Khỉ về nhà an toàn nhé!

The maze consists of several paths of boxes. The starting point is a box containing the number '1'. From there, the path leads down through boxes containing '+', '1', and '=', then right through boxes containing '1', '+', and '=', then down through boxes containing '=', '1', and '=', then right through boxes containing '1', '+', and '=', then down through boxes containing '+', '1', and '=', and finally right through boxes containing '+', '1', and '=' to reach the house.

Khuyến khích học sinh tô màu Hổ và Cá sấu nếu HS thích.

Tên:.....

TOÁN

PHÉP CỘNG TRONG PHẠM VI 10 (tiếp theo)

1. SỐ?



$$6 + 1 = \boxed{\dots}$$



$$4 + 3 = \boxed{\dots}$$


2. SỐ?

a)



$$\boxed{4} + \boxed{\dots} = \boxed{\dots}$$

b)



$$\boxed{3} + \boxed{\dots} = \boxed{\dots}$$

3. Nối?

$2 + 2$	$2 + 3$	$2 + 1$	$3 + 1$	$3 + 2$	$4 + 2$
2	3	4	5	6	
$1 + 3$	$1 + 1$	$5 + 1$	$4 + 1$	$1 + 5$	$3 + 3$

Note: A line connects the box containing $2 + 2$ to the circle containing the number 4.

4. Số?

Xuất phát	$4 + 2 = \dots$	$4 + 3 = \dots$	$4 + 4 = \dots$
$5 + 4 = \dots$	$5 + 3 = \dots$	$5 + 2 = \dots$	$5 + 1 = \dots$
$5 + 5 = \dots$	$6 + 1 = \dots$	$6 + 2 = \dots$	$6 + 3 = \dots$
Đích	$7 + 2 = \dots$	$7 + 1 = \dots$	$6 + 4 = \dots$

Tên:.....

TOÁN

PHÉP CỘNG TRONG PHẠM VI 10 (tiếp theo)

1. Tính nhẩm:

$0 + 4 = \dots$

$2 + 3 = \dots$

$3 + 3 = \dots$

$3 + 1 = \dots$

$0 + 5 = \dots$

$4 + 2 = \dots$

$2 + 2 = \dots$

$1 + 4 = \dots$


$6 + 0 = \dots$

2. Số?

	6	5	4	3	2	1	0
+	1	2	3	4	5	6	7
	7	7	7

3. Số?

a)



...


+

...

=

...

b)



...


+

...


=

...


4. Tìm chướng cho Thỏ:




3 + 1




6 + 2




5 + 2






2 + 4



3 + 2



3 + 2


Tên:.....

TOÁN

LUYỆN TẬP

1. SỐ?

a)




6	+	2	=	...
2	+	6	=	...

6
2

.....

...

b)




5	+	4	=	...
4	+	5	=	...

5
4

.....

...

c)



4	+	6	=	...
6	+	4	=	...

4
6

.....

...

2. Tính nhẩm:

$7 + 1 = \dots$

$6 + 2 = \dots$

$5 + 3 = \dots$

$4 + 4 = \dots$

$1 + 7 = \dots$

$2 + 6 = \dots$

$3 + 5 = \dots$

$8 + 0 = \dots$

3. Số?

+	9	8	7	6	5
	0	1	2	3	4
	9

4. Số?

a)



+ =

b)



+ =

Tên:.....

TOÁN

LUYỆN TẬP

1. SỐ?

+	9	8	7	6	5
	1	2	3	4	5
	10

2. Tính nhẩm

$2 + 7 = \dots$

$2 + 8 = \dots$

$3 + 5 = \dots$

$1 + 8 = \dots$

$3 + 7 = \dots$

$1 + 7 = \dots$

3. SỐ?

$4 + \dots = 7$

$\dots + 3 = 8$

$\dots + 4 = 10$

$3 + \dots = 3$

4. Tính (theo mẫu):

$$\underbrace{3 + 1}_{4} + 2 = 6$$

Nhẩm: $3 + 1 = 4$

$4 + 2 = 6$

$$\underbrace{1 + 2}_{\dots} + 2 = \dots$$

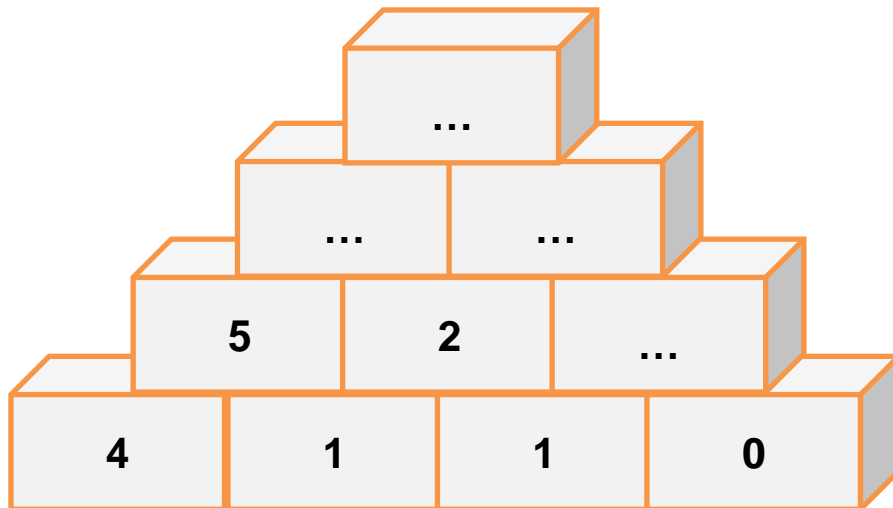
$$\underbrace{2 + 3}_{\dots} + 5 = \dots$$

$$\underbrace{5 + 4}_{\dots} + 0 = \dots$$

4. Tìm những quả bóng ghi phép tính có kết quả bằng 10.



5. Số?



(Gợi ý: $4 + 1 = 5$; $5 + 2 = \dots$)

Tên:.....

TOÁN

PHÉP TRỪ TRONG PHẠM VI 10

1. Số?

a)

$$\boxed{8} \quad \boxed{-} \quad \boxed{\dots} \quad \boxed{=} \quad \boxed{\dots}$$

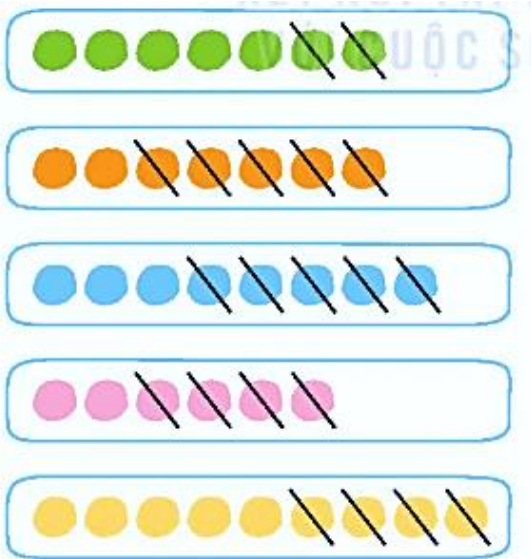


b)

$$\boxed{10} \quad \boxed{-} \quad \boxed{\dots} \quad \boxed{=} \quad \boxed{\dots}$$



2. Số?



$$\boxed{7} \quad \boxed{-} \quad \boxed{2} \quad \boxed{=} \quad \boxed{\dots}$$

$$\boxed{7} \quad \boxed{-} \quad \boxed{5} \quad \boxed{=} \quad \boxed{\dots}$$

$$\boxed{8} \quad \boxed{-} \quad \boxed{5} \quad \boxed{=} \quad \boxed{\dots}$$

$$\boxed{6} \quad \boxed{-} \quad \boxed{4} \quad \boxed{=} \quad \boxed{\dots}$$

$$\boxed{9} \quad \boxed{-} \quad \boxed{4} \quad \boxed{=} \quad \boxed{\dots}$$

3. Nối (theo mẫu):

$$\boxed{9 + 0}$$

$$\boxed{8 - 3}$$

$$\boxed{1 + 2}$$

$$\boxed{5 - 1}$$

$$\boxed{6 - 1}$$

$$\boxed{4 + 5}$$

$$\boxed{2 + 1}$$

$$\boxed{8 - 4}$$

Tên:.....

TOÁN

PHÉP TRỪ TRONG PHẠM VI 10 (TIẾP THEO)

1. Số?

6 $\begin{cases} 2 \\ \dots \end{cases}$ 6 - ... = ...



2. Số?

8 rabbits in a group, 2 arrows pointing to two houses. The top house has a grey rabbit on the roof and a question mark below. The bottom house has a white rabbit on the roof and a question mark below.

8 $\begin{cases} 4 \\ \dots \end{cases}$ 8 - ... = ...

3. Số?

6 $\begin{cases} 5 \\ 1 \end{cases}$ 6 - 5 = ...
6 - 1 = ...

7 $\begin{cases} 1 \\ 6 \end{cases}$ 7 - 1 = ...
7 - 6 = ...




9 $\begin{cases} 2 \\ 7 \end{cases}$ 9 - 2 = ...
9 - 7 = ...

10 $\begin{cases} 2 \\ 8 \end{cases}$ 10 - 2 = ...
10 - 8 = ...

Tên:.....

TOÁN
LUYỆN TẬP

1. SỐ?

	$6 - 1 = 5$
	$6 - 2 = \dots$
	$6 - 3 = \dots$
	$6 - 4 = \dots$
	$6 - 5 = \dots$

2. Tô màu vào những chú thỏ ghi phép tính có kết quả bằng 4.




-	9	9	9	9	9	9	9	9
	1	2	3	4	5	6	7	8
	8							

4. Nối:



$$10 - 2 = 8$$



$$10 - 5 = 5$$



$$10 - 3 = 7$$

5*. Số?

$$4 - 1 - \square = 0$$

$$1 - \square - \square = 0$$

$$5 - 3 + \square = 5$$

$$4 + \square + \square = 5$$

Tên:.....

TOÁN

SỐ 0 TRONG PHÉP TRỪ

1. Tính nhẩm


$5 - 0 = \dots$	$4 - 0 = \dots$	$3 - 0 = \dots$	$2 - 0 = \dots$
$6 - 6 = \dots$	$7 - 7 = \dots$	$4 - 4 = \dots$	$9 - 9 = \dots$
$5 + 0 = \dots$	$0 + 4 = \dots$	$3 + 0 = \dots$	$0 + 2 = \dots$

2. Nối:

$7 - 4$	$5 - 5$	$7 - 0$	$4 - 0$
$3 - 3$	$3 - 0$	$6 - 2$	$9 - 2$

(A line connects the cloud containing '7 - 4' to the cloud containing '3 - 0'.)

3. Số?



4*.

>	$6 - 4$		3	$1 + 5$		4	$2 + 4$		6
<	$6 - 1$		5	$5 + 1$		6	$3 + 3$		2
=	$5 - 1$		5	$4 + 2$		5	$6 - 0$		6

Tên:.....

TOÁN

LUYỆN TẬP


1. a) Tính nhẩm:

$2 - 1 = \dots$	$3 - 2 = \dots$	$4 - 3 = \dots$	$4 - 4 = \dots$
$4 - 1 = \dots$	$3 - 1 = \dots$	$5 - 1 = \dots$	$2 - 0 = \dots$


b) Số?

	7	7	7	7	7	7	7	7
-	1	2	3	4	5	6	7	0
	6	...	4

2. Tô màu những bông hoa ghi phép tính có kết quả lớn hơn 3.



3. a) Có mấy con cá đang cắn câu? Em hãy đánh dấu X vào đáp án em chọn.



b) Số?

$$7 - 5 = \dots$$

$$7 - \dots = 2$$

4. Số?




$$\dots - \dots = 3$$

Tên:.....

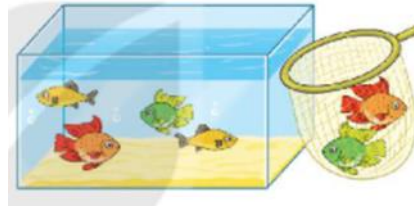
TOÁN
LUYỆN TẬP

1. Số?

$9 - 3 = \dots$



$6 - 2 = \dots$



2. Tính:

a) $8 - 2 - 3 = \dots$

b) $7 - 4 - 1 = \dots$

c) $10 - 5 - 2 = \dots$

d) $3 + 6 - 4 = \dots$

3. Nối kết quả phép tính với mặt xúc xắc thích hợp:

$3 - 1$

$3 + 1$

$6 - 3$

$1 + 1$



$2 - 1$

$3 + 0$

$1 + 2$

$4 - 1$

4. Tìm quy luật và viết số thích hợp vào ô trống:

1	3	5	7
2			
3			
4			

Tên:.....

TOÁN

BẢNG CỘNG, BẢNG TRỪ TRONG PHẠM VI 10


1. SỐ?

	1	2	3	4	5	6	7	8	9
+	9	8	7	6	5	4	3	2	1
	10

2. Em hãy hoàn thành bảng cộng sau:

1 + 1 = 2	2 + 1 = 3	3 + 1 = 4	4 + 1 = 5	5 + 1 = 6	6 + 1 = 7	7 + 1 = 8	8 + 1 = 9	9 + 1 = 10
1 + 2 = 3	2 + 2 = 4	3 + 2 = 5	4 + 2 = 6	5 + 2 =	6 + 2 =	7 + 2 = 9	8 + 2 =	
1 + 3 = 4	2 + 3 = 5	3 + 3 =	4 + 3 =	5 + 3 = 8	6 + 3 =	7 + 3 = 10		
1 + 4 = 5	2 + 4 = 6	3 + 4 =	4 + 4 =	5 + 4 =	6 + 4 =			
1 + 5 = 6	2 + 5 = 7	3 + 5 =	4 + 5 =	5 + 5 =				
1 + 6 = 7	2 + 6 =	3 + 6 =	4 + 6 =					
1 + 7 = 8	2 + 7 =	3 + 7 =						
1 + 8 = 9	2 + 8 =							
1 + 9 = 10								

3. Nối:



Tên:.....

TOÁN

BẢNG CỘNG, BẢNG TRỪ TRONG PHẠM VI 10 (TIẾP THEO)

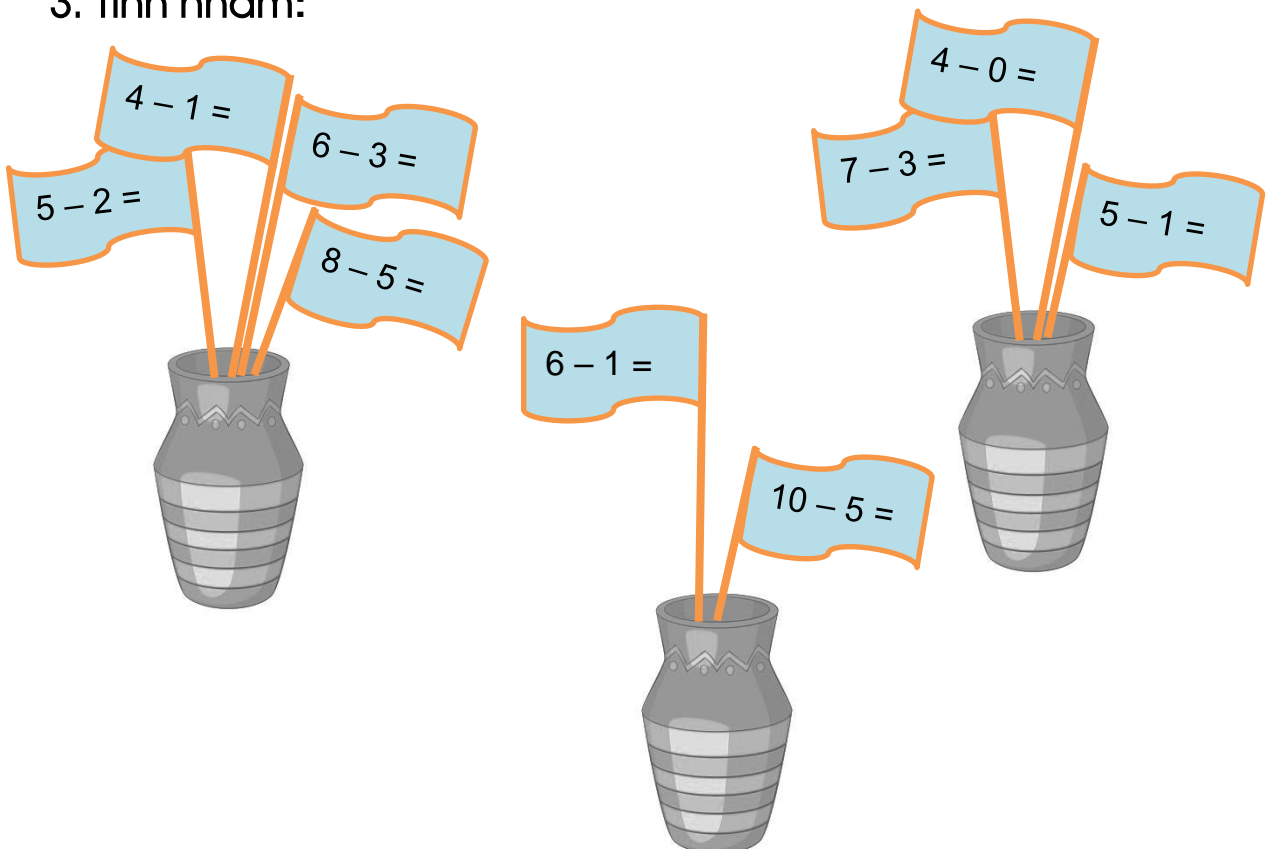
1. SỐ?

-	6	6	6	6	6	6
	1	2	3	4	5	6
	5

2. Em hãy hoàn thành bảng trừ sau:

2 - 1 = 1	3 - 1 = 2	4 - 1 = 3	5 - 1 = 4	6 - 1 = 5	7 - 1 = 6	8 - 1 = 7	9 - 1 = 8	10 - 1 = 9
	3 - 2 = ...	4 - 2 = 2	5 - 2 = ...	6 - 2 = 4	7 - 2 = ...	8 - 2 = 6	9 - 2 = 7	10 - 2 = 8
		4 - 3 = 1	5 - 3 = ...	6 - 3 = 3	7 - 3 = ...	8 - 3 = 5	9 - 3 = 6	10 - 3 = ...
			5 - 4 = ...	6 - 4 = 2	7 - 4 = ...	8 - 4 = 4	9 - 4 = ...	10 - 4 = ...
				6 - 5 = ...	7 - 5 = ...	8 - 5 = ...	9 - 5 = ...	10 - 5 = 5
					7 - 6 = 1	8 - 6 = ...	9 - 6 = ...	10 - 6 = ...
						8 - 7 = ...	9 - 7 = 2	10 - 7 = ...
							9 - 8 = ...	10 - 8 = ...
								10 - 9 = 1

3. Tính nhẩm:



Tên:.....

TOÁN

LUYỆN TẬP

1. SỐ?

a)



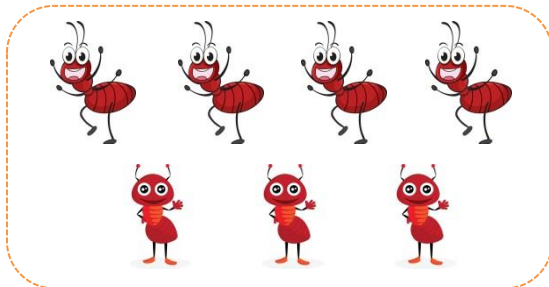
$4 + 3 = \dots$

$3 + 4 = \dots$

$7 - 3 = \dots$

$7 - 4 = \dots$

b)



$4 + 3 = \dots$

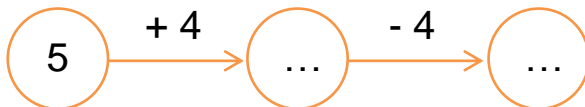
$3 + 4 = \dots$

$7 - 3 = \dots$

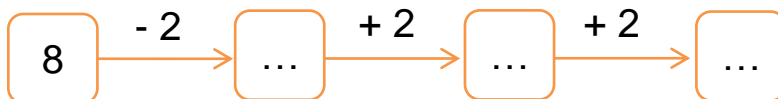
$7 - 4 = \dots$

2. SỐ?

a)



b)



3. Tìm quy luật và viết số thích hợp vào ô trống:

+	0	1	2
1	1		
2		3	
3			5

Tên:.....

TOÁN

LUYỆN TẬP CHUNG

1. SỐ?

a)

$3 + 5 = 8$	$4 + 2 = 6$	$8 + 2 = 10$
$8 - 3 = \dots$	$6 - 4 = \dots$	$10 - 2 = \dots$
$8 - 5 = \dots$	$6 - 2 = \dots$	$10 - 8 = \dots$

b)

$4 + 3 = 7$	$7 + 1 = 8$	$5 + 0 = 10$
$3 - 4 = \dots$	$1 + 7 = \dots$	$10 - 2 = \dots$
$7 - 4 = \dots$	$8 - 1 = \dots$	$10 - 8 = \dots$

2. SỐ?

$1 + 9 = 10$		$10 - 1 = 9$
$2 + 8 = 10$		$10 - 2 = 8$
$3 + 7 = 10$		$10 - 3 = 7$
$4 + 6 = 10$		$10 - 4 = 6$
$5 + 5 = 10$		$10 - 5 = 5$
$6 + 4 = \dots$		$10 - 6 = \dots$
$7 + 3 = \dots$		$10 - 7 = \dots$
$8 + 2 = \dots$		$10 - 8 = \dots$
$9 + 1 = \dots$		$10 - 9 = \dots$

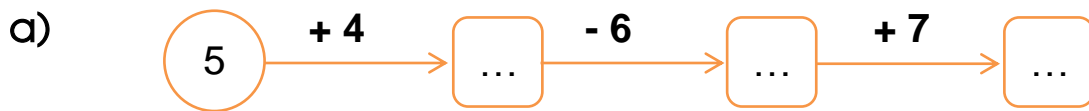
3. a) SỐ?

+	3	6	7	4	2	4	9
	4	2	1	3	8	6	0
	7				10		

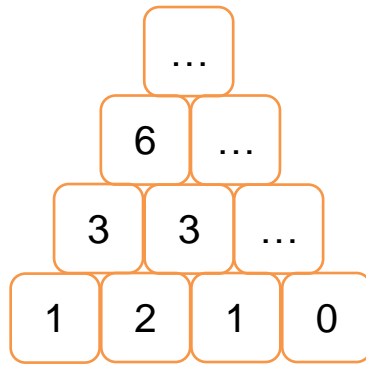
b) Số?

9		8		7	
5	4	6	2	5	2
6	...	5	4
...	2	...	1	6	...
0	8	...	0

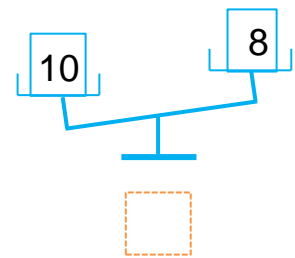
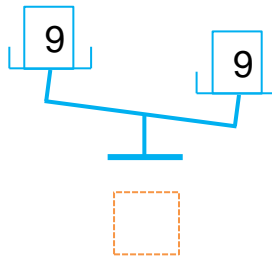
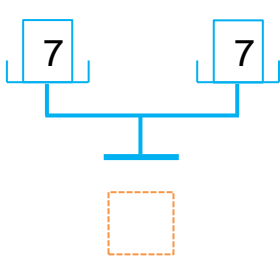
4. Số?



b)



5. Đúng ghi Đ, sai ghi S vào ô trống:




Tên:.....

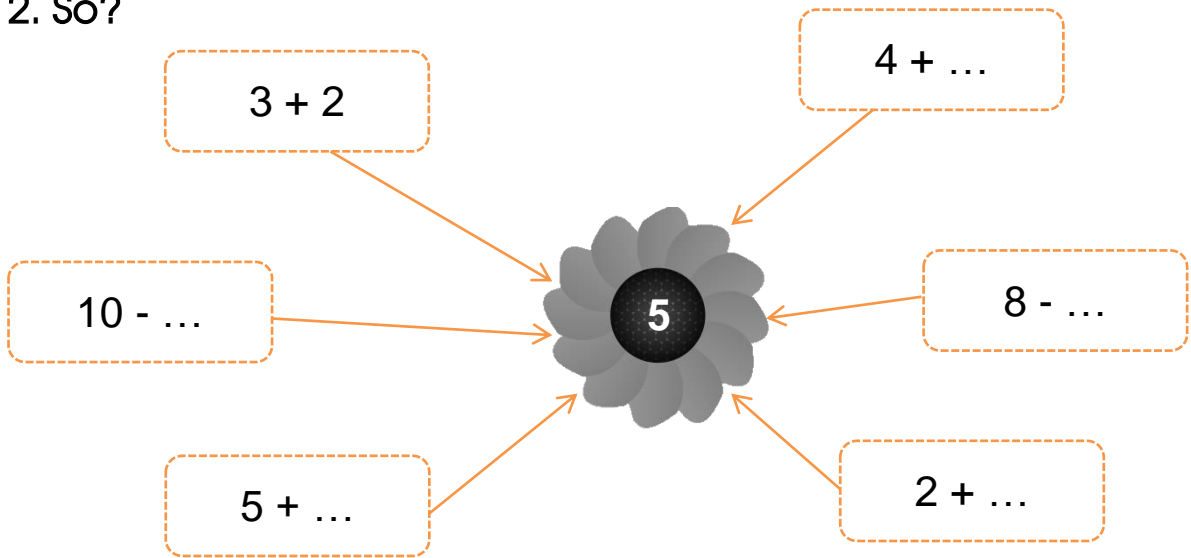
TOÁN

LUYỆN TẬP


1. Khoanh vào con ong chứa phép tính có kết quả bằng 4.



2. Số?



3. Nối (theo mẫu):




Tên:.....

TOÁN

LUYỆN TẬP

1. Số?



+ =

2. Số?



+ =

3. >, <, = ?

- a) 9 4 + 1
- 8 10 - 2
- 7 2 + 6

- b) 3 + 4 7
- 7 + 2 8
- 10 - 2 7

4. SỐ?

... + ... = ...



5. Em hãy tính nhằm kết quả các phép tính và tô màu theo hướng dẫn để giải mã bức tranh bí ẩn nhé! Các kết quả sẽ tô màu tương ứng như sau:

- 2: hồng
- 3: xanh da trời
- 4: xanh lá cây
- 5: cam
- 6: tím
- 7: vàng

