

Chào mừng các em đến  
với tiết Toán






*Trò chơi:*

“*Ai nhanh trí*”



**Con vật nào nặng hơn?**




**A. Con mèo nặng hơn**

**B. Con chó nặng hơn**

**C. Con mèo nặng bằng con chó**

# Túi nào nhẹ hơn?



**A. Túi rau nhẹ hơn túi quả**

**B. Túi quả nhẹ hơn túi rau**

**C. Túi quả nặng bằng túi rau**

# Toán

## Kì - lô - gam





## Ki – lô – gam



Con sóc cân nặng bằng 1 quả bưởi.

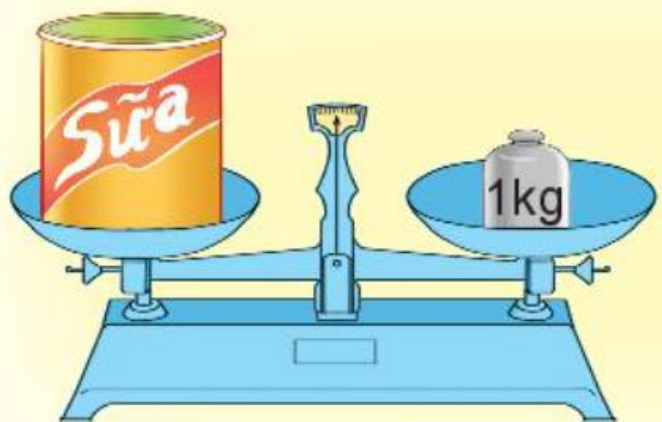


## Ki – lô – gam

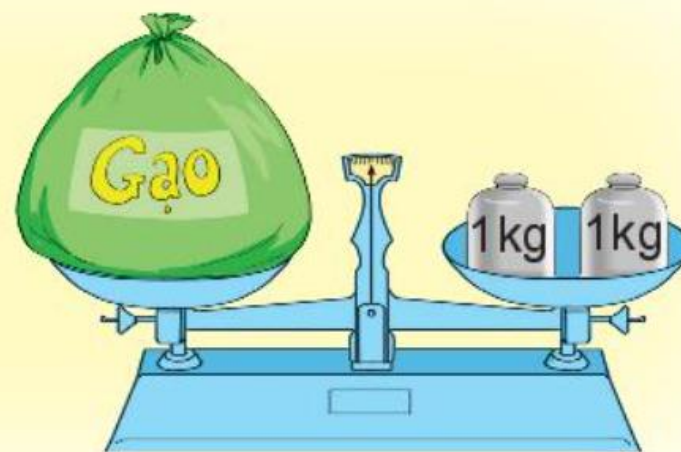
Đây là quả cân 1 ki – lô – gam:



Ki – lô – gam viết tắt là *kg*.



Hộp sữa cân nặng 1 kg.



Túi gạo cân nặng 2 kg.



1 Đ, S ?

- a) Quả bóng nhẹ hơn 1 kg.
- b) Nải chuối nặng hơn 1 kg.
- c) Quả bưởi cân nặng 1 kg.
- d) Quả bóng nặng bằng quả bưởi.
- e) Nải chuối nặng hơn quả bưởi.

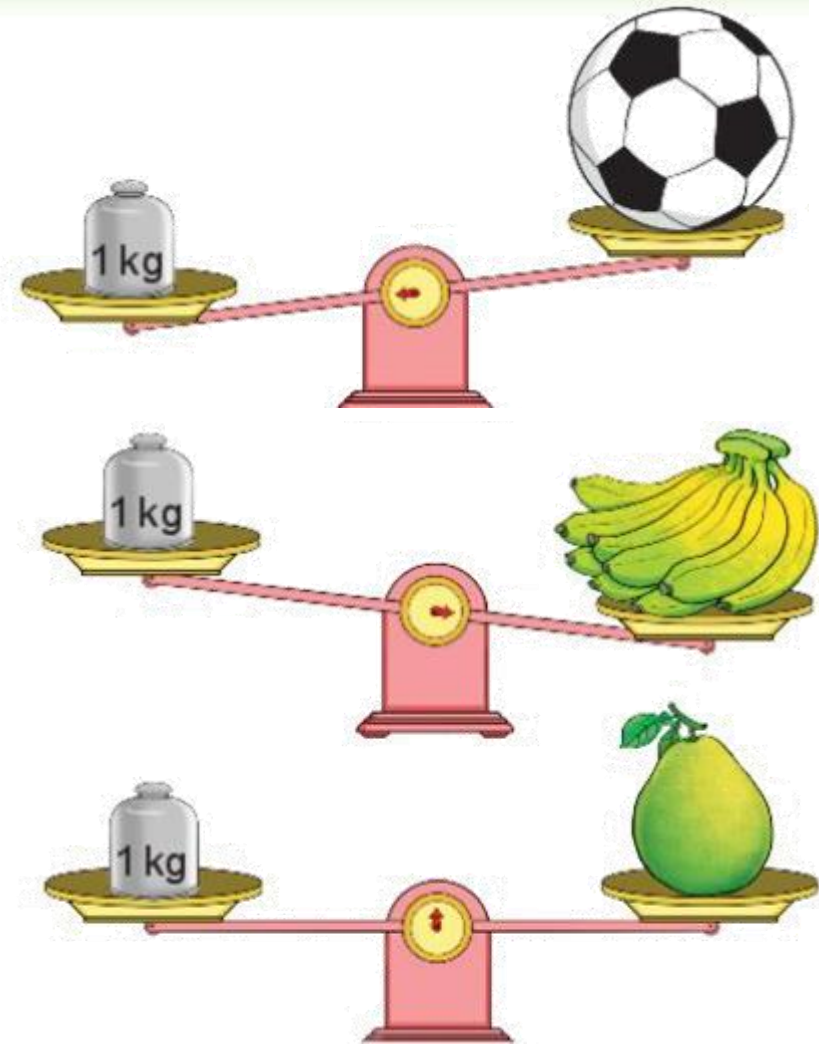
Đ

Đ

Đ

S

Đ

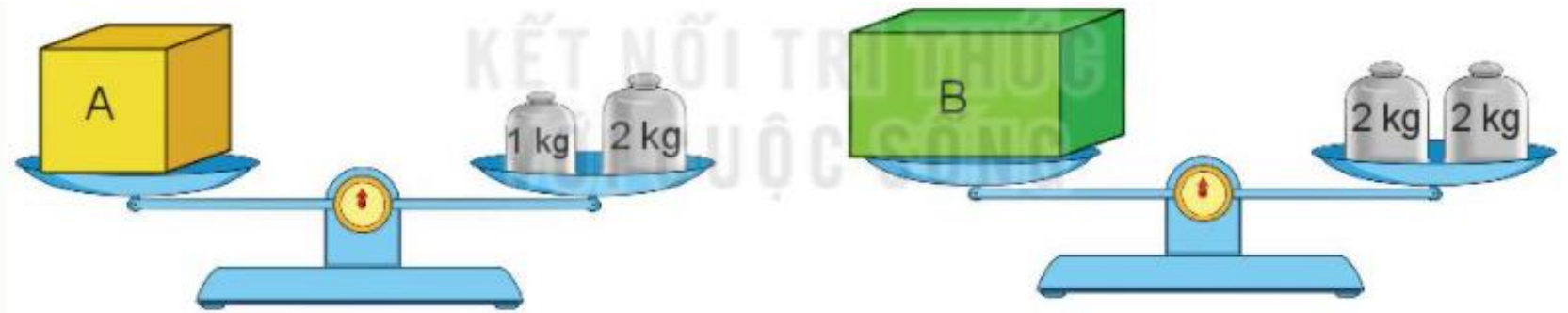




2 Đọc cân nặng của mỗi quả hoặc đồ vật dưới đây.



### 3 Quan sát tranh rồi trả lời câu hỏi

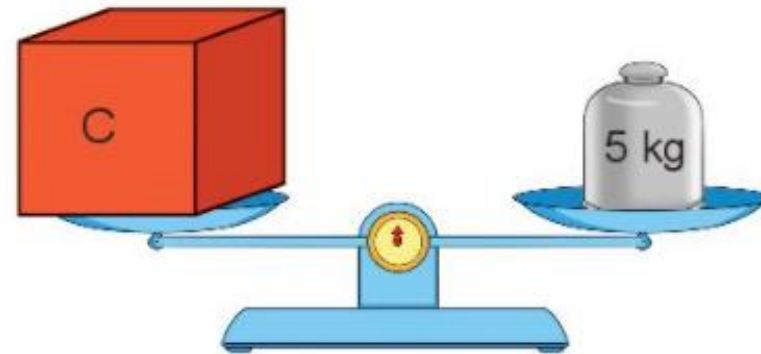


a) Số?

Hộp A cân nặng  kg.

Hộp B cân nặng  kg.

Hộp C cân nặng  kg.



b) Hộp nào nặng nhất? → Hộp C

Hộp nào nhẹ nhất? → Hộp A

# CHÀO TẠM BIỆT

