

HỌ TÊN:.....

Bài tập cuối tuần 28

Toán

Câu 1: Kết quả của phép tính $64\ 929 + 29\ 394$ là:

- A. 95 323 B. 94 323 C. 94 618 D. 94 189

Câu 2: Một xưởng may tuần thứ nhất may được 14 829 mét vải. Tuần thứ hai họ chỉ may được 12 924 mét vải. Số mét vải xưởng may may được trong cả hai tuần là:

- A. 22 840m B. 27 777m C. 27 753m D. 29 472m

Câu 3: Tìm số biết: - 72952 = 12340

- A. 85 292 B. 84 528 C. 83 628 D. 84 628

Câu 4: Tìm số biết: - 1 381 x 9 = 28 410

- A. 40 284 B. 41 920 C. 42 941 D. 40 839

Câu 5: Giá trị của biểu thức $18\ 394 + 29\ 480 + 14\ 829$ là:

- A. 62 703 B. 60 278 C. 61 283 D. 62 030

Câu 6. Kết quả của phép tính $10\ 235 + 20\ 142$ là:

- A. 30 367 B. 30 376 C. 30 377 D. 30 733

II/ TỰ LUẬN

Bài 1. Tính

$\begin{array}{r} 12\ 296 \\ - \quad 143 \\ \hline \end{array}$	$\begin{array}{r} 46\ 534 \\ - \quad 5\ 520 \\ \hline \end{array}$	$\begin{array}{r} 70\ 323 \\ + \quad 1\ 191 \\ \hline \end{array}$	$\begin{array}{r} 12\ 360 \\ + 12\ 456 \\ \hline \end{array}$	$\begin{array}{r} 52\ 446 \\ + \quad 13\ 237 \\ \hline \end{array}$
.....

Bài 2. Đặt tính rồi tính.

13 355 - 9 324 23 216 + 12 452 14 77 + 2 119 62 102 - 23 701

.....
.....
.....
.....

Bài 3. Tính giá trị của biểu thức sau:

a. $8\ 674 + 5\ 600 - 1\ 367 =$
=

b. $19\ 989 - (7\ 644 + 1\ 890) =$ =

Bài 4. Tính hiệu của số lớn nhất có năm chữ số khác nhau và số bé nhất có bốn chữ số.

Bài giải

.....
.....
.....
.....
.....

Bài 5. Một cửa hàng có 34 000 l xăng, cửa hàng nhập thêm về 3 400 l xăng. Hỏi sau khi bán 18 909 l xăng cửa hàng còn lại bao nhiêu lít xăng?

Bài giải

.....
.....
.....
.....
.....

Bài 6: Viết các số có năm chữ số từ các số 1, 0, 7, 2, 6. Tìm tổng của số lớn nhất và số bé nhất có 5 chữ số khác nhau từ các số viết được.

Bài giải

.....
.....
.....
.....
.....

Tiếng Việt

EM YÊU TỔ QUỐC VIỆT NAM

Tổ quốc em đẹp lắm

Cong cong hình lưỡi liềm

Trên: núi cao trùng điệp

Dưới: biển sóng mông mênh.

Những cánh đồng bình yên

Nằm phơi mình ở giữa

Những con sông xanh, hồng

Uốn quanh trăm dải lụa.

Tổ quốc em giàu lắm

Đồng ruộng: vừa thóc thơm

Biển bạc: đặc cá tôm

Rừng vàng: đầy quặng, gỗ.

Ôi! Việt Nam! Việt Nam!

Tổ quốc bao thương mến

Yêu từng khóm tre làng

Từng con đò vào bến.

Càng yêu thêm sông núi

Sinh ra những anh hùng

Em không nói ai biết

Nhưng em sướng vô cùng.

Em là công dân nhỏ

1. Bạn nhỏ đã miêu tả những cảnh vật nào ở đất nước ta?

- A. núi, sông, biển, cánh đồng
- B. núi, rừng, sông, biển, cánh đồng
- C. rừng, núi, sông, biển

2. Em hiểu từ “giàu” trong câu thơ “Tổ quốc em giàu lắm” như thế nào?

.....

.....

.....

3. Đọc khổ thơ 4 và 5 em thấy bạn nhỏ yêu những gì ở Tổ quốc ta?

- A. núi, sông
- B. khóm tre, con đò
- C. khóm tre, con đò, núi, sông

4. Bạn nhỏ cảm thấy thế nào khi được là công dân nước Việt Nam?

- A. vui sướng, tự hào
- B. thú vị
- C. yên tâm

5. a) Chọn *chống/trống* điền vào chỗ chấm để tạo từ:

-chọi;dịch;đồng;trái; gà;

.....vắng

b) Chọn *chuyền/truyền* điền vào chỗ chấm để tạo từ:

-tin; tuyên; gia; bệnh; dây;

.....dịch

6. Nói các cặp từ có nghĩa giống nhau:

phân vân

siêng năng

đỡ dằn

huyền não

khoan khoái

cần mẫn

nhộn nhịp

lưỡng lự

thoải mái

hỗ trợ

7. Dựa vào hình ảnh so sánh có ở mỗi câu, điền vào cột thích hợp:

a. Cầu Thê Húc màu son, cong cong như con tôm dẫn vào đền Ngọc Sơn.

b. Xen vào giữa những đám đá tai mèo, những nương đỗ, nương ngô xanh um trông như những ô bàn cờ.

Sự vật 1	Từ so sánh	Sự vật 2	Đặc điểm giống nhau
.....
.....

Câu 8. Đặt câu hỏi cho bộ phận câu in đậm:

a. Học sinh nghỉ hè **vào tháng Sáu.**

.....

b. **Tháng Ba**, hoa gạo nở đỏ rực.

.....

c. Chim thường làm tổ xong **trước khi đẻ trứng.**

.....

d. Cầu vồng hiện lên khi có nắng **sau cơn mưa.**

.....

Câu 9. Xếp các từ trong khung có nghĩa giống nhau vào cột thích hợp:






cần cù, phấn khởi, cần mẫn, phấn chấn, chăm chỉ, hân hoan,

siêng năng, chịu khó, lí do, vui vẻ, phấn khích, khắp khởi, mừng rỡ

Từ thể hiện sự chăm chỉ	Từ thể hiện niềm vui sướng
.....
.....

Tiếng Anh

. Unscramble the words.

- | | | | | | | | |
|-----------|----|---|-------------|------------|----|---|-------|
| 0. veba | -> |  | <u>have</u> | 4.ridbs | -> |  | _____ |
| 1.rotspar | -> | _____ | | 5.bitrabs | -> |  | _____ |
| 2.sept | -> | _____ | | 6.fishlodg | -> | _____ | |
| 3.gods | -> |  | _____ | 7.satc | -> |  | _____ |

Read and tick Yes (Y) or No (N).

I'm Hung. I and my friends love pets very much. They have many pets. Nam has two dogs. Mary has three cats and one rabbit. Linh doesn't have parrots, but she has five birds. Daisy and her brother have eight goldfish. I have four dogs and five goldfish.

		Yes	No
0.	Hung and his friends love pets very much.	<input checked="" type="checkbox"/>	<input type="checkbox"/>
1	Hung and his friends have some pets.	<input type="checkbox"/>	<input type="checkbox"/>
2	Mary has three cats and one rabbit.	<input type="checkbox"/>	<input type="checkbox"/>
3	Linh has parrots and five birds.	<input type="checkbox"/>	<input type="checkbox"/>
4	Hung have four dogs and five goldfish.	<input type="checkbox"/>	<input type="checkbox"/>

