

ĐỀ SỐ 3
MÔN TOÁN - LỚP 1
 Thời gian làm bài: 40 phút

Câu 1: Quan sát hình và cho biết:



- Có con bướm. Có bông hoa
- Số con bướm (**nhều hơn/ ít hơn**)số bông hoa
- Số bông hoa (**nhều hơn / ít hơn**)số con bướm

Câu 2: Viết số gồm:


- 2 chục và 4 đơn vị:
- 5 chục và 1 đơn vị :.....
- Số 78 gồmchục vàđơn vị
- Số 45 gồm chục và đơn vị
- Viết lại các số có 2 chữ số giống nhau:

Câu 3: Đúng ghi Đ/ Sai ghi S

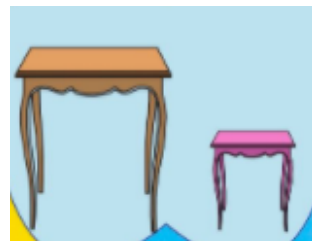

$67 - 61 = 5$ $12 + 45 = 57$
 $78 > 45 + 12$ $45 - 5 < 12 + 23$

Câu 4:

a. Khoanh tròn vào đồ vật thấp hơn?



b. Khoanh vào đồ vật cao hơn?



Câu 5: Tính nhẩm

$73 - 13 = \dots\dots\dots$

$90 - 10 - 20 = \dots\dots$



$16 - 5 = \dots\dots$

$89 - 10 = \dots\dots\dots$

$20 + 10 + 10 = \dots\dots$

$45 + 3 = \dots\dots$

Câu 6: Nối đúng



$86 - 44$

$41 + 20$

$85 - 32$

$31 + 7$

Câu 7: a. Hôm nay thứ 2 ngày 17 thì thứ 4 (trong tuần) sẽ là ngày bao nhiêu ?

A. Ngày 18

B. Ngày 19

C. Ngày 20

D. Ngày 17

b. Đồng hồ có kim ngắn chỉ số 3, kim dài chỉ số 12, thì là mấy giờ?

B. 2 giờ

B. 4 giờ

C. 12 giờ

D. 3 giờ

Câu 8: Em hãy viết 4 phép tính cộng, trừ có kết quả bằng 35

--	--	--	--	--

--	--	--	--	--

--	--	--	--	--

--	--	--	--	--

Câu 9: (1 điểm) Xếp các số 9; 67; 33; 14, 45

- Theo thứ tự từ lớn đến bé là:

- Theo thứ tự từ bé đến lớn là:

Câu 10: Số?

$\square + \square + \square = 6$