


## ĐỀ SỐ 4

Môn Toán - Thời gian làm bài: 40 phút

### Câu 1: Quan sát tranh và cho biết



#### Trên hình vẽ có :

Có .....quả lê .....gồm .....chục và .....đơn vị

Có .....quả chanh: ..... gồm .....chục và .....đơn vị

Có .....quả cam: ..... gồm .....chục và .....đơn vị



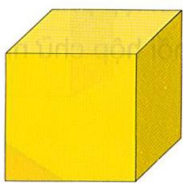
### Câu 2: Khoanh tròn vào đáp án đúng.

a. Trong các số sau số nào lớn nhất: A. 23      B. 12      C. 45      D. 9

b. Số tròn chục bé nhất là: A. 10      B. 16      C. 2      D. 50

c. Số 8 chục bằng với số nào : A. 70      B. 80      C. 88      D. 2-

### Câu 3: Viết đúng tên mỗi hình.



.....

### Câu 4: Với ba số 18, 8, 10 em hãy viết hai phép tính và hai phép tính trừ

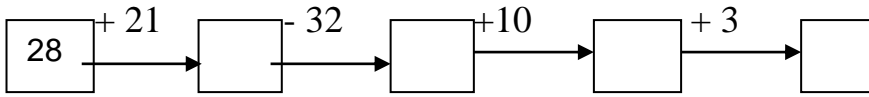
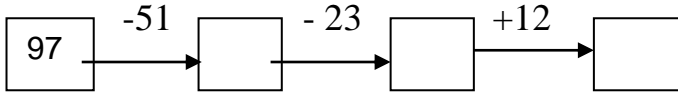
--	--	--	--	--

--	--	--	--	--

--	--	--	--	--

--	--	--	--	--

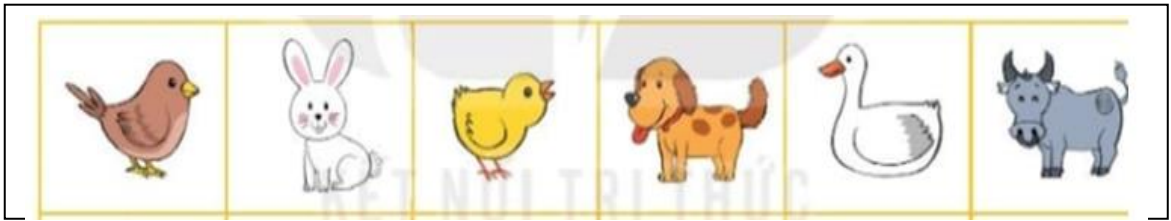
**Câu 5: Điền Số?**



**Câu 6:** Bác Ba nuôi được 35 con gà và con vịt, trong đó có 1 chục con gà. Hỏi bác Ba nuôi được bao nhiêu vịt ?

- A.45                      B.36                      C.25                      D. 52

**Câu 7: Quan sát hình và cho biết:**




- Con vật nào đứng đầu tiên? .....
- Con Vật nào đứng cuối cùng? .....
- Con gà đứng sau con nào ? .....
- Con vịt đứng ở giữa hai con nào ? .....

**Câu 8: Điền dấu + hoặc dấu -**


70  20 = 90              87  45 = 42              23  61 = 84              80  20 = 60

**Câu 9:**

a.Khoanh tròn vào đồ vật cao hơn?



b.Khoanh vào đồ vật thấp hơn?



**Câu 10: Tính**

$78 - 28 - 10 + 12 + 40 - 4 = \dots\dots\dots$