
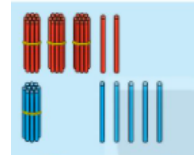
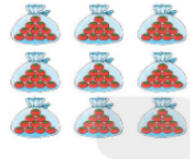
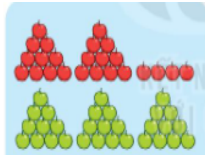


ĐỀ SỐ 6

Môn Toán - Thời gian làm bài: 40 phút

Câu 1: Số?



Câu 2: Em hãy đánh dấu X vào ô trống con Robot có số đo cao nhất



Câu 3: Hãy khoanh tròn vào ý đúng

Lớp 1D có 20 bạn trai và 18 bạn gái. Hỏi lớp 1D có tất cả bao nhiêu bạn?

Trả lời: Lớp 1D có.....bạn

A. 28 bạn

B. 38 bạn

C. 30 bạn

Câu 4: Tính


$37 + 32 =$

$20 + 60 =$

$67 - 5 =$

$99 - 89 =$

Câu 5: Nối các bông nấm có kết quả tương ứng trong ô vuông



35



67



34



50

Câu 6: Đọc đúng các số sau

38:.....









99:.....

67:.....

100:.....

55:.....

Câu 7: Hãy nối con vật ăn tương ứng với loại thức ăn của nó

	<input type="text" value="50"/>	
	<input type="text" value="5"/>	
	<input type="text" value="15"/>	
	<input type="text" value="7"/>	

Câu 8: Đúng ghi Đ, Sai ghi S vào ô trống

Quyển sách Toán lớp 1 của em dài khoảng.....

- A. 25 cm. B. 2 gang tay C. 15cm D. 30 cm

Câu 9: Mẹ đi chợ mua 3 chục bát to và 15 cái bát nhỏ. Hỏi mẹ mua tất cả bao nhiêu cái bát:

Trả lời:

--	--	--	--	--

Câu 10: Với các số và các dấu tính trong ô vuông. Hãy lập thành các phép tính cộng và phép trừ có kết quả phù hợp

--	--	--	--	--

--	--	--	--	--

--	--	--	--	--

--	--	--	--	--