

## ĐỀ SỐ 8

Môn Toán - Thời gian làm bài: 40 phút

**Câu 1:**

Số.

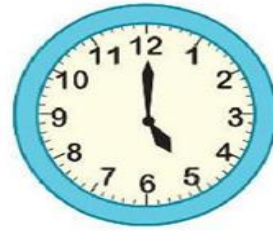
32 gồm .....chục và .....đơn vị

67 gồm .....chục và .....đơn vị

.....gồm 8 chục và 1 đơn vị

.....gồm 9 chục và 0 đơn vị

**Câu 2:** Đồng hồ chỉ mấy giờ ?



.....

.....

.....

**Câu 3:** > < =

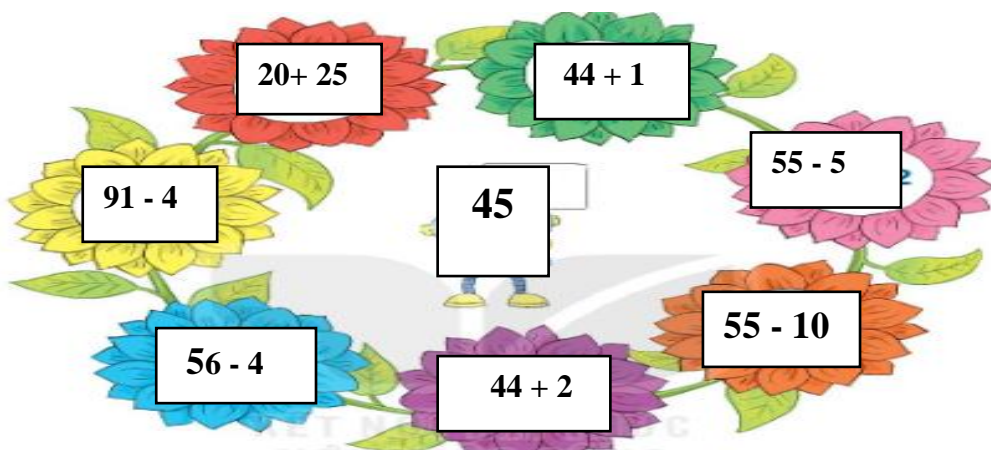
$35 - 22 \dots 25$

$70 \dots 60 + 23$

$55 + 2 \dots 57$

$48 + 10 \dots 81$

**Câu 4:** Nối phép tính ở các bông hoa có kết quả bằng 45 vào ô số 45



**Câu 5:** Đánh dấu X vào những ô trống ở mỗi tranh ghi phép tính có kết quả lớn hơn 17.



**Câu 6:** Đúng ghi Đ.sai ghi S


$41 \text{ cm} + 25 \text{ cm} = 56 \text{ cm}$

$67 \text{ cm} - 60 \text{ cm} = 17$

$23 \text{ cm} + 12 \text{ cm} = 53 \text{ cm}$

$34 \text{ cm} - 11 \text{ cm} = 2$

**Câu 7:** Khoanh vào ý đúng nhất: “*Có tất cả .....con vịt?*”



- A. 3 con vịt
- B. 2 con vịt
- C. 5 con vịt
- D. 5 con gà

**Câu 8:** Số....

23 , 24 , ..... 26,.....,28,.....,.....

10 ,12,.....,16,.....,.....,22

49,.....,47, ..... ,45, 44,.....

**Câu 9:** Viết phép tính thích hợp vào ô trống?



--	--	--	--	--

**Câu 10:** Với bốn số và các dấu tính trong ô vuông. Hãy lập thành các phép tính cộng và phép trừ cho phù hợp

69

57

12

45

- + =

--	--	--	--	--

--	--	--	--	--

--	--	--	--	--

--	--	--	--	--