




Thứ hai ngày 17 tháng 1 năm 2024

Toán

Bài 21: Số có hai chữ số (Tiết 1)



10 quả cà chua
1 chục quả cà chua



Viết số

Đọc số

Viết số

Đọc số



11

Mười một




16

Mười sáu



12

Mười hai



17

Mười bảy




13

Mười ba




18

Mười tám




14

Mười bốn



19

Mười chín



15

Mười lăm



20

Hai mươi


Các số đến 20

10, 11, 12, 13, 14, 15, 16, 17, 18, 19, 20.


1 chục = 10

2 chục = 20



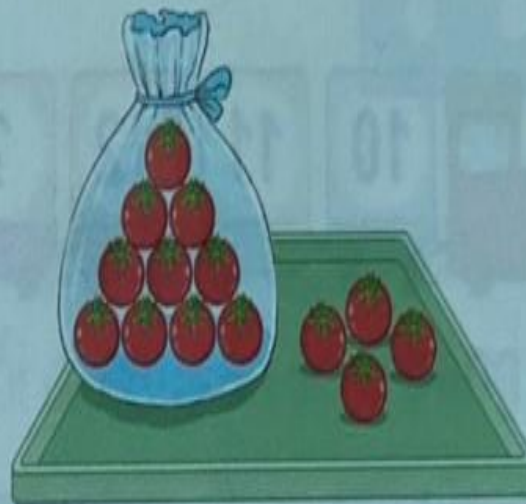
1 Biết mỗi  có 10 quả cà chua. Tìm số thích hợp (theo mẫu).

a)



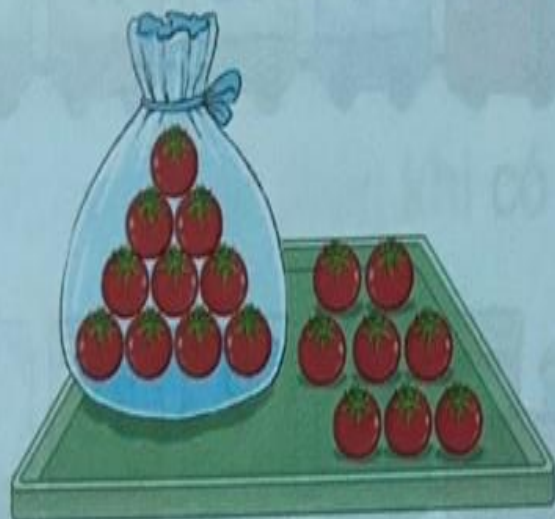
12

b)



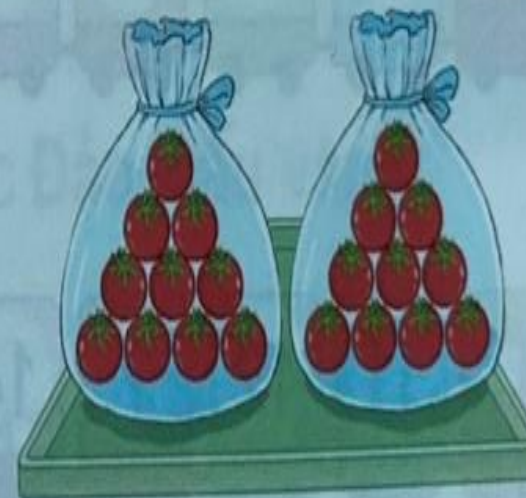
14

c)



18


d)



20

2 Số ?

a)



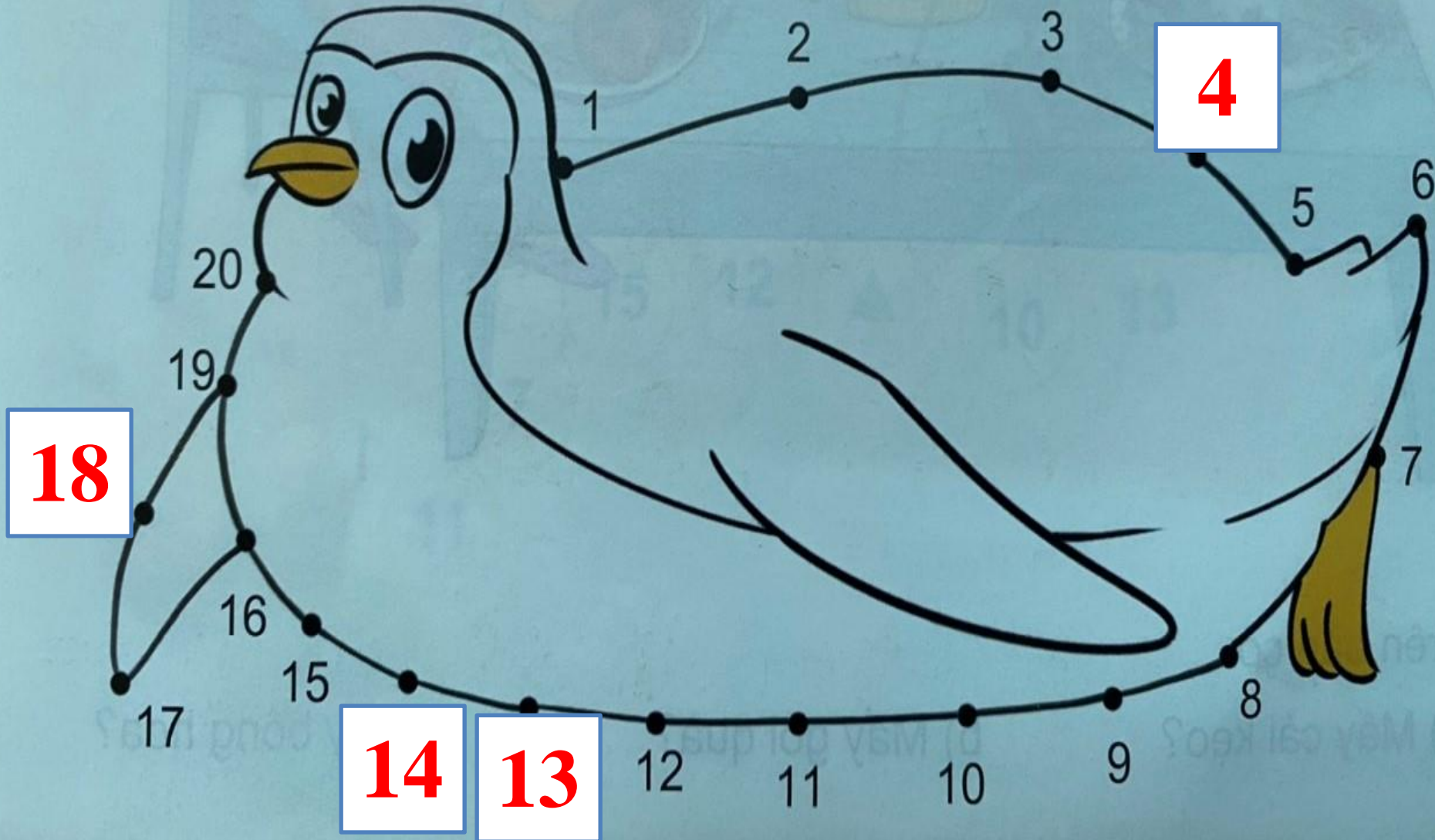
12 

b)



15 

3 Số ?





Thứ hai ngày 17 tháng 1 năm 2022

Toán

Bài 21: Số có hai chữ số (Tiết 2)





luyện tập

1 Số ?

a)
 A train with a red engine and five colorful cars. The cars contain the numbers 10, 11, 12, 13, and 14 in order. The numbers 13 and 14 are circled in orange.

b)
 A train with a red engine and five colorful cars. The cars contain the numbers 14, 15, 16, 17, and 18 in order. The numbers 14 and 15 are circled in orange.


c)
 A train with a red engine and five colorful cars. The cars contain the numbers 12, 13, 14, 15, and 16 in order. The numbers 14 and 15 are circled in orange.

d)
 A train with a red engine and five colorful cars. The cars contain the numbers 15, 16, 17, 18, and 19 in order. The numbers 18 and 19 are circled in orange.

e)
 A train with a red engine and five colorful cars. The cars contain the numbers 11, 12, 13, 14, and 15 in order. The numbers 13 and 15 are circled in orange.

g)
 A train with a red engine and five colorful cars. The cars contain the numbers 16, 17, 18, 19, and 20 in order. The numbers 16 and 17 are circled in orange.

2 Quan sát tranh rồi trả lời.




Trên bàn có?

a) **Mấy cái kẹo?** b) **Mấy gói quà?** c) **Mấy bông hoa?**

a) Có 15 cái kẹo b) Có 4 gói quà c) Có 5 bông hoa



TRÒ CHƠI HỘP QUÀ BÍ MẬT



Mười còn gọi là?

1 chục



Bạn được
1 sticker

Hãy đọc số sau: 17

Mười bảy



Bạn được
1 cây bút
chì.



20 quả cà chua còn gọi là?

Hai chục quả cà chua





Có bao nhiêu bông hoa?

12 bông hoa



2 chục bằng bao nhiêu?

2 chục = 20



Thank you!

