

Họ và tên:.....Lớp: Số báo danh:

I. LÝ THUYẾT – TRẮC NGHIỆM: (4 điểm) Em hãy khoanh tròn chữ cái trước câu trả lời đúng nhất

Câu 1 (0,5 điểm) Muốn vẽ đoạn nằm ngang hoặc thẳng đứng, em nhấn giữ phím nào trong khi kéo thả chuột?

- A. Ctrl B. Caps lock C. Shift

Câu 2 (0,5 điểm) Một máy tính để bàn gồm mấy bộ phận:

- A. 2 B. 3 C. 4 D. 5

Câu 3 (0,5 điểm) Biểu tượng của phần mềm vẽ (Paint) là:







Câu 4 (0,5 điểm) Hình nào sau đây “cắm chuột” đúng cách:



Câu 5 (0,5 điểm) Có mấy cách tắt máy tính?

- A. 1 B. 2 C. 3

Câu 6 (1 điểm) Quan sát hình và nối đúng tên các bộ phận của máy tính.

 1	 2	 3	 4
a. Thân máy	b. Bàn phím	c. Chuột	d. Màn hình

Câu 7 (0,5 điểm) Hàng phím cơ sở gồm các phím nào:

- A. Các phím Q, W, E, R,....I, O, P

B. Các phím A, S, D, F,J, K, L


C. Các phím Z, X, C, VN, M

II. VẬN DỤNG – THỰC HÀNH (6 điểm)



1. Khởi động phần mềm vẽ (Paint)

2. Dùng công cụ công cụ đã học để vẽ ngôi nhà theo mẫu dưới đây và tô màu cho hình vẽ trên theo sở thích của em.



**MA TRẬN NỘI DUNG ĐỀ KIỂM TRA CUỐI HỌC KỲ I
MÔN TIN HỌC LỚP 3 NĂM HỌC 2023 -2024**

Mạch kiến thức, kĩ năng (Chủ đề)	Số câu Số điểm Câu số	Mức 1 (Nhận biết)		Mức 2 (Thông hiểu)		Mức 3 (Vận dụng)		Tổng	
		TN	TL	TN	TL	TN	TL	TN	TL
1. Máy tính và em	Số câu	3		1	2			4	2
	Số điểm	1,5		0,5	4			2	4
	Câu số	1,2,3		5	8,9				
2. Mạng máy tính và Internet	Số câu			2				2	
	Số điểm			1				1	
	Câu số			4,6					
3. Tổ chức lưu trữ, tìm kiếm và trao đổi thông tin	Số câu			1			1	1	1
	Số điểm			1			2	1	2
	Câu số			7			10		
Tổng	Số câu	3		4	2		1	7	3
	Số điểm	1,5		2,5	4		2	4	6

HƯỚNG DẪN CHẤM BÀI KIỂM TRA CUỐI HỌC KÌ I

Môn: Tin học - Lớp 3

Năm học 2023 – 2024

I. Trắc nghiệm (4 điểm)

Câu	1	2	3	4	5	6	7
Đáp án	C	C	A	D	A	C	A
Điểm	0,5	0,5	0,5	0,5	0,5	0,5	1

II. Tự luận: (6 điểm)

Câu 8: Mỗi ý đúng được 0,5 điểm

- Hàng phím số
- Hàng phím trên
- Hàng phím cơ sở
- Hàng phím dưới
- Hàng phím có phím cách

Câu 9: Mỗi ý đúng được 0,3 điểm

- Di chuyển chuột
- Nháy chuột
- Nháy nút phải chuột
- Nháy đúp chuột
- Kéo thả chuột

Câu 10: Mỗi ý đúng được 0,5 điểm

