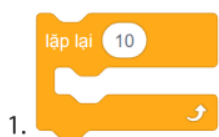




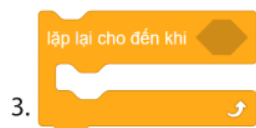
1. Em hãy ghép lệnh bên trái với mô tả tương ứng ở cột bên phải.



a. Khối lệnh trong vòng lặp được thực hiện cho đến khi điều kiện dừng lặp xảy ra.



b. Khối lệnh trong vòng lặp được thực hiện cho đến khi đủ số lần lặp.

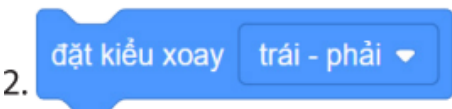


c. Khối lệnh trong vòng lặp được thực hiện không dừng lại.

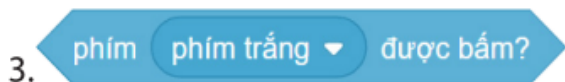
2. Ghép lệnh ở cột bên trái với tên nhóm lệnh tương ứng ở cột bên phải.



a. Cảm biến



b. Sự kiện



c. Chuyển động

3. Em hãy so sánh ý nghĩa của việc dừng chương trình (Hình 20.3b) bằng cách nhấn phím dấu cách và nhấp chuột vào nút lệnh dừng chương trình (Stop) .

-----

-----

-----

-----

-----

-----