

# TRƯỜNG TIỂU HỌC TÂN DÂN



## MÔN: TOÁN LỚP 4C

BÀI DẠY: PHÉP CỘNG CÁC SỐ CÓ NHIỀU CHỮ SỐ ( TIẾT 1 )  
NGÀY DẠY: 14/11/2023



**Giáo viên: HOÀNG THỊ HẢO**

# Khởi động



# Trò chơi







# CÁCH CHƠI

Trò chơi gồm có 3 câu hỏi trắc nghiệm.  
Để trả lời các câu hỏi này, các em hãy đưa ra  
kí hiệu KÉO - BÚA - BAO chứa đáp án đúng  
mà các em tìm được trước lớp nhé!






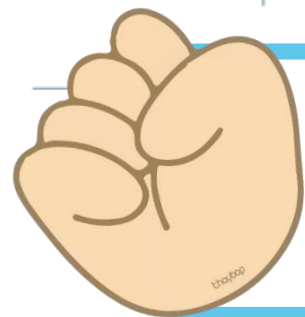
BẮT ĐẦU

CÂU 1

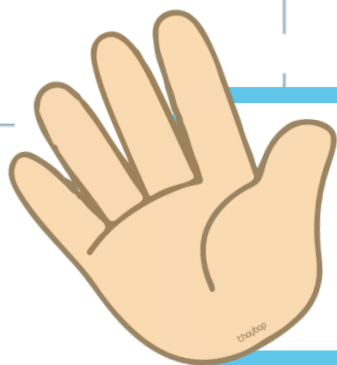
$$6\ 100 + 230 = ?$$



8 400




6 330



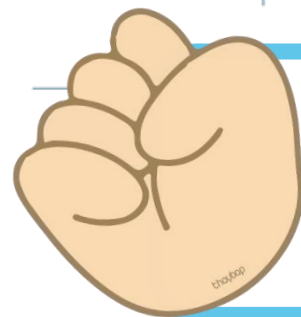
8 130

CÂU 2

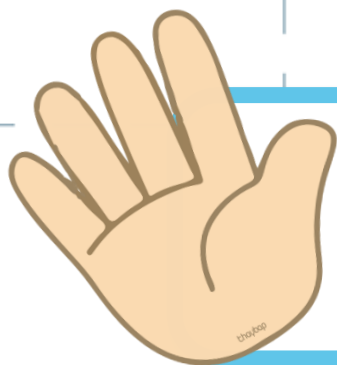
$$32\ 000 + 5\ 000 = ?$$



37 000



82 000




32 500

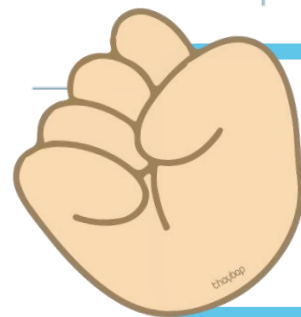


CÂU 3

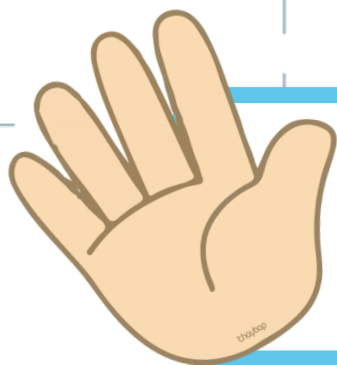
$$25\ 000 + 30\ 000 = ?$$



25 300




32 500



55 000







# Khám phá

a)

Ngày thứ nhất, trang trại thu được 180 510 l sữa. Ngày thứ hai, trang trại thu được 210 365 l sữa.

Cả hai ngày, trang trại thu được bao nhiêu lít sữa nhỉ?





*a) Ngày thứ nhất, trang trại thu được 180 510 l sữa.  
Ngày thứ hai, trang trại thu được 210 365 l sữa. Cả  
hai ngày, trang trại thu được bao nhiêu lít sữa?*



a)

$$180\ 510 + 210\ 365 = ?$$

$$\begin{array}{r} 180\ 510 \\ + 210\ 365 \\ \hline 390\ 875 \end{array}$$

\* 0 cộng 5 bằng 5, viết 5

\* 1 cộng 6 bằng 7, viết 7

\* 5 cộng 3 bằng 8, viết 8

\* 0 cộng 0 bằng 0, viết 0

\* 8 cộng 1 bằng 9, viết 9

\* 1 cộng 2 bằng 3, viết 3

$$180\ 510 + 210\ 365 = 390\ 875$$



**b)  $327\ 456 + 190\ 835 = ?$**

$$\begin{array}{r} 327\ 456 \\ + 190\ 835 \\ \hline 518\ 291 \end{array}$$

- \* 6 cộng 5 bằng 11, viết 1 nhớ 1
- \* 5 thêm 1 bằng 6, 6 cộng 3 bằng 9, viết 9
- \* 4 cộng 8 bằng 12, viết 2 nhớ 1
- \* 7 thêm 1 bằng 8, 8 cộng 0 bằng 8, viết 8
- \* 2 cộng 9 bằng 11, viết 1 nhớ 1.
- \* 3 thêm 1 bằng 4, 4 cộng 1 bằng 5, viết 5

$$327\ 456 + 190\ 835 = 518\ 291$$



# Khám phá

a)  $180\ 510 + 210\ 365 = ?$

b)  $327\ 456 + 190\ 835 = ?$

Phép cộng  
không  
nhớ.

$$\begin{array}{r} 180\ 510 \\ + 210\ 365 \\ \hline 390\ 875 \end{array}$$

$$\begin{array}{r} 327\ 456 \\ + 190\ 835 \\ \hline 518\ 291 \end{array}$$

Phép cộng  
có nhớ.

**\*Giống nhau:** Đều là phép cộng số có 6 chữ số với số có 6 chữ số. **\*Khác nhau:** Số thứ nhất có 6 chữ số với số có 6 chữ số.

Khi thực hiện phép cộng có nhớ cần nhớ sang hàng lớn hơn liền kề trước nó.

điều gì?





a)

$$\begin{array}{r} 674\ 185 \\ + 365\ 591 \\ \hline 939\ 776 \end{array}$$

Đ

b)

$$\begin{array}{r} 274\ 183 \\ + 365\ 591 \\ \hline 539\ 674 \end{array}$$

S



a)

$$\begin{array}{r} 674\ 185 \\ + 365\ 591 \\ \hline 939\ 776 \end{array}$$

b)

$$\begin{array}{r} 274\ 183 \\ + 365\ 591 \\ \hline 639\ 774 \end{array}$$







**Bài 1. Kết quả của phép tính ghi trên mỗi chiếc xô là số mi- li- lít sữa bò được chứa trong chiếc xô đó**

$$\begin{array}{r} 11\ 000 \\ +\ 3\ 000 \\ \hline \end{array}$$

A

$$\begin{array}{r} 9\ 360 \\ +\ 5\ 450 \\ \hline \end{array}$$

B

$$\begin{array}{r} 10\ 072 \\ +\ 3\ 580 \\ \hline \end{array}$$

C



**Xô nào chứa nhiều sữa bò nhất ? Xô nào chứa ít sữa bò nhất ?**

# Rung chuông vàng

## LUẬT CHƠI

Khi cô đưa ra câu hỏi các bạn suy nghĩ trong vòng 10 giây và viết đáp án của mình vào bảng con. Bạn nào có đáp án đúng sẽ được chơi tiếp vào các lần tiếp theo. Bạn nào có đáp sai bạn đó sẽ mất lượt chơi. Bạn có câu trả lời đúng cuối cùng bạn đó thắng cuộc!

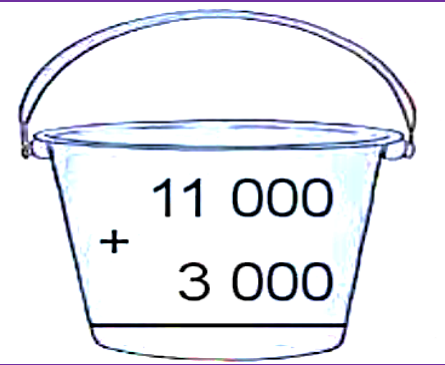


# Rung chuông vàng

Kết quả của phép tính ghi trên mỗi chiếc xô là số mi-li-lít sữa bò được chứa trong chiếc xô đó

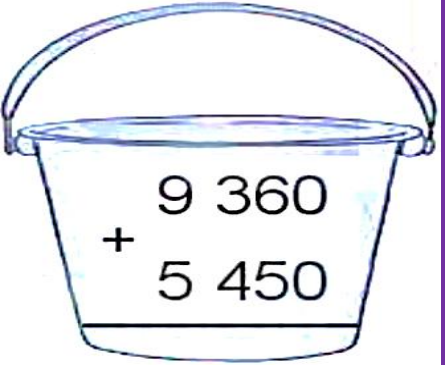
Xô nào chứa nhiều sữa bò nhất?

A


$$\begin{array}{r} 11\ 000 \\ +\ 3\ 000 \\ \hline \end{array}$$

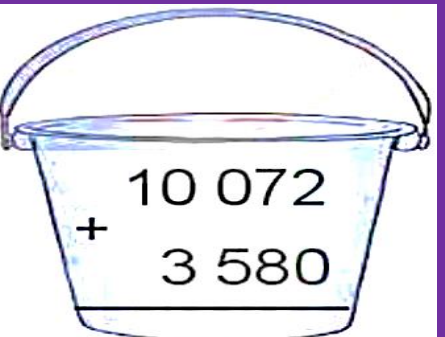
Bắt đầu

B


$$\begin{array}{r} 9\ 360 \\ +\ 5\ 450 \\ \hline \end{array}$$

Hết giờ

C


$$\begin{array}{r} 10\ 072 \\ +\ 3\ 580 \\ \hline \end{array}$$



# Rung chuông vàng

Kết quả của phép tính ghi trên mỗi chiếc xô là số mi-li-lít sữa bò được chứa trong chiếc xô đó

Xô nào chứa ít sữa bò nhất?

A

$$\begin{array}{r} 11\ 000 \\ + 3\ 000 \\ \hline \end{array}$$

Bắt đầu

B

$$\begin{array}{r} 9\ 360 \\ + 5\ 450 \\ \hline \end{array}$$

Hết giờ

C

$$\begin{array}{r} 10\ 072 \\ + 3\ 580 \\ \hline \end{array}$$



## Bài 2. Đặt tính rồi tính:

$$3\ 246 + 4\ 721$$

$$47\ 282 + 2\ 514$$

$$139\ 820 + 240\ 134$$

$$482\ 824 + 420\ 546$$





## Bài 2: Đặt tính rồi tính:

$$\begin{array}{r} 3246 \\ + 4721 \\ \hline 7967 \end{array}$$

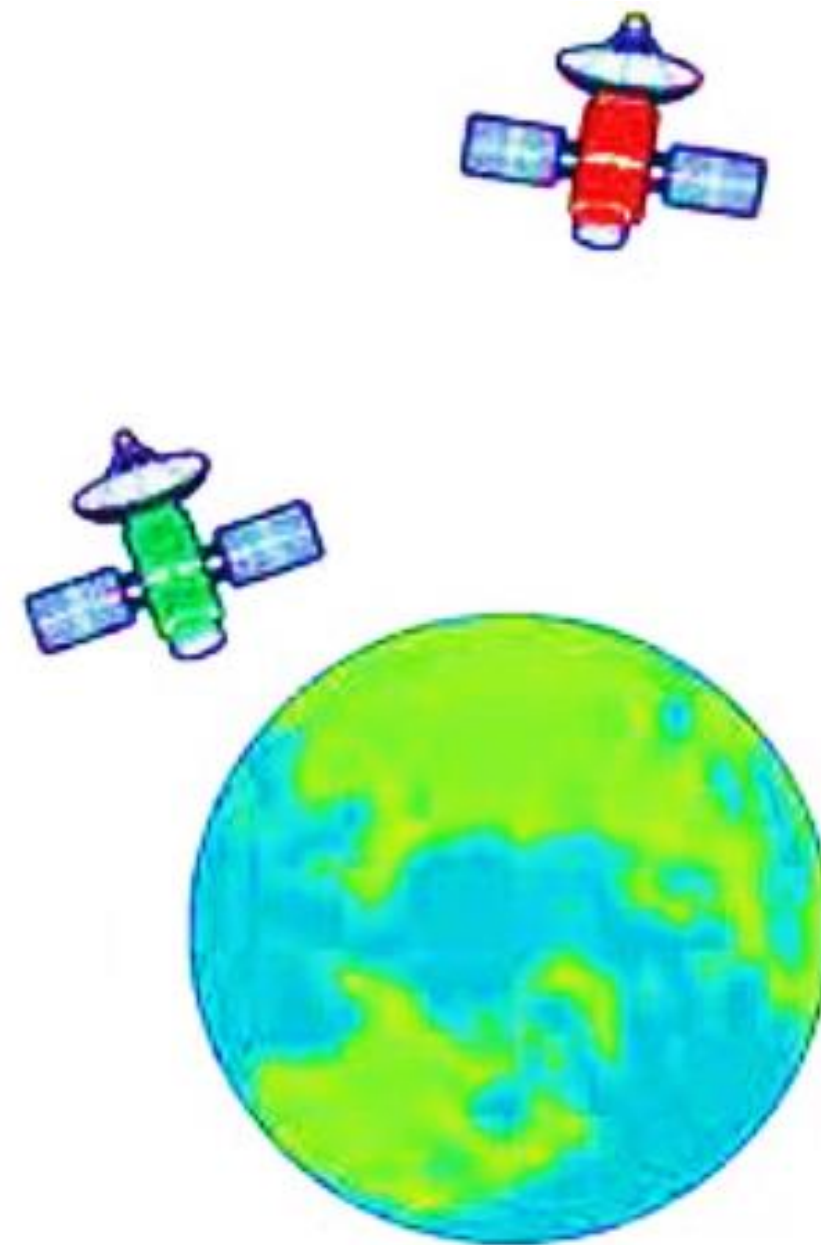
$$\begin{array}{r} 47282 \\ + 2514 \\ \hline 49796 \end{array}$$

$$\begin{array}{r} 139820 \\ + 240134 \\ \hline 379954 \end{array}$$

$$\begin{array}{r} 482824 \\ + 420546 \\ \hline 903370 \end{array}$$



**Bài 3.** Trong 1 phút, vệ tinh màu xanh bay được quãng đường dài 474 000 m, vệ tinh màu đỏ bay được quãng đường dài hơn vệ tinh màu xanh là 201 km. Hỏi trong 1 phút vệ tinh màu đỏ bay được quãng đường dài bao nhiêu mét ?





## Bài 3

### Bài giải

**Đổi:  $201 \text{ km} = 201\ 000 \text{ m}$**

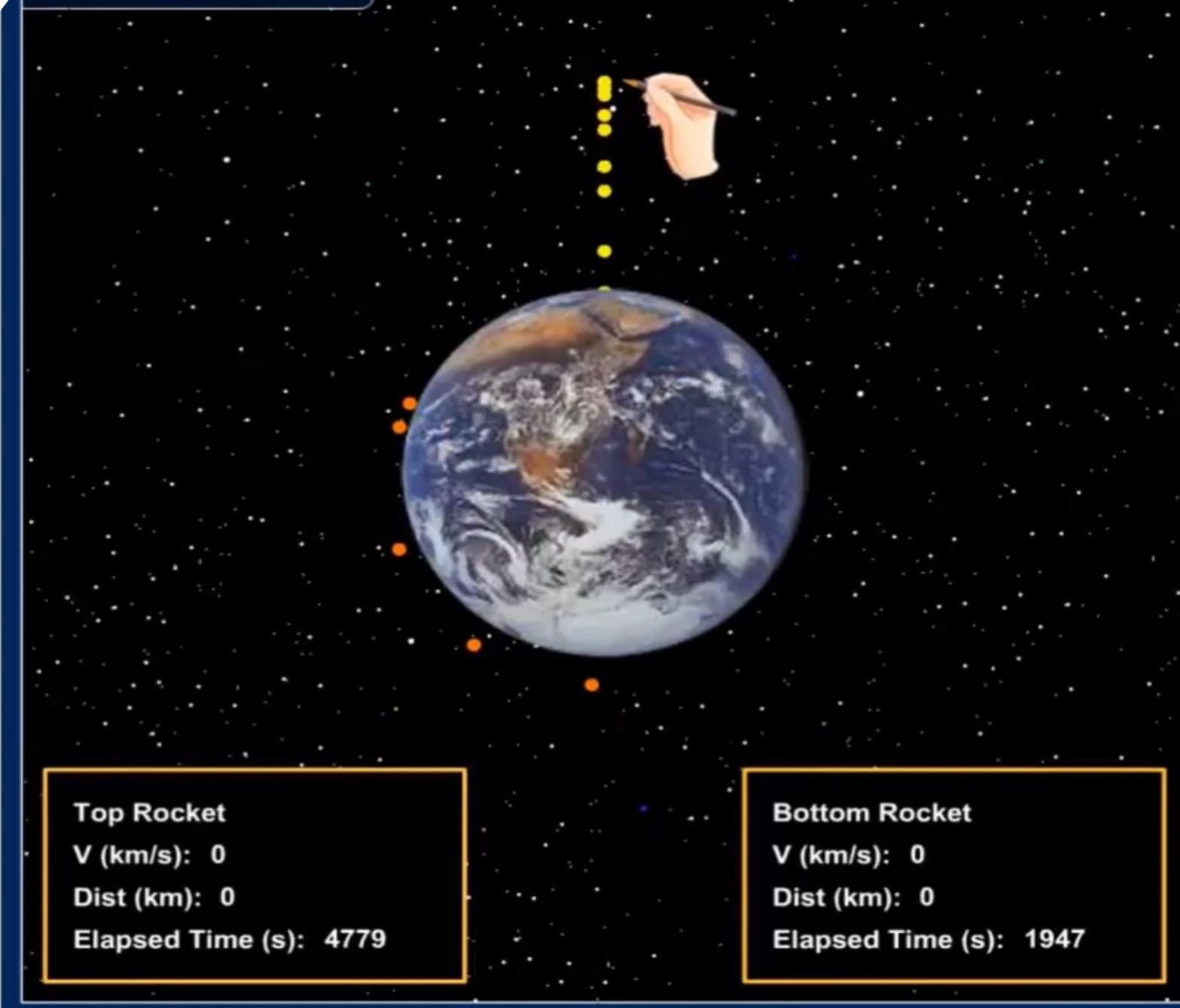
Trong một phút vệ tinh màu đỏ bay được quãng đường dài là:

$$474\ 000 + 201\ 000 = 675\ 000 \text{ (m)}$$

**Đáp số:  $675\ 000 \text{ m}$**



## Escape Velocity



**Top Rocket**  
V (km/s): 0  
Dist (km): 0  
Elapsed Time (s): 4779

**Bottom Rocket**  
V (km/s): 0  
Dist (km): 0  
Elapsed Time (s): 1947

$$V_{\text{escape}} = \sqrt{\frac{2 \times G \times M}{R}}$$
$$11.2 = \sqrt{\frac{2 \times 62.5 \times 1}{1}}$$

**Fire**   **Reset**

Initial Velocity: 7.6 km/sec

Mass: 1 Earth mass

Radius: 1 Earth radius

**Earth**   **Mars**  
**Mercury**   **Venus**



## HOẠT ĐỘNG VẬN DỤNG

Về nhà, tìm hiểu giá tiền của một số đồ dùng học tập (từ 2-3 đồ dùng học tập) mà em đã được mua hoặc dự định sắp mua. Tính tổng số tiền của các đồ dùng học tập đó.



THANK YOU