



LÀM QUEN VỚI BIỂU THỨC



KIỂM TRA BÀI CŨ

*** Đọc các bảng nhân, chia đã học.**

Làm quen với biểu thức

1) Ví dụ về biểu thức :

$126 + 51$; là *biểu thức* 126 ; cộng 51 ;

$62 - 11$ là *biểu thức*, 62 trừ 11 *biểu thức*.

13×3 *biểu thức* 13 nhân 3 .

$84 : 4$ *biểu thức* 84 chia 4 .

$125 + 10 - 4$ *là các biểu thức* 125 cộng 10 trừ 4 .

$45 : 5 + 7$ *biểu thức* 45 chia 5 cộng 7 .

Làm quen với biểu thức

1) Ví dụ về biểu thức :

$126 + 51; 62 - 11; 13 \times 3; 84 : 4;$

$125 + 10 - 4; 45 : 5 + 7; \dots$ là các *biểu thức*.

Kết luận:

- Biểu thức là một dãy các số và các dấu phép tính cộng, trừ, nhân, chia viết xen kẽ với nhau.
- Biểu thức có thể có một phép tính hoặc có nhiều phép tính.

Làm quen với biểu thức

1) Ví dụ về biểu thức:

$$126 + 51; 62 - 11; 13 \times 3; 84 : 4;$$

$125 + 10 - 4; 45 : 5 + 7; \dots$ là các *biểu thức*.

2) Giá trị của biểu thức :

$$126 + 51 = 177$$

Giá trị của biểu thức $126 + 51$ là **177**.

$$125 + 10 - 4 = 131$$

Giá trị của biểu thức $125 + 10 - 4$ là **131**.

2) Giá trị của biểu thức :

$$13 \times 3 = 39$$

Giá trị của biểu thức 13×3 là **39**.

$$45 : 5 + 7 = 16$$

Giá trị của biểu thức $45 : 5 + 7$ là **16**.

Làm quen với biểu thức

*Kết luận:

- Biểu thức là một dãy các số và các dấu phép tính cộng, trừ, nhân, chia viết xen kẽ với nhau.
- Biểu thức có thể có một phép tính hoặc có nhiều phép tính.
- Việc đi tìm kết quả của phép tính chính là đi tìm giá trị của biểu thức.

Làm quen với biểu thức

Bài 1: Tìm giá trị của mỗi biểu thức sau (theo mẫu):

Mẫu:

$$284 + 10 = 294$$

Giá trị của biểu thức $284 + 10$ là **294**.

a) $125 + 18 = 143$

Giá trị của biểu thức $125 + 18$ là **143**.

b) $161 - 150 = 11$

Giá trị của biểu thức $161 - 150$ là **11**.

c) $21 \times 4 = 84$

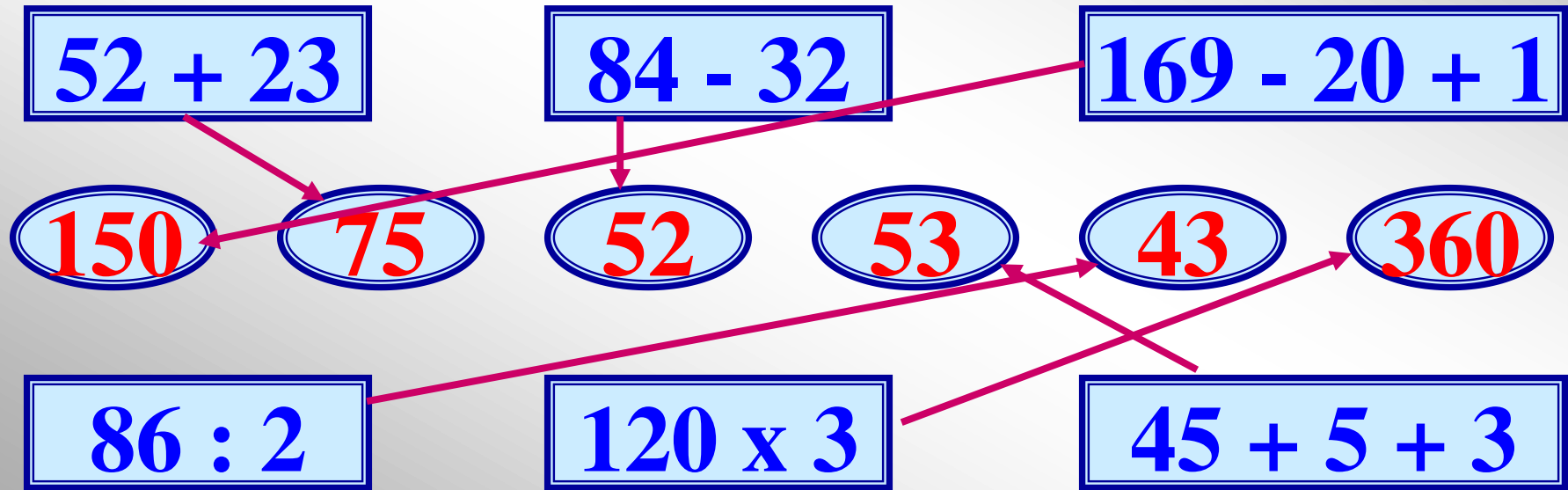
Giá trị của biểu thức
 21×4 là **84**.

d) $48 : 2 = 24$

Giá trị của biểu thức
 $48 : 2$ là **24**.

Làm quen với biểu thức

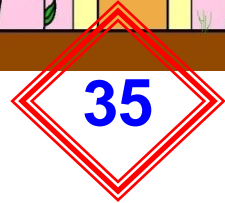
Bài 2: Mỗi biểu thức sau có giá trị là số nào ?




Làm quen với biểu thức



Trò chơi: Tìm nhà cho các con vật



$150+5$



$40 - 5$



$10-5-3$



5×5

CHÀO CÁC EM!

