



**BÀI 7: HÌNH VUÔNG, HÌNH TRÒN,  
HÌNH TAM GIÁC, HÌNH CHỮ NHẬT  
(Tiết 1)**



# Khám phá



Hình vuông



Hình tròn





Hình tam giác




Hình chữ nhật











<p>Trường .....</p> <p>Lớp : _____</p> <p>Tập : _____</p> <p>Họ Tên: _____</p> <p>Năm học: 20..- 20..</p>	<p>Trường .....</p> <p>Lớp : _____</p> <p>Tập : _____</p> <p>Họ Tên: _____</p> <p>Năm học: 20..- 20..</p>
<p>Trường .....</p> <p>Lớp : _____</p> <p>Tập : _____</p> <p>Họ Tên: _____</p> <p>Năm học: 20..- 20..</p>	<p>Trường .....</p> <p>Lớp : _____</p> <p>Tập : _____</p> <p>Họ Tên: _____</p> <p>Năm học: 20..- 20..</p>



1 Mỗi đồ vật có dạng hình gì?



Hình vuông



Hình tròn



Hình chữ nhật



Hình tam giác



2 a) Những hình nào là hình tròn?



A



B



C



D



E

b) Những hình nào là hình tam giác?



A



B



C



D



E



c) Những hình nào là hình vuông?



A



B



C




D



E

d) Những hình nào là hình chữ nhật?



A



B



C




D




E


3 Trong hình sau có bao nhiêu hình vuông?  
Bao nhiêu hình tròn? Bao nhiêu hình tam giác?



3



2



7




CHÀO TẠM BIỆT CÁC EM


# BÀI 7: HÌNH VUÔNG, HÌNH TRÒN, HÌNH TAM GIÁC, HÌNH CHỮ NHẬT (Tiết 2)




**1** Có bao nhiêu hình tròn? Bao nhiêu hình vuông? Bao nhiêu hình tam giác?  
Bao nhiêu hình chữ nhật?




3



4

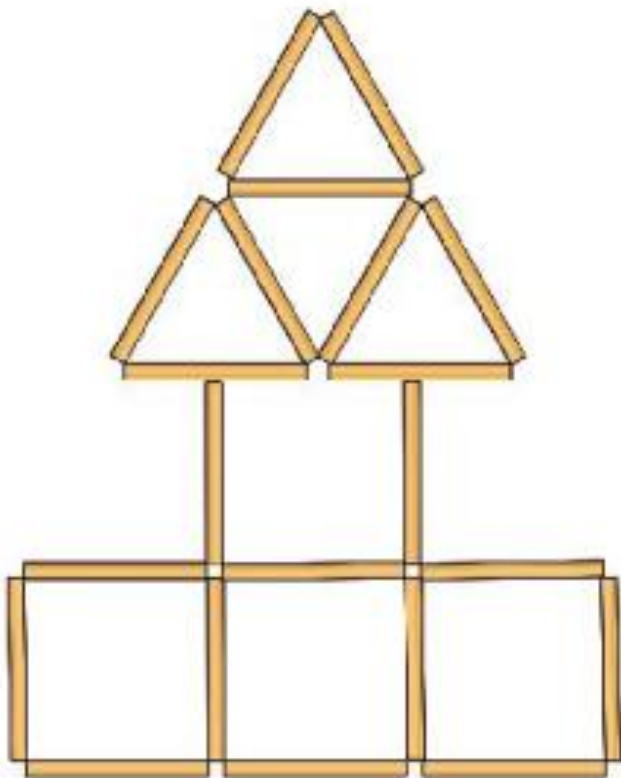


3



2

2 Các que tính được xếp thành hình dưới đây. Trong hình đó có bao nhiêu hình vuông? Bao nhiêu hình tam giác?



4




5

**3** Có bao nhiêu hình vuông, hình tròn, hình tam giác, hình chữ nhật trong mỗi hình sau?

a)




0



2



3




1

b)



0



1




3




1




c)




0



2

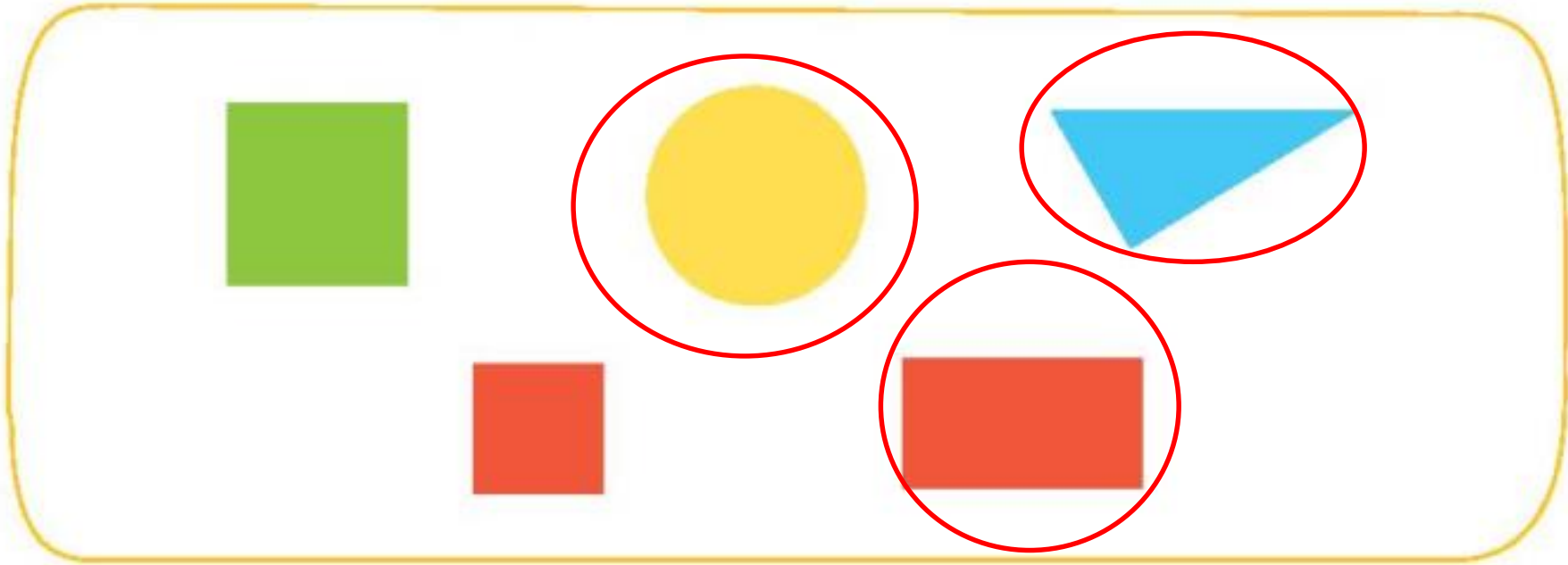


1



3

4 Những hình nào không là hình vuông?





CHÀO TẠM BIỆT CÁC EM