

Chào mừng quý thầy cô về dự giờ thăm lớp 1C

Môn : Toán
Bài 5: Máy và máy (tiết 2)

GV: Hoàng Thị Sen

Tân Dân, ngày 10 tháng 10 năm 2024




Thứ Năm, ngày 10 tháng 10 năm 2024

Toán: **Bài 5: Máy và máy (Tiết 2)**



Đếm cá theo màu sắc



Có 5 con cá:


gồm 2 con cá màu hồng
và 3 con cá màu vàng.

5 gồm **2** và **3**

5 gồm **3** và **2**



Đếm cá theo kích cỡ (to, nhỏ)



Có 5 con cá:
gồm 1 con cá to và 4 con cá nhỏ.


5 gồm 1 và 4

5 gồm 4 và 1



1. Số ?

4	
1	?
?	?
?	?






hoạt động

1. Số ?

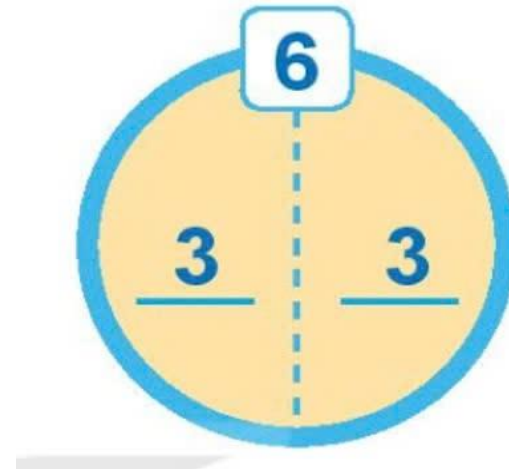
4

1	3
3	1
2	2



2. Số ?

Lấy 6 que tính. Tách que tính đó thành hai nhóm. Tìm số que tính ở mỗi nhóm (theo mẫu)



2. Số ?

Lấy 6 que tính. Tách que tính đó thành hai nhóm. Tìm số que tính ở mỗi nhóm (theo mẫu)



Vận dụng- trải nghiệm

