

*Chào mừng các em đến
với
Môn Toán*



CHƠI TRÓN TÌM CÙNG BẠCH TUYẾT VÀ 7 CHÚ Lùn



PLAY



Viết số: Năm mươi mốt

A. 501

B. 50

C. 15

D. 51

ĐÚNG RỒI



Bảy mươi tư

A. 704

B. 74

C. 47

D. 70



ĐÚNG RỒI

A vibrant forest scene with a wooden sign at the top. Below the sign are four yellow rounded rectangular boxes containing the options A.96, B. 69, C. 90, and D. 60. In the foreground, a yellow starburst with a red outline contains the text 'ĐÚNG RỒI'. The background features several trees, a white rabbit, a brown squirrel, and a brown deer. On the left, Snow White is partially visible, and a dwarf is peeking from behind a tree.

Chín chục và sáu đơn vị

A.96

B. 69

C. 90

D. 60

ĐÚNG RỒI



Đọc số: 84

A. Tám
chục bốn

B. Bốn
mươi tám

C. Tám
mươi tư

D. Tám
chục tư

ĐÚNG RỒI



Chín chục, ba đơn vị

A.90

B.93

C.39

D.30

ĐÚNG RỒI



Năm mươi lăm

A.505


B.05

C.50

D.55



ĐÚNG RỒI



Số nào lộn ngược lại vẫn là chính nó?

A. 86

B. 69

C. 66

D. 33

ĐÚNG RỒI



Số nào bé nhất có hai chữ
số?

A. 10

B. 11

C. 12

D. 19



ĐÚNG RỒI



CHỦ ĐỀ
1


ÔN TẬP VÀ BỔ SUNG

BÀI 2: Tia số.
Số liền trước, số liền sau

TIẾT 1



KHÁM PHÁ



a)

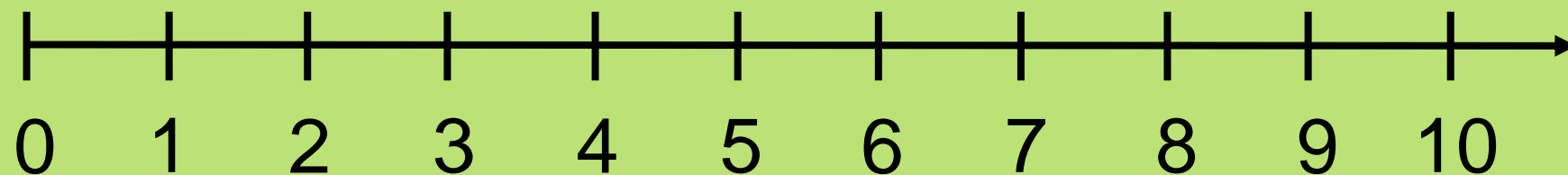
A! Các quả táo ghi số từ 0 đến 10.



Sắp xếp các số này như thế nào nhỉ?

*Rô- bốt đã sắp xếp các số theo thứ tự từ bé đến lớn
như hình sau:*

Đây là tia số.

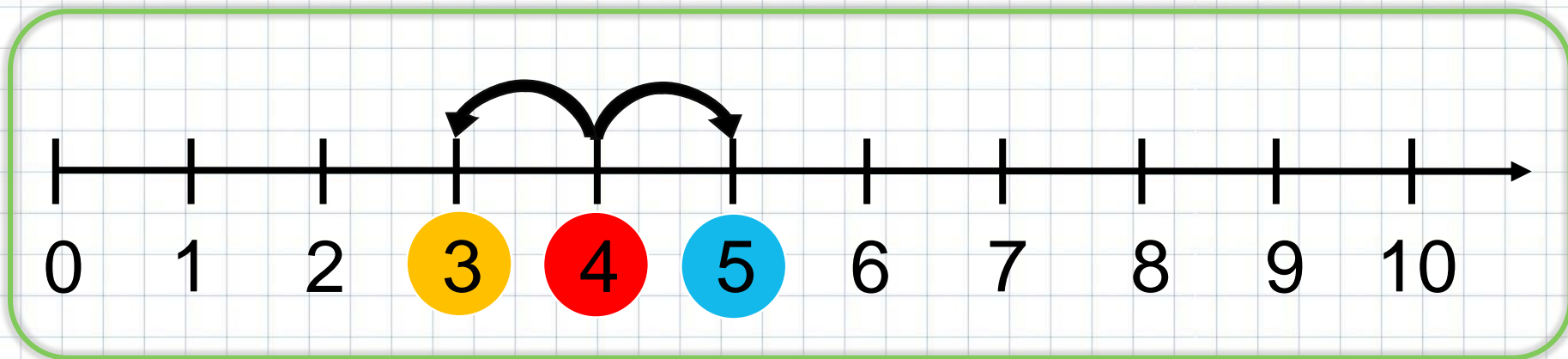


Trên tia số:

- Số 0 ở vạch đầu tiên, là số bé nhất.
- Mỗi số lớn hơn các số ở bên trái nó và bé hơn các số ở bên phải nó.




b)



Số liền trước của 4 là 3.

Số liền sau của 4 là 5.



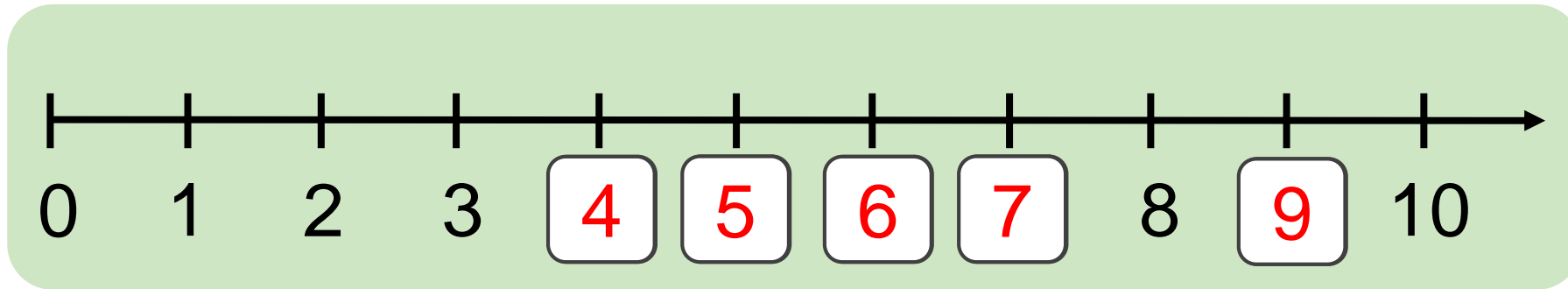
HOẠT ĐỘNG



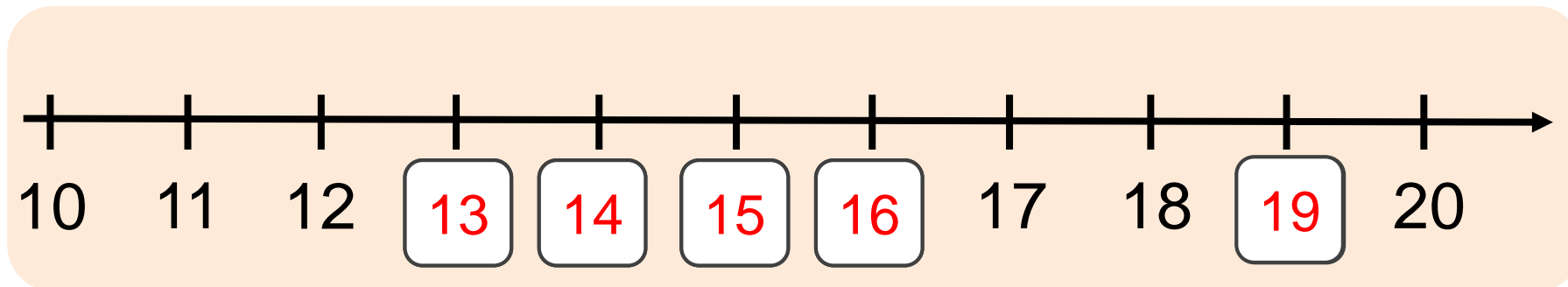


1 SỐ?

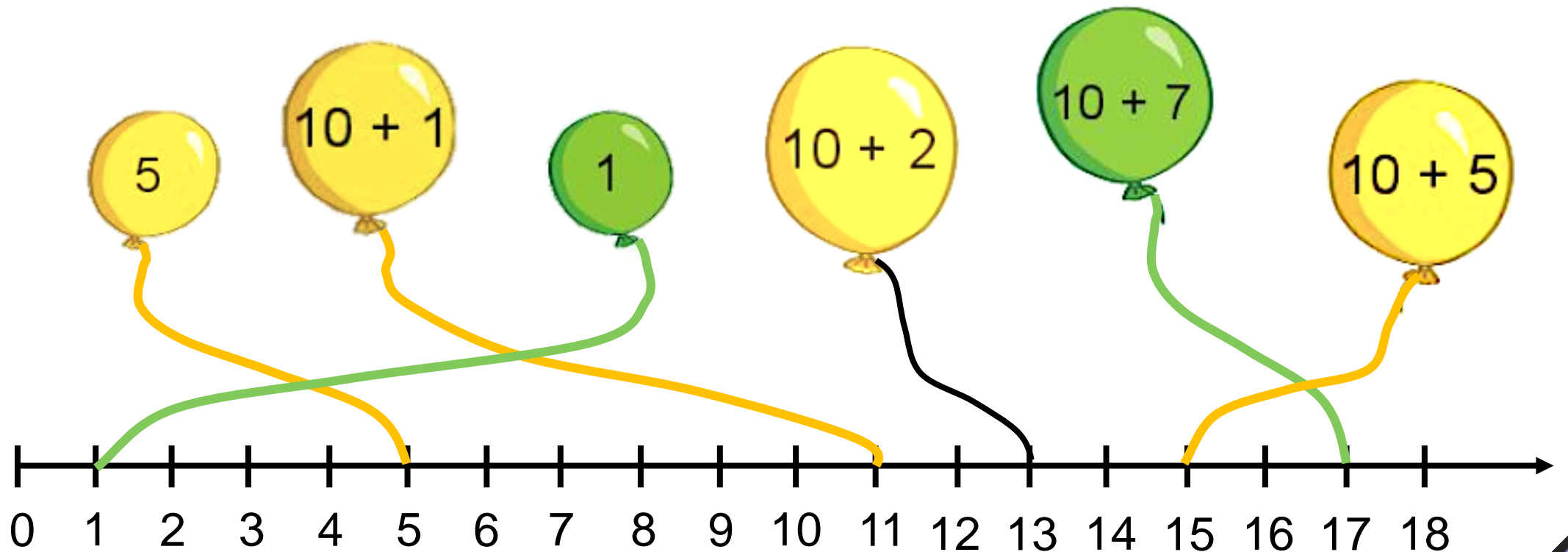
a)



b)



2 Mỗi quả bóng ứng với vạch nào trên tia số?



3

Đ, S?

a) Số liền trước của 16 là 15.

Đ

b) Số liền trước của 16 là 17.

S

c) Số liền sau của 18 là 17.

S

d) Số liền sau của 18 là 19.

Đ

e) Số liền trước của 1 là 0.

Đ

g) Số liền sau của 1 là 2.

Đ



Củng cố bài học

