

CHỦ ĐỀ  
2

PHÉP CỘNG, PHÉP TRỪ  
TRONG PHẠM VI 20



BÀI 7

PHÉP CỘNG (QUA 10)  
TRONG PHẠM VI 20







Khám phá



$$9 + 5 = ?$$

# Cách 1: Đếm tiếp



9


10 11 12 13 14




$$9 + 5 = 14$$

## Cách 2: Tách số

9



5



- Tách:  $5 = 1 + 4$
- $9 + 1 = 10$
- $10 + 4 = 14$

$$9 + 5 = 14$$

10

4



HOẠT

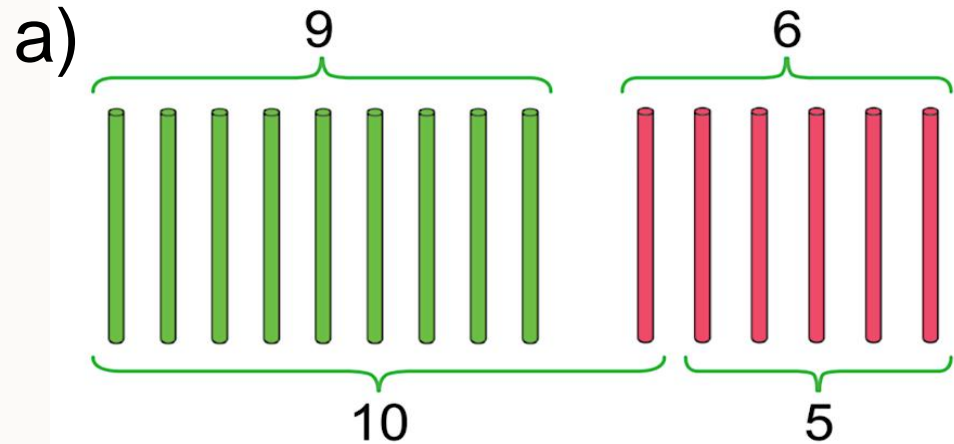
ĐỘNG

G





# 1 Tính



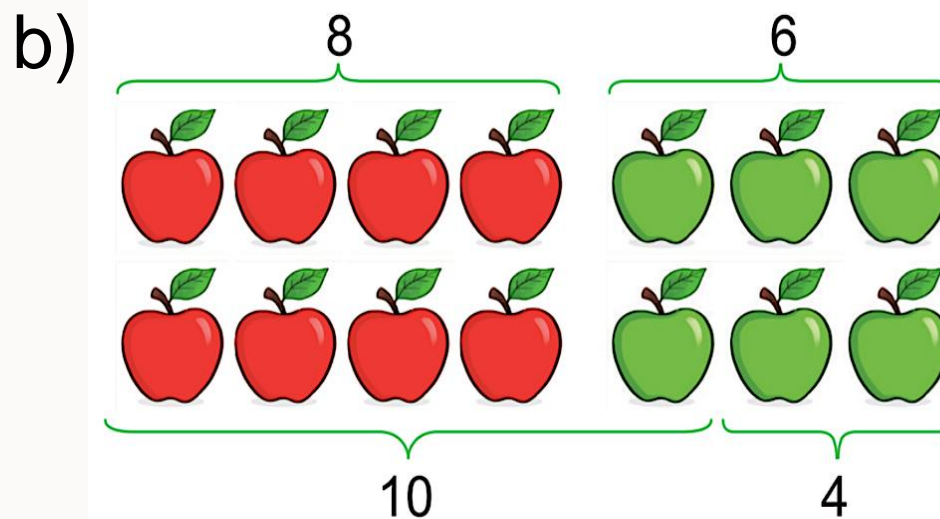
- Tách:  $6 = 2 + 4$
- $8 + 2 = 10$
- $10 + 4 = 14$
- $8 + 6 = 14$

- Tách:  $6 = 1 + 5$

- $9 + 1 = 10$

- $10 + 5 = 15$

- $9 + 6 = 15$



2 a) Tính  $9 + 2$

Đếm tiếp: 9, 10, **11**

b) Tính:  $9 + 3$

• Tách:  $3 = 1 + 2$

•  $9 + 1 = 10$

•  $10 + 2 = 12$

•  $9 + 3 = 12$

$$9 + 2 = 11$$

$9 + 7$

• Tách:  $7 = 1 + 6$

•  $9 + 1 = 10$

•  $10 + 6 = 16$

•  $9 + 7 = 16$

c)  $8 + 3 = 11$

$8 + 5 = 13$

$9 + 4 = 13$

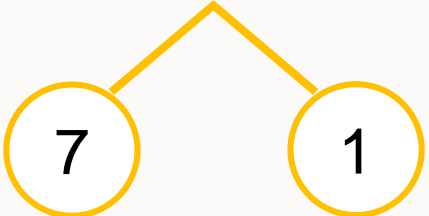


LUYỆ  
N TẬP



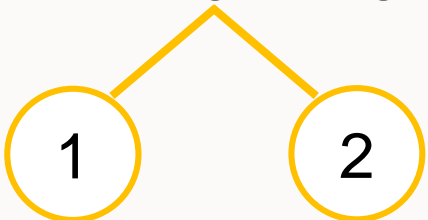
# 1 Tính $3 + 8$

• Cách 1:  $3 + 8 = 10 + 1 = 11$



```
graph TD; 8 --- 7; 8 --- 1; 3 --- 10; 7 --- 10; 10 --- 11; 1 --- 11;
```

• Cách 2:  $3 + 8 = 1 + 10 = 11$



```
graph TD; 3 --- 1; 3 --- 2; 2 --- 10; 8 --- 10; 10 --- 11; 1 --- 11;
```

## 2 SỐ?

+	9	9	9	9	9	9	9	9
	2	3	4	5	6	7	8	9
	11	12	13	14	15	16	17	18

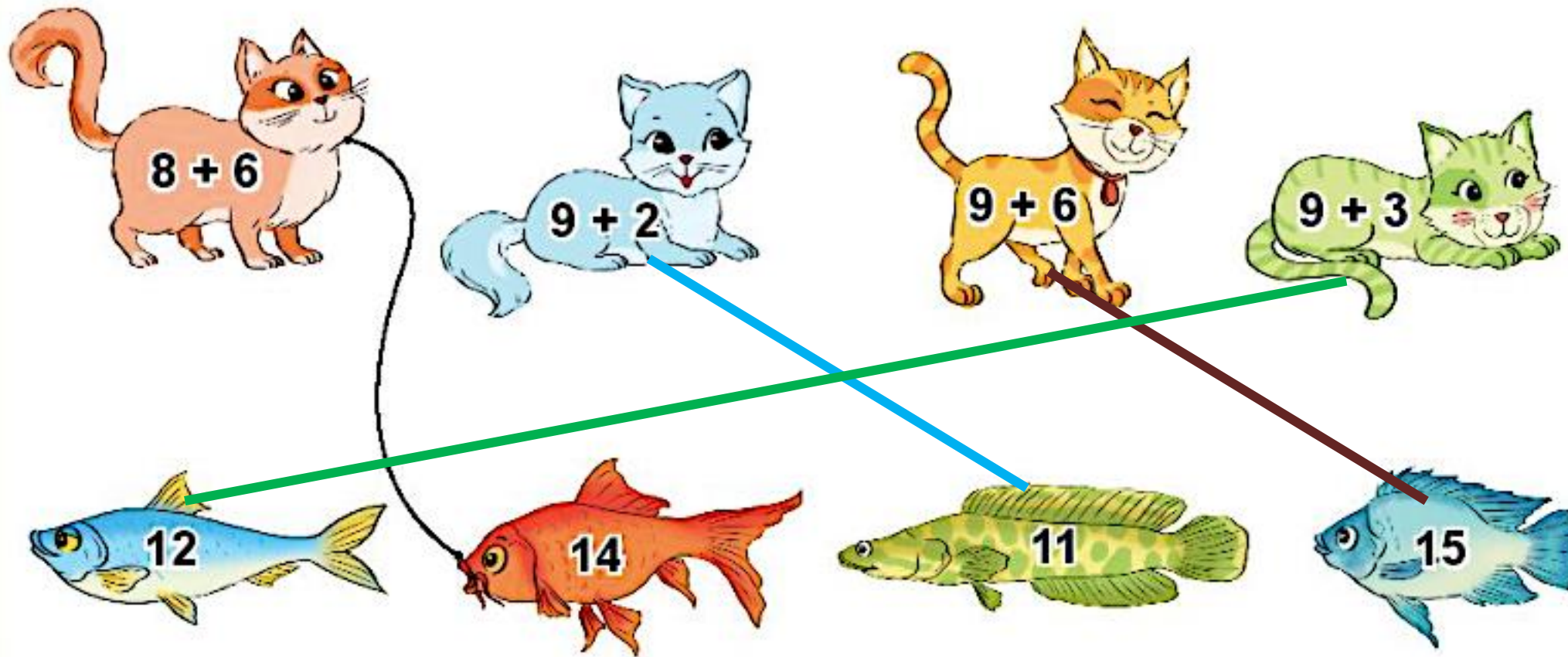
## 3 Tính:

a)  $9 + 5 + 3 = 17$

b)  $6 + 3 + 4 = 13$

c)  $10 - 2 + 5 = 13$

4 Tìm cá cho mèo.



5 Số?

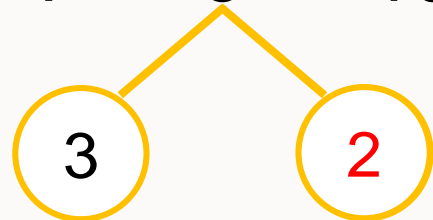


$$8 + 4 = 12$$

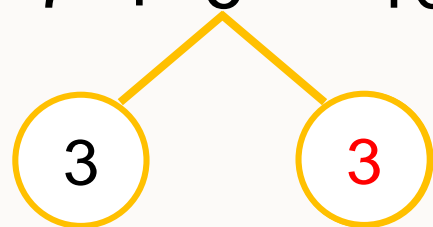
LUYỆ  
N TẬP



1 a) Tính  $7 + 5$

$$7 + 5 = 10 + \boxed{2} = \boxed{12}$$


b) Tính  $7 + 6$

$$7 + 6 = 10 + \boxed{3} = \boxed{13}$$


## 2 a) Số?

Số hạng	7	7	7	7	7	7
Số hạng	4	5	6	7	8	9
Tổng	11	12	13	14	15	16

b) Mai tách 14 que tính thành hai nhóm. Em hãy tìm số que tính ở nhóm 2 trong bảng sau:

Nhóm 1	Nhóm 2
10	4
9	5
8	6
7	7





3 a) Tính  $8 + 7$

$$8 + 7 = 15$$

2 5

c) Tính  $8 + 8$

$$8 + 8 = 16$$

2 6

b) Tính  $8 + 5$

$$8 + 5 = 13$$

2 3

d) Tính  $6 + 5$

$$6 + 5 = 11$$

4 1

4 SÓ?

+	8	8	8	8	8	8	8
	3	4	5	6	7	8	9
	11	12	13	14	15	16	17

5

Để giúp đỡ các bạn học sinh ở vùng khó khăn, lớp em đã quyên góp được 8 thùng quần áo và 5 thùng sách vở. Hỏi cả quần áo và sách vở, lớp em đã quyên góp được bao nhiêu thùng?



$$8 + 5 = 13$$

LUYỆ  
N TẬP

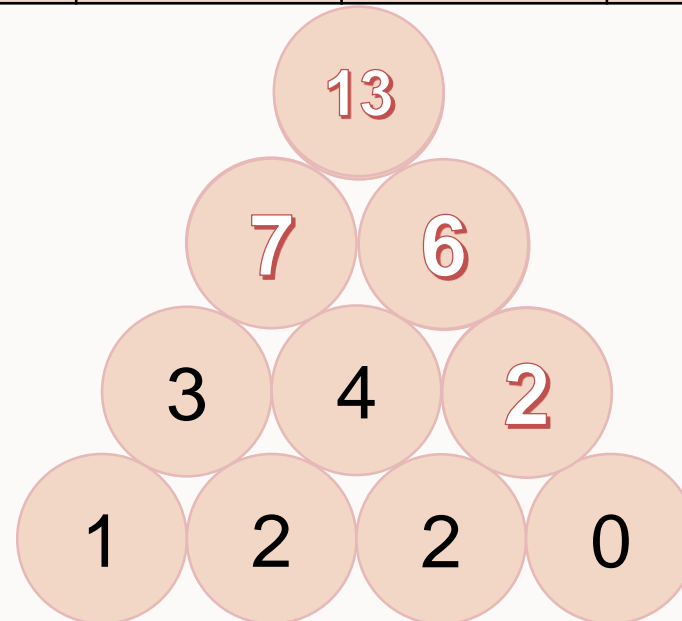
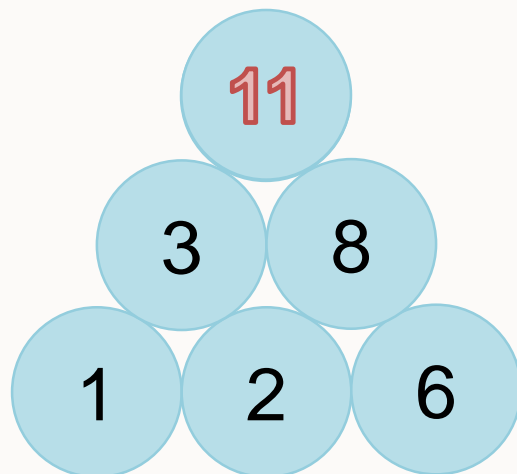


# 1 SỐ?

a)

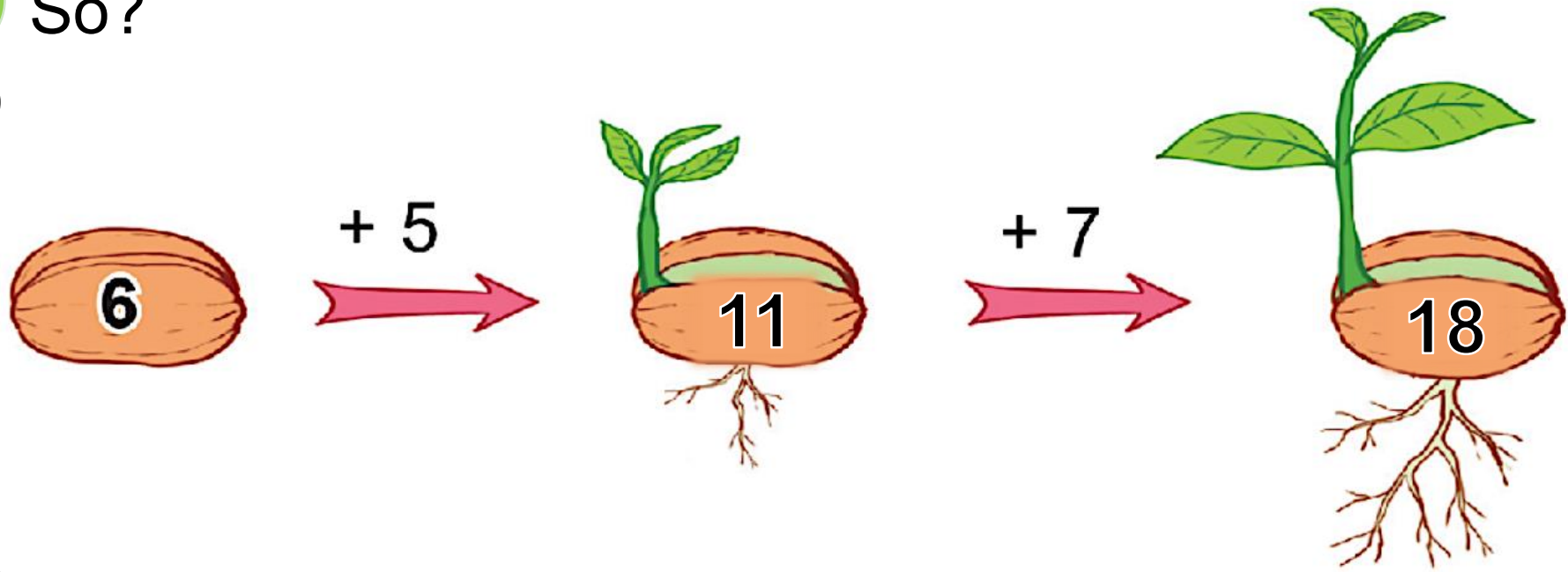
Số hạng	6	6	6	6	6	6
Số hạng	4	5	6	7	8	9
Tổng	10	11	12	13	14	16

b)

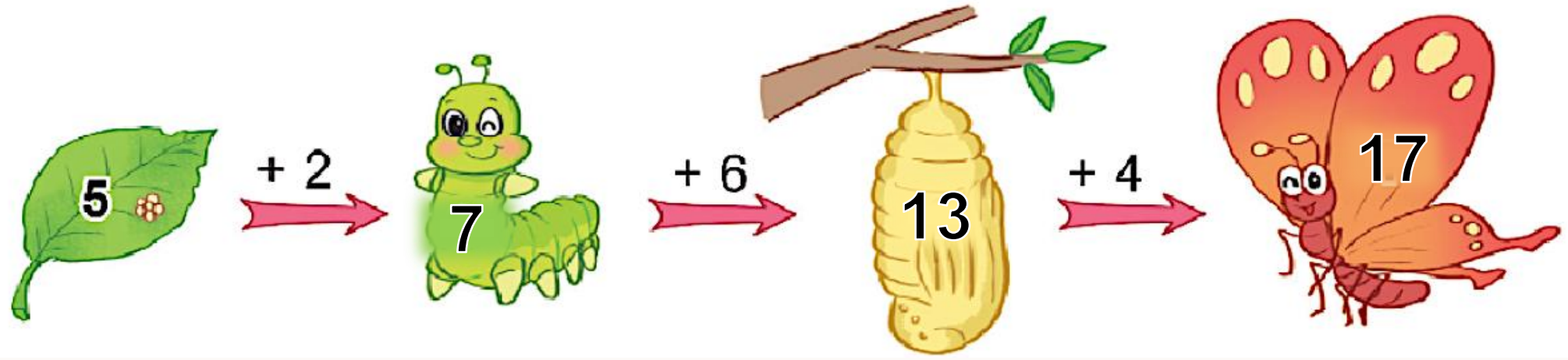


# 2 SỐ?

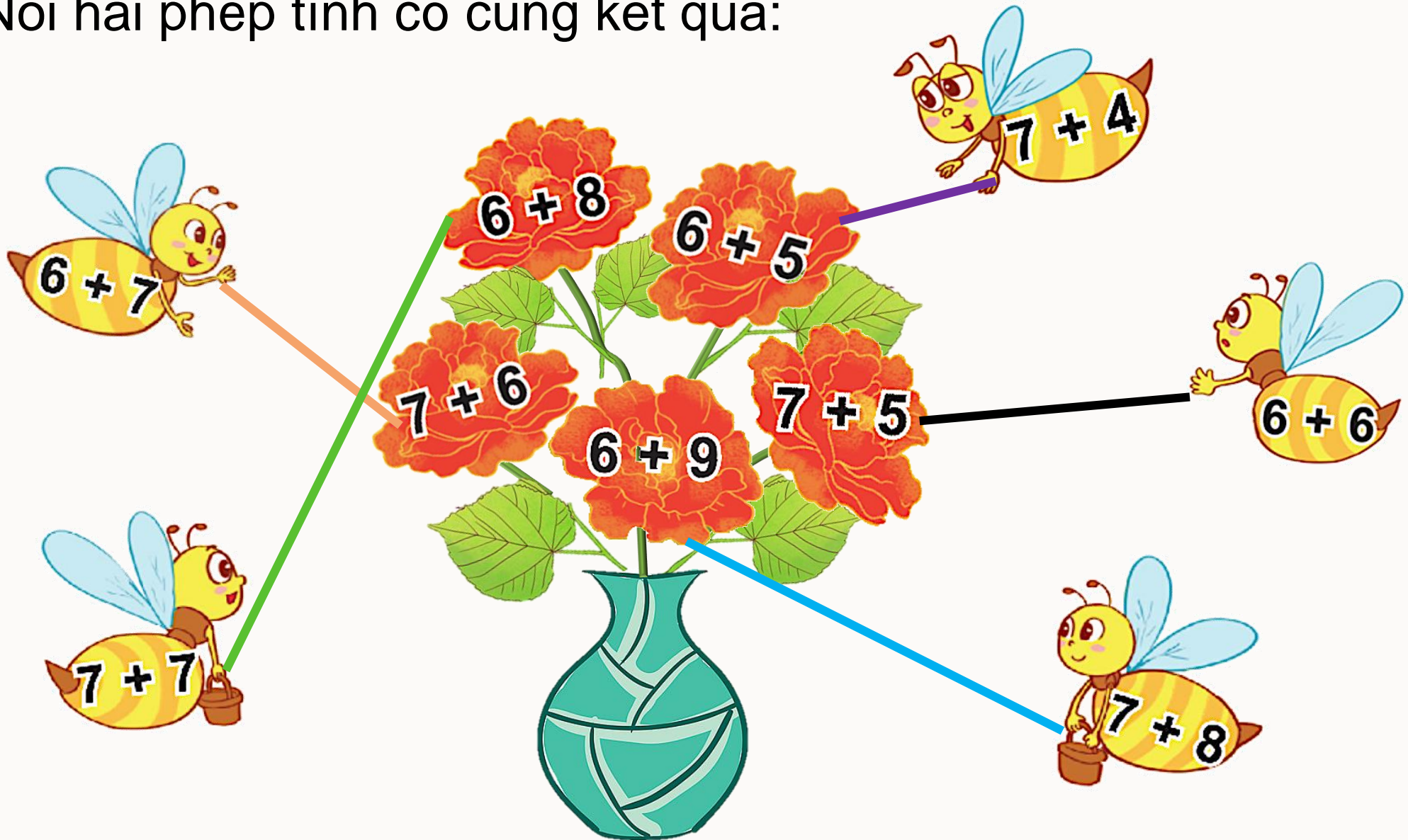
a)



b)



3 Nói hai phép tính có cùng kết quả:





4

Đoàn tàu chở hàng có 4 toa đã ra khỏi đường hầm, còn 7 toa ở trong đường hầm. Hỏi đoàn tàu đó có tất cả bao nhiêu toa?



$$4 + 7 = 11$$



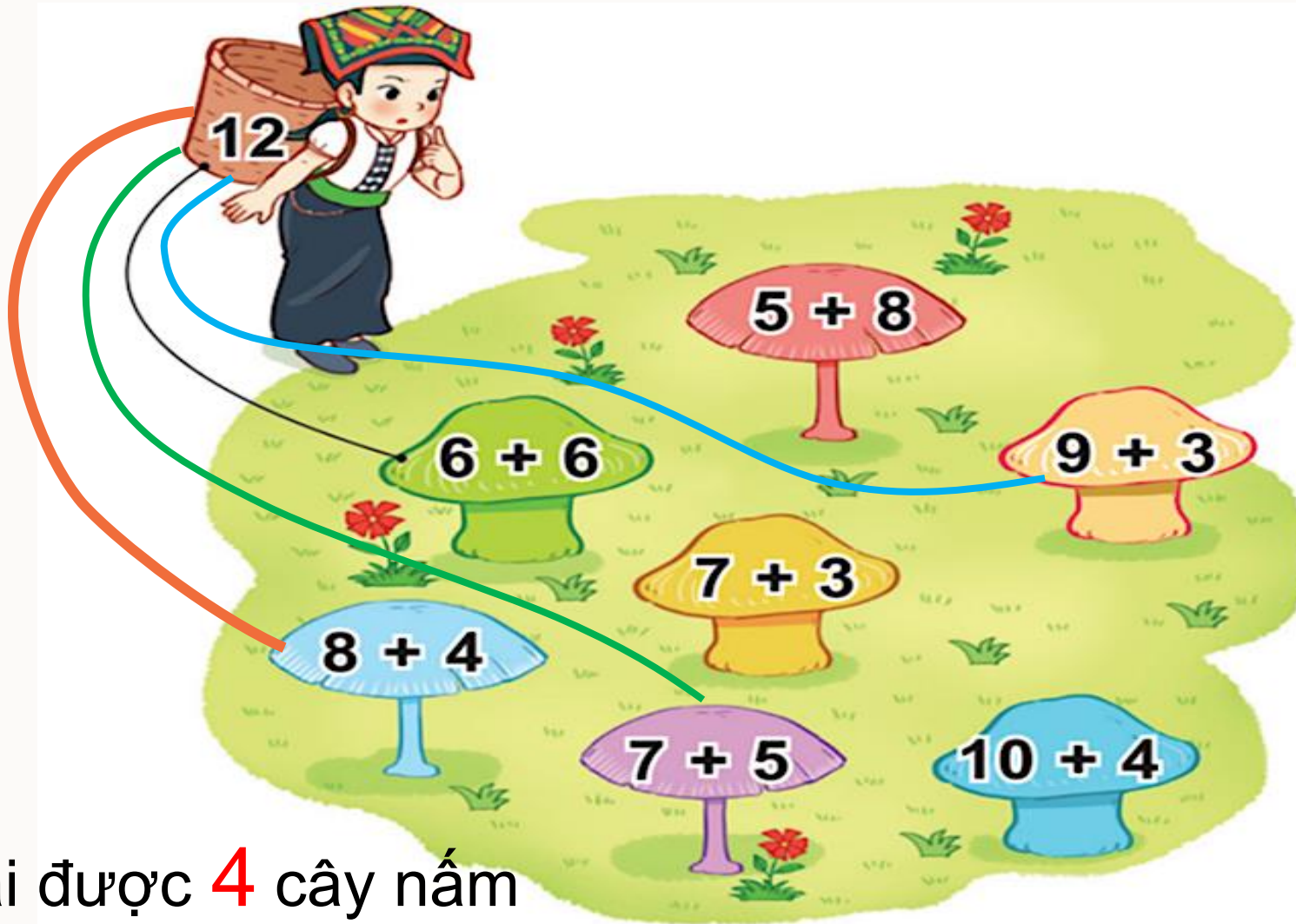
LUYỆ  
N TẬP



# 1 Số?

Số hạng	6	7	8	9	8	7
Số hạng	5	6	6	7	5	7
Tổng	11	13	14	16	13	14

2 Bạn Sao hái những cây nấm ghi phép tính có kết quả bằng 12.  
Hỏi bạn Sao hái được bao nhiêu cây nấm?



→ Sao hái được 4 cây nấm

3 b) Nhìn ghép chữ của các phép tính và ghi biểu thức đúng:



$$9 + 5 = 14$$

$$7 + 4 = 11$$

$$8 + 6 = 14$$

$$6 + 7 = 13$$

$$9 + 7 = 16$$

4 Hai con xúc xắc nào dưới đây có tổng số chấm ở các mặt trên bằng 11



$$6 + 5 = 11$$



$$4 + 5 = 9$$



$$5 + 3 = 8$$



$$3 + 5 = 8$$

