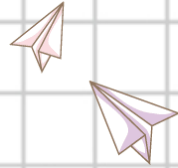


Chào mừng các em đến với Môn Toán



BÀI 20: Phép cộng (có nhớ)

Số có hai chữ số với số có hai chữ số





Tiết 2

Luyện tập

**luyện tập**

1 Đặt tính rồi tính.

$$36 + 36$$

$$\begin{array}{r} 36 \\ + 36 \\ \hline 72 \end{array}$$

$$73 + 17$$

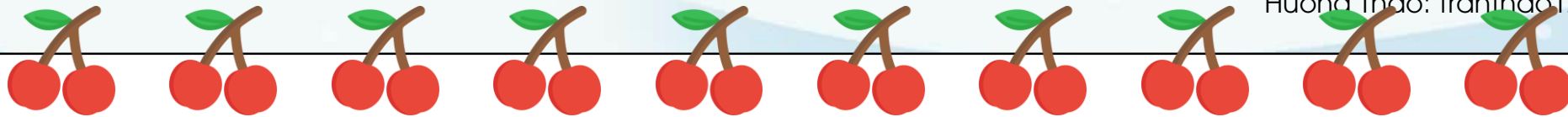
$$\begin{array}{r} 73 \\ + 17 \\ \hline 90 \end{array}$$

$$28 + 53$$

$$\begin{array}{r} 28 \\ + 53 \\ \hline 81 \end{array}$$

$$25 + 35$$

$$\begin{array}{r} 25 \\ + 35 \\ \hline 60 \end{array}$$



2 Con tàu nào ghi kết quả đúng?



$$65 + 5 = 70$$

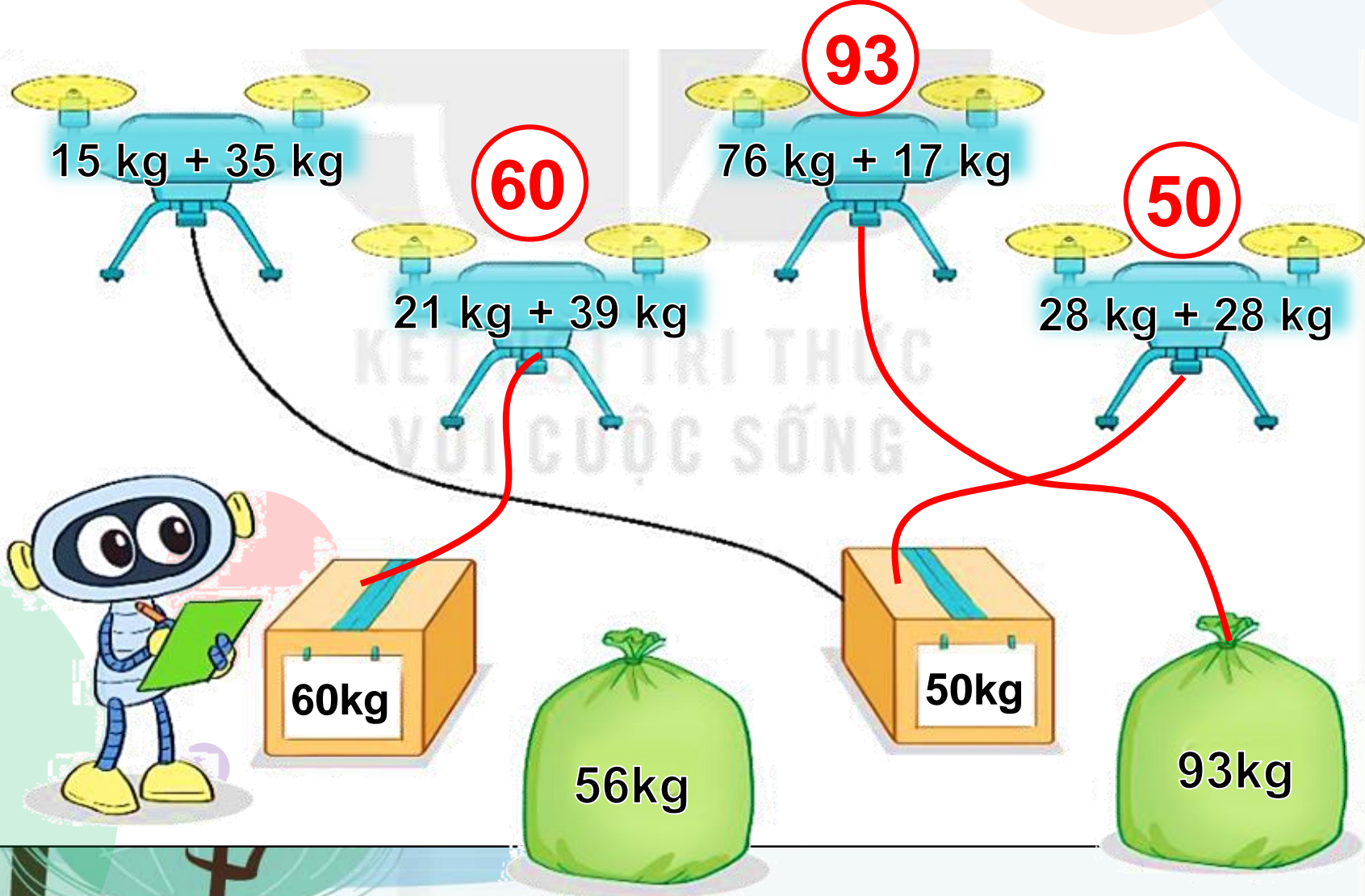
$$23 + 18 = 41$$

$$5 + 41 = 46$$



luyện tập

3 Tính rồi tìm thùng hoặc bao hàng thích hợp.





- 4 Ngày thứ nhất, Mai làm được 29 tấm bưu thiếp. Ngày thứ hai, Mai làm được 31 tấm bưu thiếp. Hỏi cả hai ngày Mai làm được bao nhiêu tấm bưu thiếp?



Bài giải

Cả hai ngày Mai làm được số tấm bưu thiếp là:

$$29 + 31 = 60 \text{ (tấm bưu thiếp)}$$

Đáp số: 60 tấm bưu thiếp.

5 Số ?

Kiến đở phải bò qua bụi cỏ để đến cái kẹo.

Kiến đở phải bò **91** cm.

$$37 + 54 = 91$$



CỦNG CỐ KIẾN THỨC

