




Chào mừng thầy cô và các em đến với môn Toán



CHỦ ĐỀ
4

PHÉP CỘNG, PHÉP TRỪ (CÓ NHỚ)
TRONG PHẠM VI 100

BÀI 20: PHÉP CỘNG (CÓ NHỚ)
SỐ CÓ HAI CHỮ SỐ VỚI SỐ CÓ
HAI CHỮ SỐ

VƯỢT CHƯỚNG NGẠI VẬT

BẮT ĐẦU

Sản phẩm của TRỢ GIẢNG – youtube.com/trogiang



$$31 + 9 = ?$$

40

Không trả
lời được
thì mình
giúp cho
đễ qua
vòng nhé!

40

YEAH!

Sản phẩm của TRỢ GIẢNG – youtube.com/trogiang



$$36 + 7 = ?$$

43

Không trả
lời được
thì mình
giúp cho
để qua
vòng nhé!

43

YEAH!

Sản phẩm của TRỢ GIẢNG – youtube.com/trogiang



$$46 + 36 = ?$$

82

Không trả
lời được
thì mình
giúp cho
để qua
vòng nhé!

82

YEAH!

Sản phẩm của TRỢ GIẢNG - youtube.com/trogiang



$$65 + 19 = ?$$

86

Không trả
lời được
thì mình
giúp cho
để qua
vòng nhé!

86

YEAH!

Sản phẩm của TRỢ GIẢNG – youtube.com/trogiang

$$26 + 39 = ?$$

67

Không trả
lời được
thì mình
giúp cho
để qua
vòng nhé!

67

YEAH!

Sản phẩm của TRỢ GIẢNG – [youtube.com/trogiang](https://www.youtube.com/trogiang)



Tiết 3: Luyện tập





1 Đặt tính rồi tính.

$$47 + 43$$

$$\begin{array}{r} 47 \\ + 43 \\ \hline \end{array}$$

90

$$43 + 47$$

$$\begin{array}{r} 43 \\ + 47 \\ \hline \end{array}$$

90

$$65 + 28$$

$$\begin{array}{r} 65 \\ + 28 \\ \hline \end{array}$$

93

$$28 + 65$$


$$\begin{array}{r} 28 \\ + 65 \\ \hline \end{array}$$

93

→ Trong một tổng, khi đổi chỗ các số hạng cho nhau thì kết quả không thay đổi.

**luyện tập**

2 Nêu tên các tàu ngầm theo thứ tự kết quả của phép tính từ bé đến lớn.

**B****D****C****A**

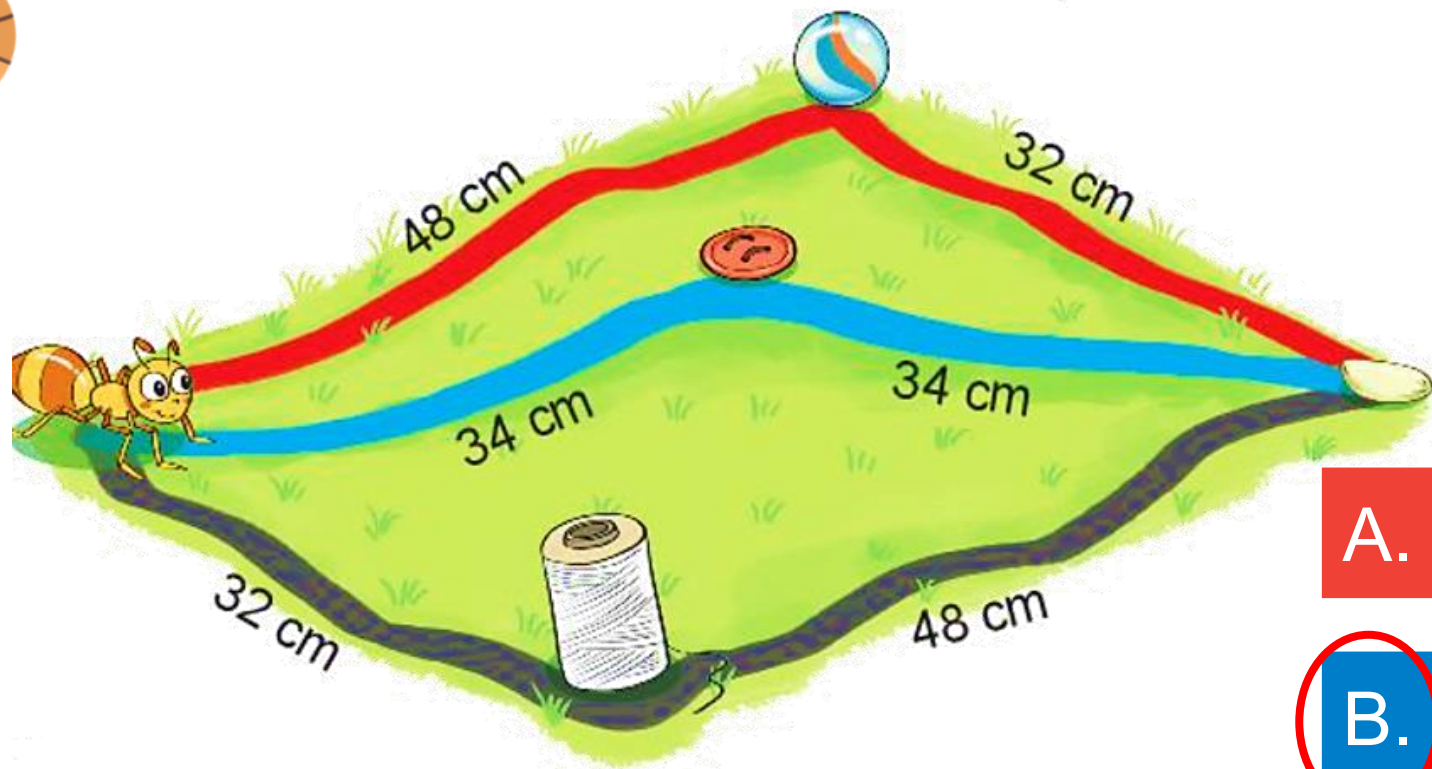


luyện tập

3

Chọn câu trả lời đúng.

Con đường nào ngắn nhất để kiến vàng bò đến hạt gạo?



$$48 + 32 = 80$$

$$34 + 34 = 68$$

$$32 + 48 = 80$$

A. Đường màu đỏ

B. Đường màu xanh

C. Đường màu đen



luyện tập

4 Tính.

$$23 + 27 + 1$$

$$= 50 + 1$$

$$= 51$$

$$45 + 45 + 2$$

$$= 90 + 2$$

$$= 92$$

$$58 + 12 + 3$$

$$= 70 + 3$$

$$= 73$$

$$69 + 11 + 4$$

$$= 80 + 4$$

$$= 84$$

Củng cố, dặn dò

