



KHỞI ĐỘNG

ĐOÀN TÀU VUI VẺ

KIDS
TV

RAILWAY
STATION



A.102



B.100

C.120

Một trăm linh hai



A. 18


B. 108

C. 180

Một trăm tám mươi




A. 140




B. 104

C. 400






A. 170



B. 107



C. 700



A. 560

B. 506

C. 600

Điền số thích hợp vào chỗ chấm
300, 400, 500, ..., 700





LUYỆN TẬP -
THỰC HÀNH



1

>;<;+=



505

<

550

400 + 70 + 5

=

475

399

<

401

738

>

700 + 30 + 7

100

>

90 + 9

50 + 1

>

50 - 1

2

SỐ?

310

311

312

313

314

315

316

317

318

319

1000

999

998

997

996

995

994

993


992

991

3 Sắp xếp các số 531; 513; 315; 351 theo thứ tự

a. 315; 351; 513; 531

b. 531; 513; 315; 351




4

Ba con lợn cân nặng lần lượt là 99kg, 110kg và 101kg. Biết lợn trắng nặng nhất và lợn đen nhẹ hơn lợn khoang.

- Con lợn trắng cân nặng
- Con lợn đen cân nặng
- Con lợn khoang cân nặng



110 kg



99 kg



110 kg





CHÀO TẠM BIỆT

