



Nhiệt liệt chào mừng quý thầy cô giáo về dự giờ

MÔN: TOÁN

GV: Phạm Thị Hiên

Lớp: 2D



CHỦ ĐỀ

4

PHÉP CỘNG, PHÉP TRỪ (CÓ NHỚ) TRONG PHẠM VI 100



BÀI 22

PHÉP TRỪ (CÓ NHỚ)

SỐ CÓ HAI CHỮ SỐ VỚI

SỐ CÓ MỘT CHỮ SỐ



KHÁ

M

PHÁ





$$32 - 7 = ?$$

Có 32 quả
dưa hấu và bơ.

Có 7 quả dưa hấu.

Vậy có bao nhiêu
quả bơ?



Chục	Đơn vị

$$\begin{array}{r} 32 \\ - 7 \\ \hline 25 \end{array}$$

- 2 không trừ được 7, lấy 12 trừ 7 bằng 5, viết 5, nhớ 1
- 3 trừ 1 bằng 2, viết 2

$$32 - 7 = 25$$

HOẠT

ĐỘNG

G





1 Tính.

$$\begin{array}{r} 42 \\ - 8 \\ \hline 34 \end{array}$$

$$\begin{array}{r} 56 \\ - 9 \\ \hline 47 \end{array}$$

$$\begin{array}{r} 60 \\ - 5 \\ \hline 55 \end{array}$$

$$\begin{array}{r} 75 \\ - 6 \\ \hline 69 \end{array}$$

2 Đặt tính rồi tính.

$$\begin{array}{r} 64 - 8 \\ 64 \\ - 8 \\ \hline 56 \end{array}$$

$$\begin{array}{r} 70 - 7 \\ 70 \\ - 7 \\ \hline 63 \end{array}$$

$$\begin{array}{r} 83 - 4 \\ 83 \\ - 4 \\ \hline 79 \end{array}$$

$$\begin{array}{r} 41 - 5 \\ 41 \\ - 5 \\ \hline 36 \end{array}$$



- 3 Ngày thứ nhất, Mai An Tiêm thả 34 quả dưa hấu xuống biển. Ngày thứ hai, Mai An Tiêm thả ít hơn ngày thứ nhất 7 quả. Hỏi ngày thứ hai Mai An Tiêm thả bao nhiêu quả dưa hấu xuống biển?



Bài giải

Ngày thứ hai Mai An Tiêm thả số quả dưa hấu xuống biển là:

$$34 - 7 = 27 \text{ (quả)}$$

Đáp số: 27 quả dưa hấu.

LUYỆ
N TẬP





luyện tập

1 Đặt tính rồi tính.

$$42 - 5$$

$$\begin{array}{r} 42 \\ - 5 \\ \hline \end{array}$$

37

$$51 - 9$$

$$\begin{array}{r} 51 \\ - 9 \\ \hline \end{array}$$

42

$$63 - 7$$

$$\begin{array}{r} 63 \\ - 7 \\ \hline \end{array}$$

56

$$86 - 8$$


$$\begin{array}{r} 86 \\ - 8 \\ \hline \end{array}$$

78

2 Cắm hoa vào lọ thích hợp.

$$46 - 7 = 39$$

$$50 - 2 = 48$$





luyện tập

3 Đường về nhà sóc đi qua ba phép tính có kết quả bằng nhau. Tìm nhà cho sóc.

$$54 - 8 = 46$$

$$22 + 24 = 46$$

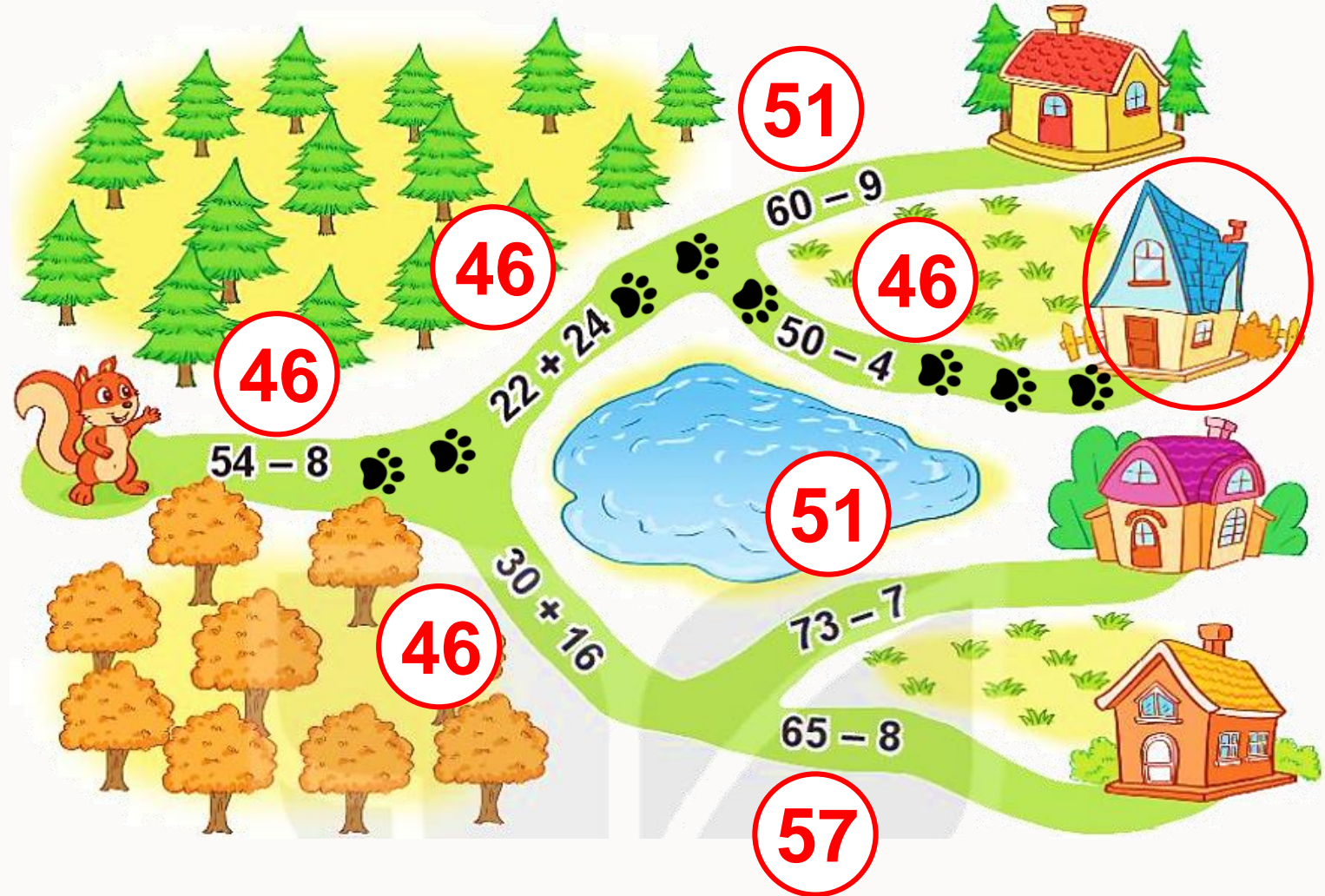
$$60 - 9 = 51$$

$$30 + 16 = 46$$

$$50 - 4 = 46$$

$$73 - 7 = 66$$

$$65 - 8 = 57$$





- 4 Trong vườn có 30 cây hoa hồng và hoa cúc. Mi đếm được có 9 cây hoa cúc. Hỏi trong vườn có bao nhiêu cây hoa hồng?



Bài giải

Trong vườn có số cây hoa hồng là:

$$30 - 9 = 21 \text{ (cây)}$$

Đáp số: 21 cây hoa hồng.

LUYỆ
N TẬP





luyện tập

1 Đặt tính rồi tính.

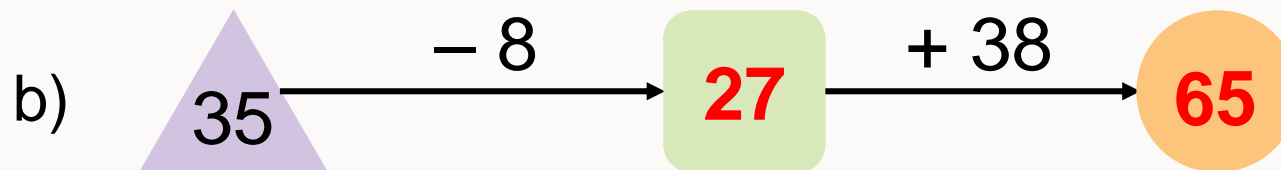
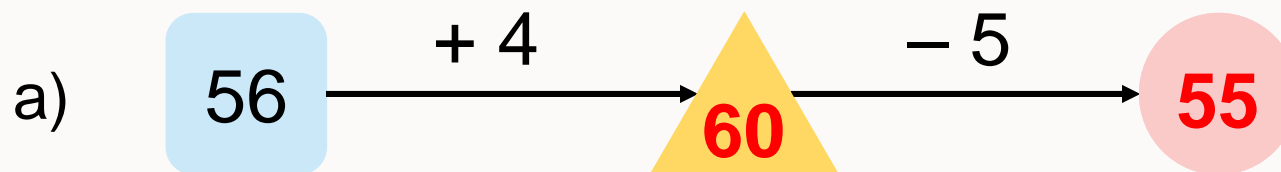
$$\begin{array}{r} 63 - 8 \\ 63 \\ - 8 \\ \hline 55 \end{array}$$

$$\begin{array}{r} 38 - 9 \\ 38 \\ - 9 \\ \hline 29 \end{array}$$

$$\begin{array}{r} 40 - 2 \\ 40 \\ - 2 \\ \hline 38 \end{array}$$

$$\begin{array}{r} 92 - 4 \\ 92 \\ - 4 \\ \hline 88 \end{array}$$

2 Số ?

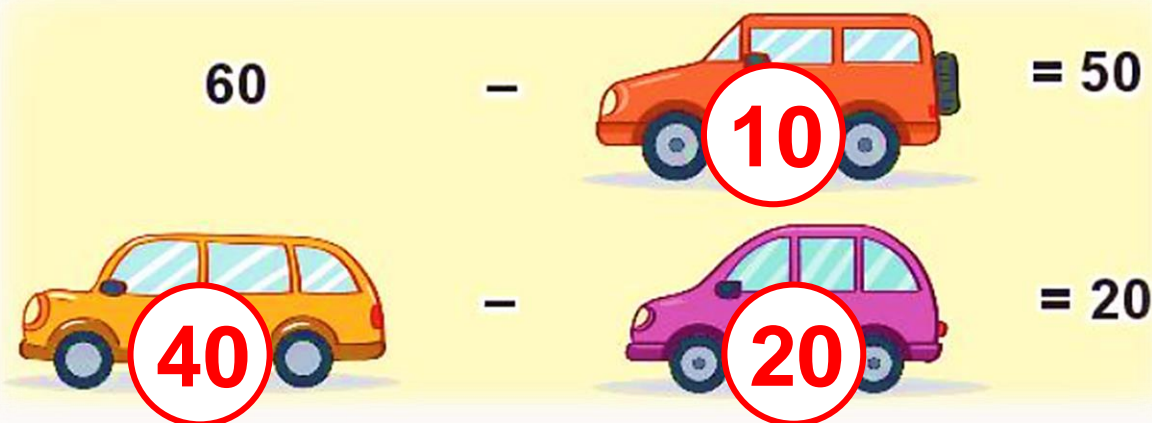
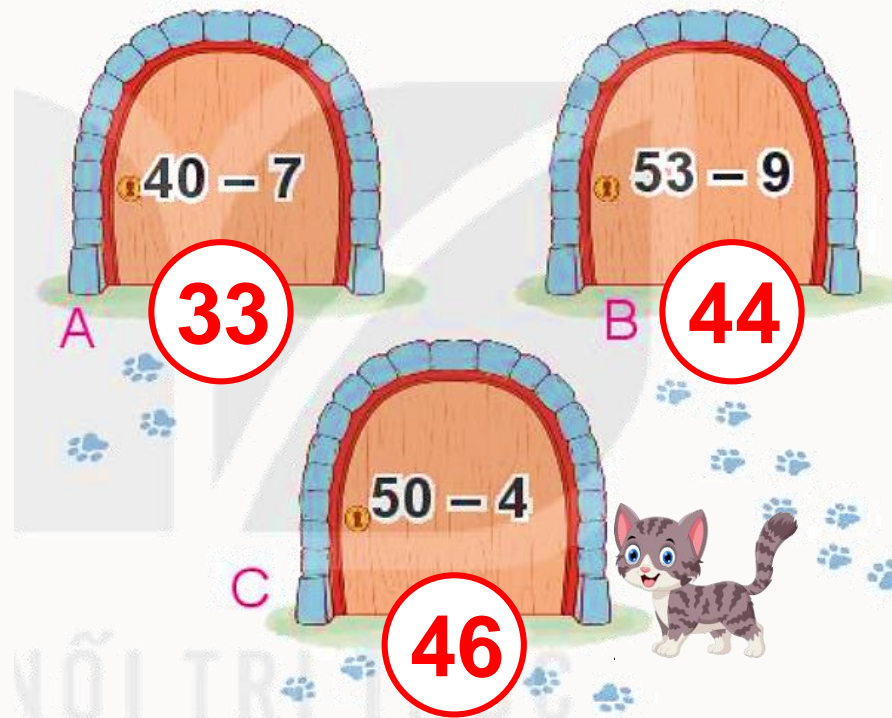




luyện tập

3 Con mèo nấp sau cánh cửa ghi phép tính có kết quả lớn nhất. Hỏi con mèo nấp sau cánh cửa nào?

4 Ba ô tô đang che ba số là 10, 20 và 40. Hỏi mỗi ô tô đang che số nào?





- 5** Mai cân nặng 23kg. Mi nhẹ hơn Mai 5kg. Hỏi Mi cân nặng bao nhiêu ki-lô-gam?

Bài giải

Mi cân nặng số ki-lô-gam là:

$$23 - 5 = 18 \text{ (kg)}$$

Đáp số: 18kg.



LUYỆ
N TẬP






Số bị trừ	57	70	25	53	60
Số trừ	8	7	9	4	30
Hiệu	49	63	16	49	30

1 Số ?

2 Mỗi chú lùn sẽ ngồi lên chiếc ghế ghi phép tính có kết quả là số trên áo của mình. Tìm ghế cho các chú lùn.





3 Chọn kết quả đúng.

a) $40 + 20 - 6 = ?$

60

A. 60 B. 54 C. 64

b) $43 - 8 + 17 = ?$

35

A. 35 B. 62 C. 52

4 Viết vẽ một bức tranh có 35 bông hoa. Mèo làm đổ mực vào bức tranh nên chỉ còn nhìn thấy 9 bông hoa. Hỏi có bao nhiêu bông hoa bị mực che khuất?



Bài giải

Có số bông hoa bị mực che khuất là:

$$35 - 9 = 26 \text{ (bông)}$$

Đáp số: 26 bông hoa.



luyện tập

5 Rô-bốt đi theo thứ tự các số là kết quả của các phép tính dưới đây. Rô-bốt sẽ đến được tàu hỏa, ô tô hay máy bay?

