




**Chào mừng các em đến với  
tiết Toán - Lớp 2**

**Bài 16: Lít (Tiết 2).**



# Khởi động



SIÊU NHÍ GI NHÓ





Lớp Sĩ số

GIÁO VIÊN



# SIÊU NHÍ GHI NHỚ

**Câu 1:** Lượng nước ở bình chứa nước màu hồng là **4** cốc?

*Hết giờ*

15





# SIÊU NHÍ GHI NHỚ

**Câu 2:** Lượng nước ở bình chứa nước màu cam là **6** cốc?

Hết giờ

15







# SIÊU NHÍ GHI NHỚ

**Câu 3:** Lượng nước ở bình chứa nước màu cam nhiều hơn lượng nước ở bình nước màu hồng là **2** cốc?




**Câu 1:** Lượng nước ở bình chứa nước màu hồng là **4** cốc?

**Câu 2:** Lượng nước ở bình chứa nước màu cam là **6** cốc?


**Câu 3:** Lượng nước ở bình chứa nước màu cam nhiều hơn lượng nước chứa ở bình màu hồng là **2** cốc?





# Bài 16: Lít – Tiết 2





# Bài 16: Lít – Tiết 1

## 1. Tính( theo mẫu)

$$\text{a) } 5 \text{ l} + 4 \text{ l} = 9 \text{ l}$$

$$\text{b) } 9 \text{ l} - 3 \text{ l} = 6 \text{ l}$$

$$12 \text{ l} + 20 \text{ l} = 32 \text{ l}$$

$$19 \text{ l} - 10 \text{ l} = 9 \text{ l}$$

$$7 \text{ l} + 6 \text{ l} = 13 \text{ l}$$

$$11 \text{ l} - 2 \text{ l} = 9 \text{ l}$$



# 2. SỐ?




a)



3 l



8 l



13 l

b)



8 l





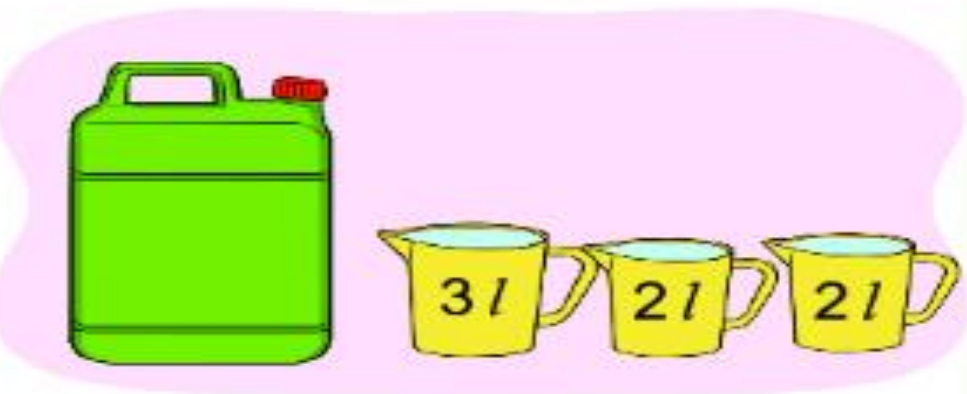
### 3. Trong can còn lại bao nhiêu lít nước? Số?

The image shows three scenarios of pouring water from a can into a container. Each scenario is enclosed in a yellow oval. Below each oval is a box containing the remaining amount of water in liters.

- Scenario 1: A green can labeled  $5\text{ l}$  is pouring water into a purple pitcher labeled  $2\text{ l}$ . The remaining amount is  $3\text{ l}$ .
- Scenario 2: A yellow can labeled  $10\text{ l}$  is pouring water into a green pitcher labeled  $4\text{ l}$ . The remaining amount is  $6\text{ l}$ .
- Scenario 3: A green can labeled  $15\text{ l}$  is pouring water into a red bucket labeled  $5\text{ l}$ . The remaining amount is  $10\text{ l}$ .



**4/ Mỗi đồ vật đựng số lít nước bằng tổng số lít nước ở các ca bên cạnh (như hình vẽ).**



Đồ vật	Bình	Ấm	Xô	Can
Số lít nước	2	3	5	7

**b) Đồ vật nào đựng nhiều nước nhất? Đồ vật nào đựng ít nước nhất?**



5/ Trong can có 15 l nước mắm. Mẹ đã rót 7 l nước mắm vào các chai. Hỏi trong can còn lại bao nhiêu lít nước mắm?

Bài giải

Số lít nước mắm còn lại trong can là:

$$15 - 7 = 8 \text{ (l)}$$

Đáp số: 8 l





**Dặn dò:**

- 1) Hoàn thành vở bài tập Toán**
- 2) Xem trước Bài 17**



Tiết học đến đây đã kết thúc



Chúc các con chăm ngoan, học giỏi

