

Tiệm Bánh  
Donut

Thứ Năm ngày 6 tháng 2 năm 2025

Toán

**BÀI 49: LUYỆN  
TẬP CHUNG  
(TIẾT 1)**



# TRÒ CHƠI TIỆM BÁNH DONUT



Hãy cùng nhau  
lựa chọn đáp án  
đúng để giúp bạn  
Xuka bán được  
nhiều bánh hơn  
nhé!



1. Làm tròn số 3 856 đến hàng chục




A. 3 850



B. 3 860



C. 3 900



2. Làm tròn số 5 312 đến hàng trăm

A. 5 310



B. 5 400



C. 5 300



3. Làm tròn số 9 478 đến hàng chục



A. 9 400



B. 9 470



C. 9 480



# YEAH

Các bạn giỏi quá!  
Cảm ơn đã giúp  
Mimi hoàn thành  
nhiệm vụ nhé!




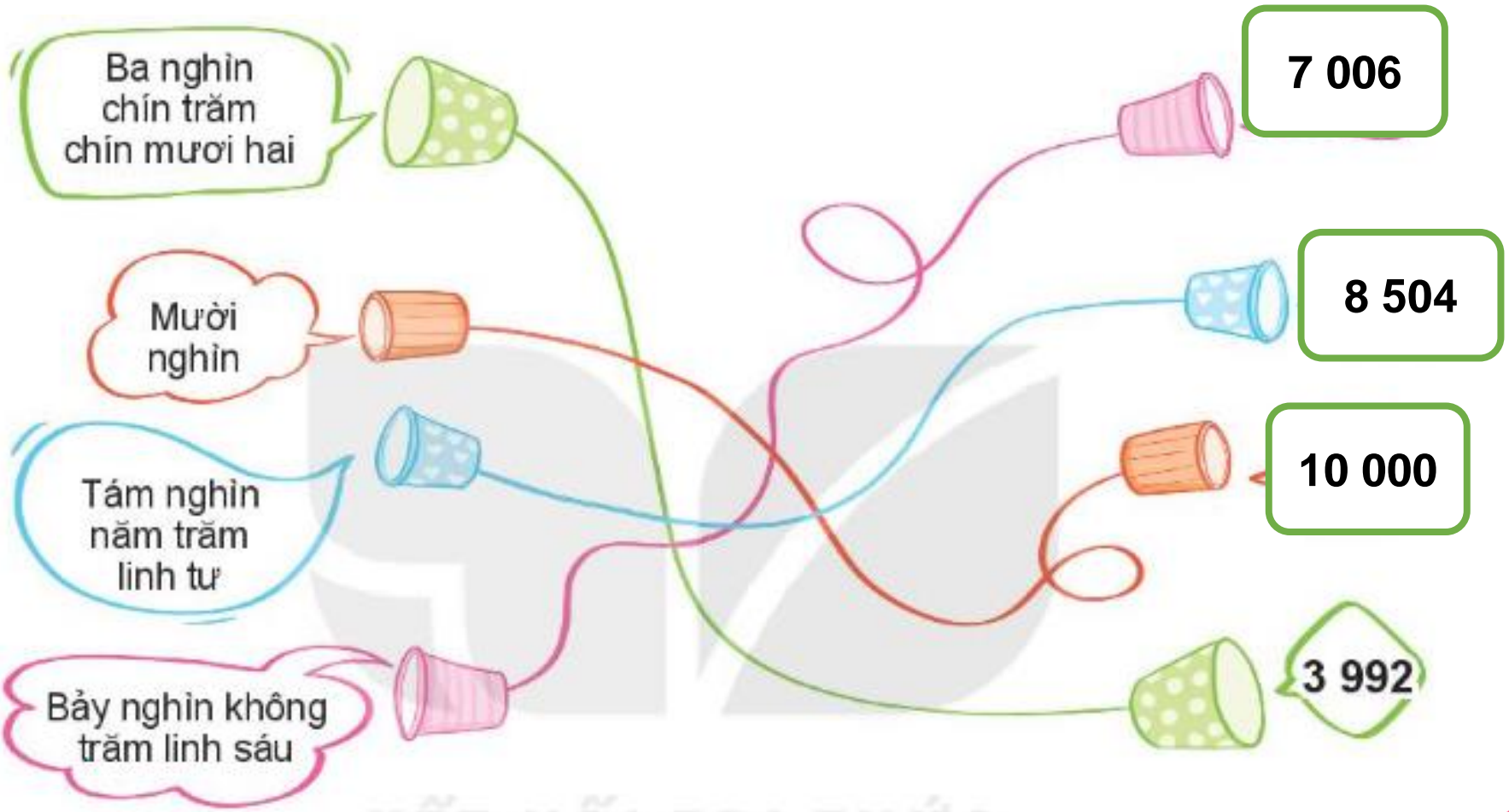
ICE CREAM

FRUIT





# 1 SỐ



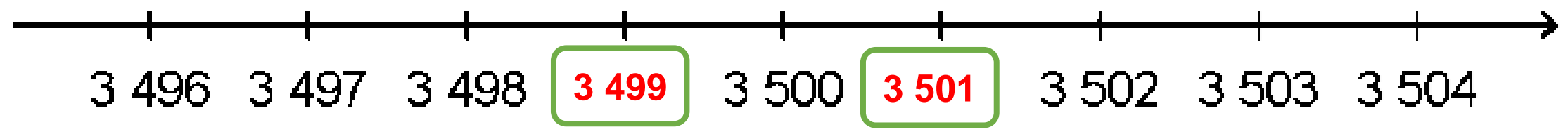


HOME MADE


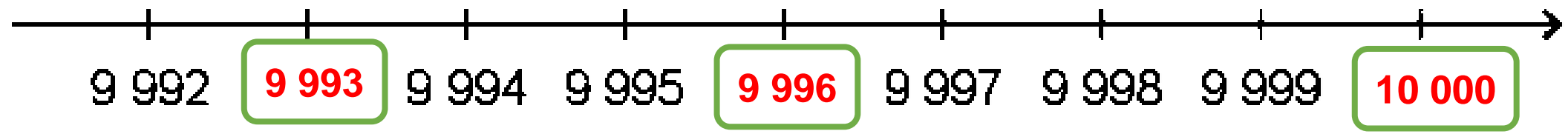


**2** SỐ

a)



b)







### 3 Chọn câu trả lời đúng:

a) Số 2846 có chữ số hàng chục là:

- A. 2      B. 8      **C. 4**      D. 6

b) Số 2846 làm tròn đến số hàng chục là:

- A. 2900      **B. 2850**      C. 2840      D. 2800





4

Các bạn Mai, Nam, Việt và Rô – Bốt cùng chơi “đuổi hình bắt chữ” và lần lượt nhận được số điểm là 2150 điểm, 1650 điểm, 2300 điểm và 1850 điểm.

Hỏi:

a) Bạn nào nhận được số điểm cao nhất?


**Bạn Việt nhận được số điểm cao nhất là: 2300 điểm**

b) Những bạn nào nhận được nhiều hơn 2000 điểm?

**Những bạn nhận được nhiều hơn 2000 điểm là: Việt, Mai**

c) Những bạn nào nhận được ít hơn 2000 điểm?

**Những bạn nhận được ít hơn 2000 điểm là: Rô-bốt, Nam**




4

Trên giá sách có một bộ sách gồm 8 cuốn được đánh số từ I đến VIII. Bố của Mai đã lấy 2 cuốn sách để đọc. Hỏi đó là những cuốn được đánh số nào?

**Các cuốn sách đang có trên giá sách là: I; II; IV; V; VII; VIII**

**Bố của Mai lấy 2 cuốn sách: III; VI**





ICE CREAM

FRUIT

TELEPHONE

SALE

SALE

SALE



Số 4 657 có chữ số hàng trăm là:

A


6

B

5

C


7



Số 9 789 có chữ số hàng chục là:



7



9




8



Số 6 539 có chữ số hàng nghìn là:



5



3



6



HẸN GẶP

LẠI NHÉ!

Tiệm Bánh  
Donut

