

CHỦ ĐỀ 5

LÀM QUEN VỚI HÌNH PHẪNG



BÀI 25:
ĐƯỜNG THẲNG, ĐƯỜNG
CONG,
BA ĐIỂM THẲNG HÀNG.



Trò chơi Rung chuông vàng



Câu 1: Để vẽ được đoạn thẳng cần mấy điểm ?

A. 1 Điểm

B. 2 Điểm

C. 3 Điểm

Câu 2: Cách đọc đoạn thẳng nào đúng?

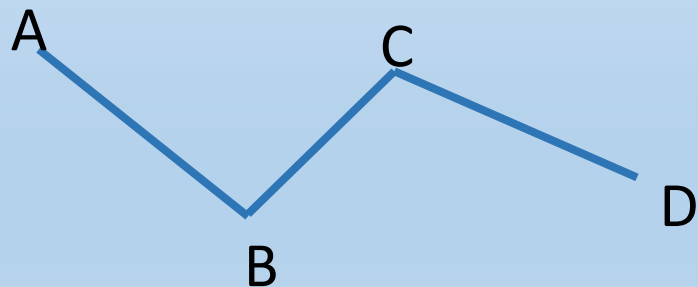


A. Đoạn thẳng A

B. Đoạn thẳng B

C. Đoạn thẳng AB

Câu 3: Hình vẽ bên có mấy đoạn thẳng?



A. 1 Đoạn thẳng

B. 2 Đoạn thẳng

C. 3 Đoạn thẳng

KHÁM PHÁ





Vạch kẻ đường có dạng đường thẳng
Cầu vồng có dạng đường cong



Đường thẳng AB


Đường thẳng MN

Ba điểm M, N, P thẳng hàng



Đường cong a

Ba điểm thẳng hàng là 3 điểm nằm trên 1 đường thẳng.

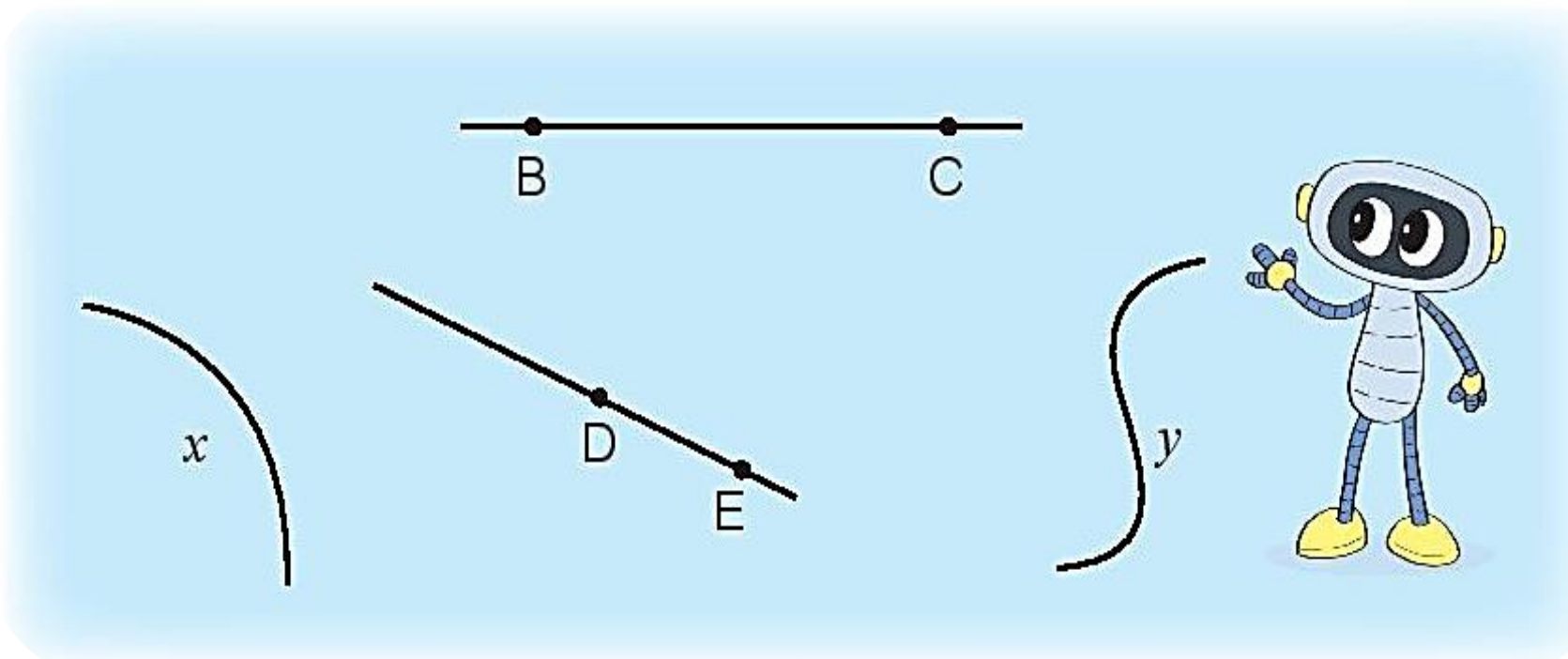


**HOẠT
ĐỘNG**





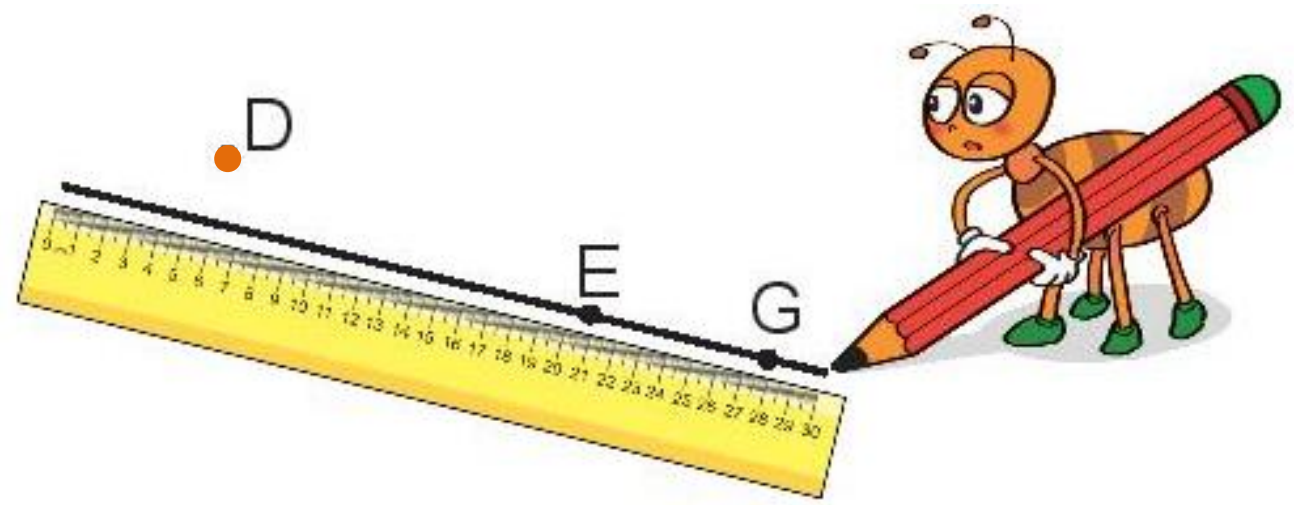
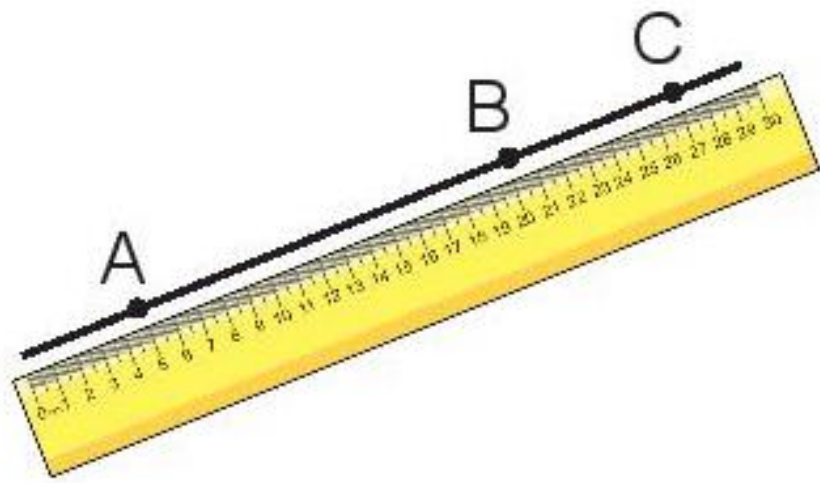
1



a) Kể tên các đường thẳng trong hình vẽ. **BC, DE**

b) Kể tên các đường cong trong hình vẽ. **x, y**

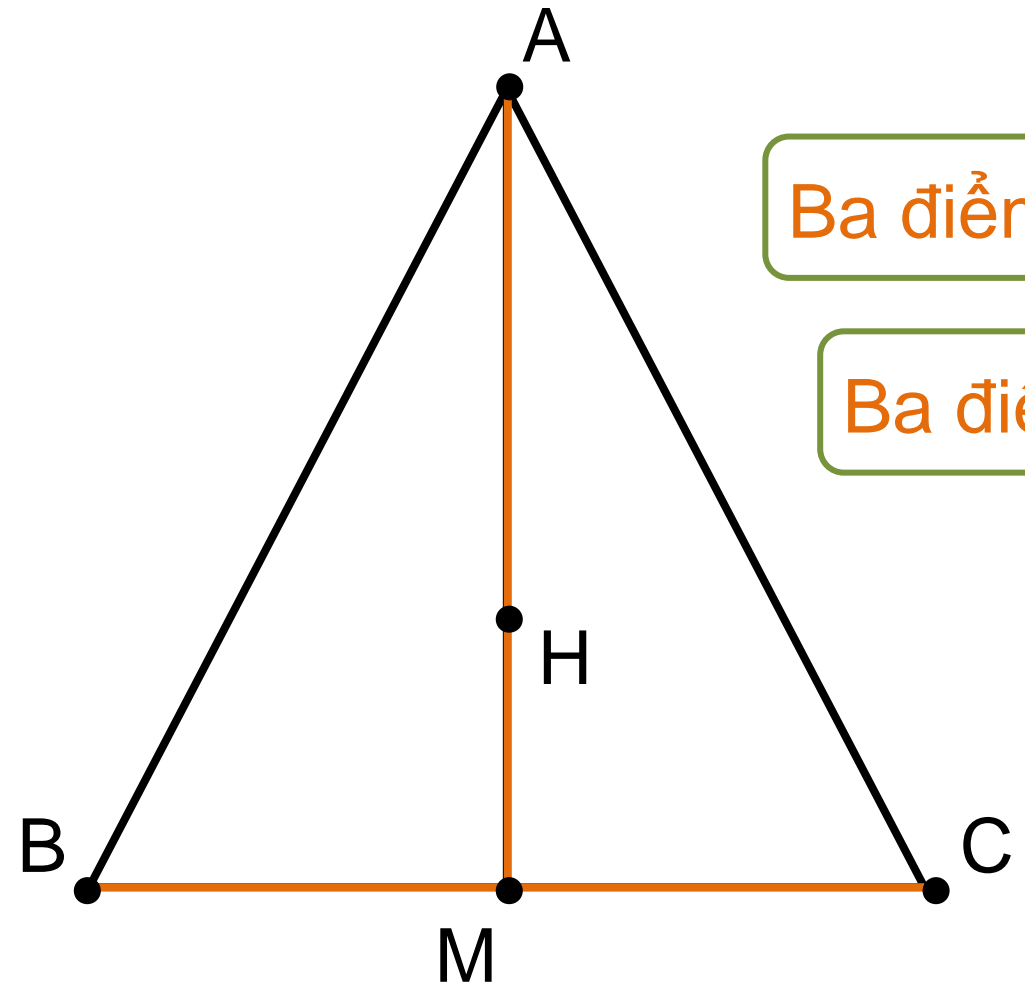
2 Đ, S ?



Trong hình vẽ trên:

- a) Ba điểm A, B, C thẳng hàng. Đ
- b) Ba điểm D, E, G thẳng hàng. S

3 Kể tên 3 điểm thẳng hàng có trong hình vẽ



Ba điểm A, H, M thẳng hàng.

Ba điểm B, M, C thẳng hàng.

4 Tìm một đường thẳng, một đường cong và 3 cây thẳng hàng có trong hình dưới đây.

