





KHỞI ĐỘNG



Những dòng tin yêu thương

PLAY



Hãy chọn bất kì lá thư để trả lời câu hỏi các em nhé!



$$9\ 658 + 6\ 290 = ?$$

A

15 958

B

C

15 948

Đúng rồi!!

BACK

$$14\ 709 - 5\ 434 = ?$$

Các em giỏi
quá!

A

9 275



B

C

9 276



BACK

$$56\ 205 + 74\ 539 = ?$$

A

130 745

B

C

130 754



Giỏi quá!

BACK

Toán 4



BÀI 34: ÔN TẬP PHÉP CỘNG, PHÉP TRỪ

(Tiết 2)





YÊU CẦU CẦN ĐẠT

- Thực hiện được phép cộng, trừ trong phạm vi lớp triệu.
- Tính nhẩm được các phép cộng, trừ liên quan đến các số tròn nghìn, tròn chục nghìn, tròn trăm nghìn, tròn triệu, tròn chục triệu, tròn trăm triệu.
- Tính được giá trị của biểu thức liên quan tới phép cộng, trừ có và không có dấu ngoặc.
- Tìm được số lớn nhất, số bé nhất trong nhóm 4 số.
- Tính được giá trị của biểu thức bằng cách thuận tiện.
- Giải được bài toán thực tế liên quan đến các phép cộng, trừ.



LUYỆN TẬP



1 Tính nhẩm

$$a) 8\ 000\ 000 + 4\ 000\ 000 = 12\ 000\ 000$$

$$60\ 000\ 000 + 50\ 000\ 000 = 110\ 000\ 000$$

$$15\ 000\ 000 - 9\ 000\ 000 = 6\ 000\ 000$$

$$140\ 000\ 000 - 80\ 000\ 000 = 60\ 000\ 000$$

1 Tính nhẩm

$$\text{b) } 6\,000\,000 + 9\,000\,000 - 7\,000\,000$$

$$= 15\,000\,000 - 7\,000\,000$$

$$= 8\,000\,000$$

$$130\,000\,000 - 60\,000\,000 + 50\,000\,000$$

$$= 70\,000\,000 + 50\,000\,000$$

$$= 120\,000\,000$$

2 Đặt tính rồi tính

$$370\ 528 + 85\ 706$$

$$435\ 290 + 208\ 651$$

$$251\ 749 - 6\ 052$$

$$694\ 851 - 365\ 470$$

$$370\ 528 + 85\ 706$$

$$\begin{array}{r} 370\ 528 \\ + 85\ 706 \\ \hline 456\ 234 \end{array}$$

$$251\ 749 - 6\ 052$$

$$\begin{array}{r} 251\ 749 \\ - \quad 6\ 052 \\ \hline 245\ 697 \end{array}$$

$$435\ 290 + 208\ 651$$

$$\begin{array}{r} 435\ 290 \\ + 208\ 651 \\ \hline 643\ 941 \end{array}$$

$$694\ 851 - 365\ 470$$

$$\begin{array}{r} 694\ 851 \\ -365\ 470 \\ \hline 329\ 381 \end{array}$$

2 Hình dưới đây cho biết giá tiền của một số món đồ.



50 000 đồng



70 000 đồng



125 000 đồng



65 000 đồng

a) Mai mua một đôi dép và một hộp đồ chơi xếp hình, Mai đưa cho cô bán hàng tờ tiền 200 000 đồng. Hỏi cô bán hàng trả lại Mai bao nhiêu tiền?

Mai mua một đôi dép và một hộp đồ chơi xếp hình



195 000 đồng

Mai đưa cho cô bán hàng tờ tiền 200 000 đồng.



Số tiền cô bán hàng trả lại Mai là:
 $200\ 000 - 195\ 000 = 5\ 000$ (đồng)

Đáp số: 5 000 đồng

2



50 000 đồng



70 000 đồng



125 000 đồng



65 000 đồng

b) Chọn câu trả lời đúng.

Với tờ tiền 200 000 đồng. Mai đủ tiền mua được ba món đồ nào dưới đây?

A. Cái mũ, đôi dép, hộp đồ chơi xếp hình. $50\ 000 + 70\ 000 + 125\ 000 = 245\ 000$

B. Cái mũ, đôi dép, gấu bông. $50\ 000 + 70\ 000 + 65\ 000 = 185\ 000$

C. Cái mũ, hộp đồ chơi xếp hình, gấu bông. $50\ 000 + 125\ 000 + 65\ 000 = 240\ 000$

D. Đôi dép, hộp đồ chơi xếp hình, gấu bông. $70\ 000 + 125\ 000 + 65\ 000 = 260\ 000$

4 Tính bằng cách thuận tiện.

$$16\ 370 + 6\ 090 + 2\ 530 + 4\ 010$$

$$= (16\ 370 + 2\ 530) + (6\ 090 + 4\ 010)$$

$$= 18\ 900 + 10\ 100$$

$$= 29\ 000$$



Vận dụng

Đố bạn



Nghĩ ra 1 phép tính cộng, trừ trong phạm vi 1 000 000 để đố nhau tính kết quả.

TẠM BIỆT

