






KHỎI  
ĐÔNG





# LUYỆN TẬP



# 1 SỐ?

Số gồm	Viết là
Một trăm hai mươi ba đơn vị, bốn phần mười, năm phần trăm, bảy phần nghìn	123,457
Sáu mươi bảy đơn vị, năm mươi hai phần trăm	67,52
Tám trăm linh ba đơn vị, bốn trăm năm mươi lăm phần nghìn	803,455
Mười chín đơn vị, năm phần trăm	19,05

2

b) Nói cách đọc các số thập phân sau:

35,471

Ba mươi lăm phẩy bốn trăm bảy mốt.

24,607

Hai mươi tư phẩy sáu trăm linh bảy.

0,026

Không phẩy không hai sáu

5,004

Năm phẩy không không bốn.

3

a)  $>$ ;  $<$ ;  $=$ ?

$$5,099 < 5,1$$

$$6,321 > 6,3209$$

$$102,30 = 102,3000$$

**b) Sắp xếp các số 5,1; 6,321; 5,099; 6,3209 theo thứ tự từ bé đến lớn.**

5,099

5,1

6,3209

6,321



**3**

# Đặt tính rồi tính

$34,28 + 19,45$

$$\begin{array}{r} + 34,28 \\ + 19,45 \\ \hline 53,73 \end{array}$$

$68,72 - 39,24$

$$\begin{array}{r} - 68,72 \\ - 39,24 \\ \hline 29,48 \end{array}$$

$17,32 \times 14$

$$\begin{array}{r} \times 17,32 \\ \quad 14 \\ \hline 6928 \\ 1732 \\ \hline 242,48 \end{array}$$

$75,52 : 16$

$$\begin{array}{r} 75,52 \overline{) 16} \\ \underline{115} \phantom{2} \\ 32 \\ \underline{32} \\ 0 \end{array}$$

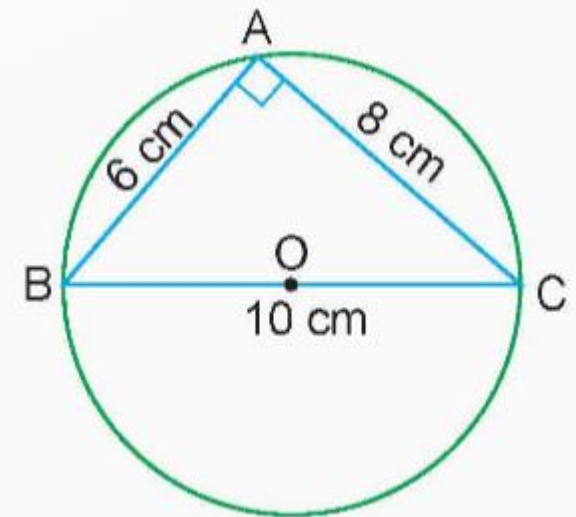
## 4 SỐ?

Cho hình tam giác vuông ABC và hình tròn tâm O với kích thước như hình vẽ bên.

a) Diện tích hình tam giác vuông ABC là **24** cm<sup>2</sup>.

b) Diện tích hình tròn tâm O là **78,5** cm<sup>2</sup>.

c) Chu vi hình tròn tâm O là **31,4** cm



# VĂN DỤNG



5

Có 6 kg đường chia đều vào 12 túi.

Hỏi:

a) 8 túi đường như vậy có bao nhiêu ki-lô-gam đường?

b) Nếu 1 kg đường loại đó giá 17 000 đồng thì mua 10 túi đường như vậy hết bao nhiêu tiền?

*Bài giải*

Số ki-lô-gam đường ở một túi là:

$$6 : 12 = 0,5 \text{ (kg)}$$

a) Số ki-lô-gam đường ở 8 túi là:

$$0,5 \times 8 = 4 \text{ (kg)}$$

b) Số ki-lô-gam đường ở 10 túi là:

$$0,5 \times 10 = 5 \text{ (kg)}$$


Mua 10 túi đường hết số tiền là:

$$17\ 000 \times 5 = 85\ 000 \text{ (đồng)}$$

*Đáp số:* a) 4 kg; b) 85 000 đồng.



# DẶN DÒ

- Hoàn thành bài tập.
  - Chuẩn bị bài mới.
- 



TOÁN

**CHÚC CÁC EM**  
**HỌC TỐT!**