



1. Ôn và  
khởi động  
nhé lớp 2...





1



2

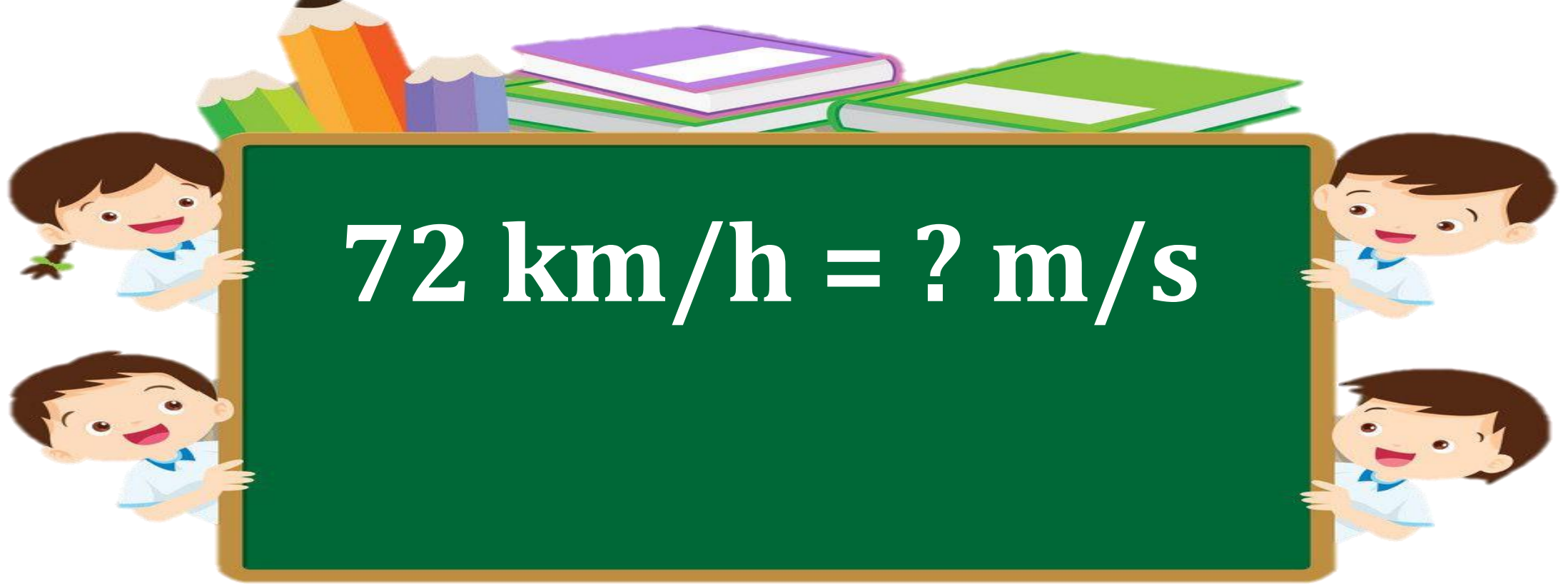


3



4





A. 14



B. 20



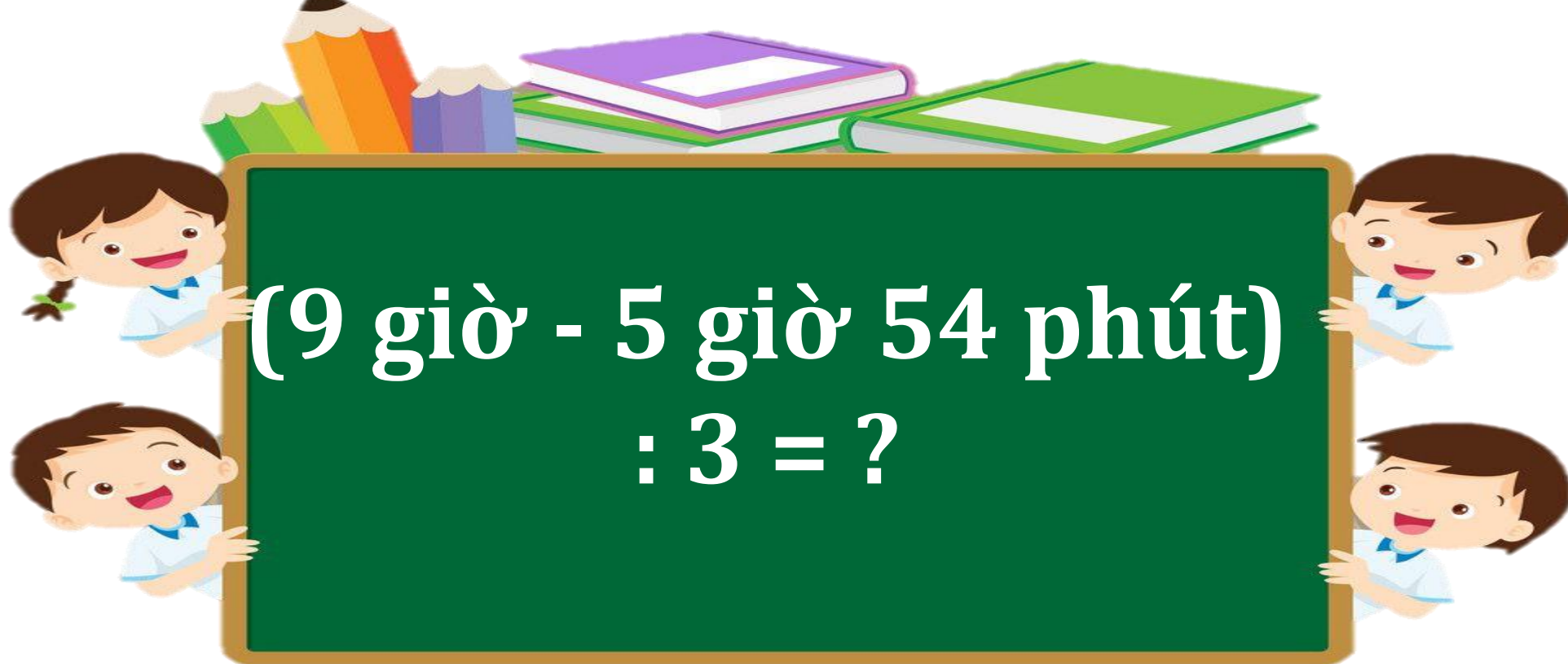
C. 16



D. 18



Trở  
về



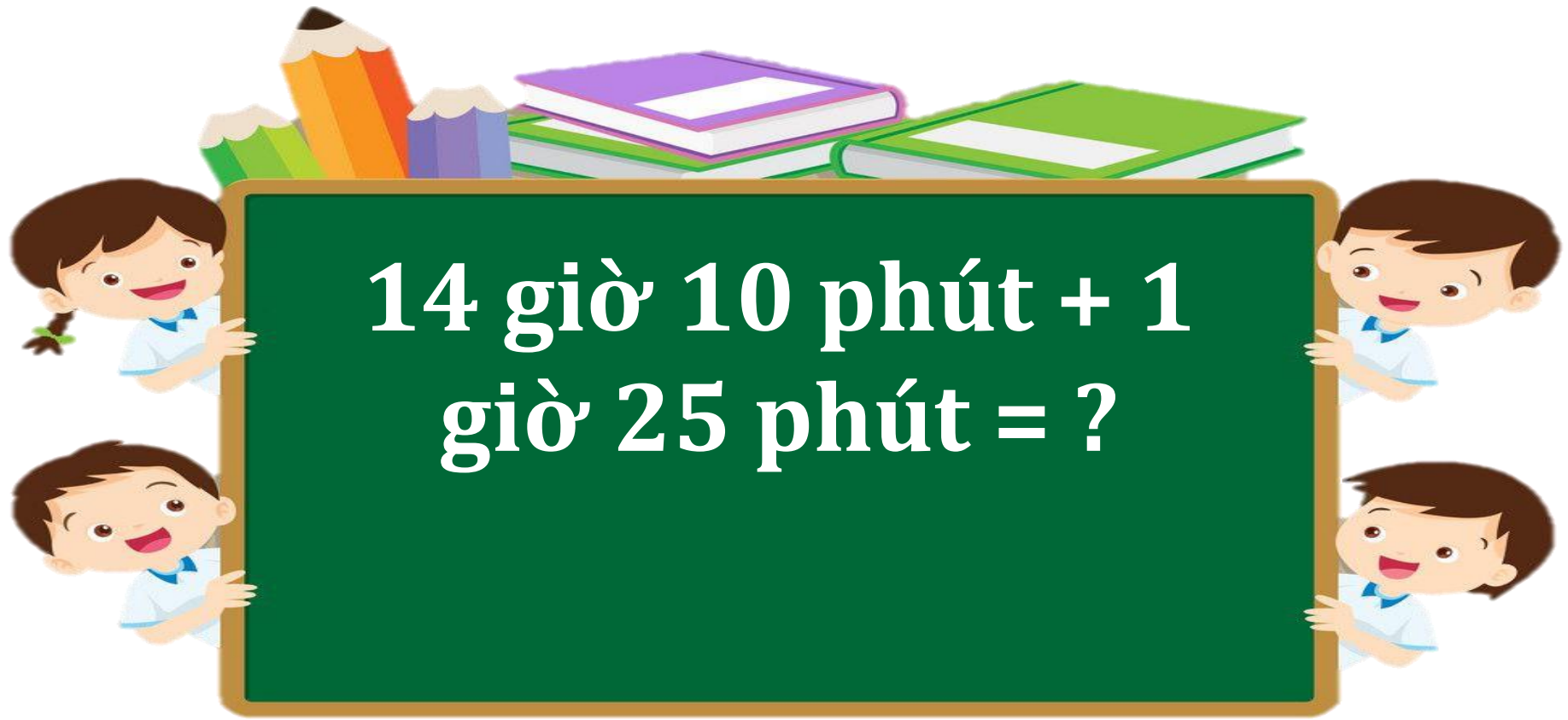
A. 1 giờ 5 phút ✗

B. 1 giờ 4 phút ✗

C. 1 giờ 3 phút ✗

D. 1 giờ 2 phút ✓





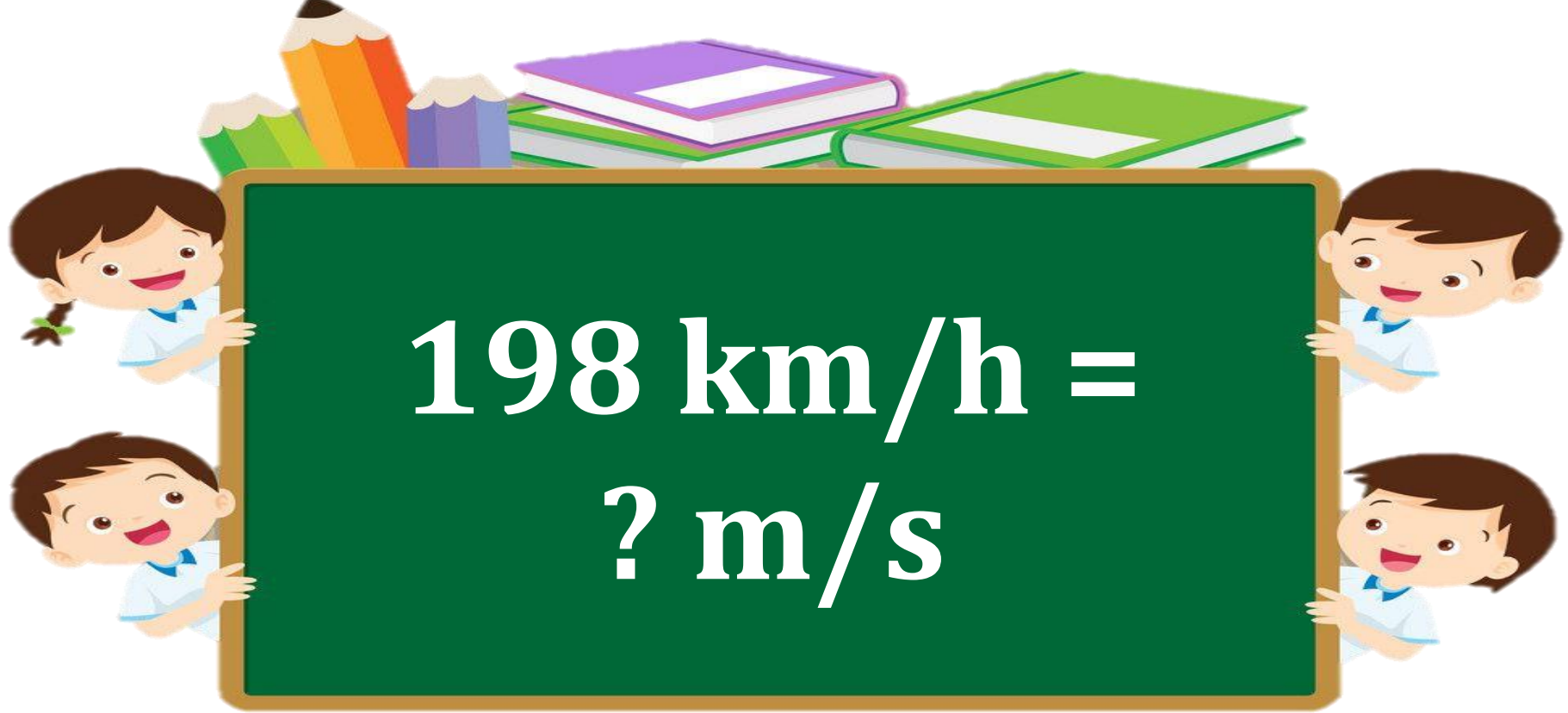
A. 15 giờ 25 phút ✘

B. 15 giờ 45 phút ✘

C. 15 giờ 35 phút ✔

D. 15 giờ 30 phút ✘

Trở  
về



A. 54



B. 55



C. 57



D. 56



Trở  
về



Toán

LUYỆN TẬP

(Tiết 2)



## Bài 1

Buổi sáng, do trời mưa và tắc đường nên cô Trang đi được 6 km trong 30 phút. Tính vận tốc của cô Trang (theo đơn vị km/h).

### *Bài giải*

$$30 \text{ phút} = 0,5 \text{ giờ}$$

Vận tốc của cô Trang là:

$$6 : 0,5 = 12 \text{ (km/h)}$$

*Đáp số: 12 km/h.*



## Bài 2 Tìm chuồng cho chim bồ câu



Ta có:

$$25 : 5 = 5$$

$$8 : 2 = 4$$

$$2 \times 3 = 6$$

$$2 \times 2 = 4$$


$$2 \times 4 = 8$$


$$18 : 2 = 9$$

$$30 : 5 = 6$$

$$45 : 5 = 9$$

$$10 : 2 = 5$$





### Bài 3

Có 35 bạn tham gia đi cắm trại. Cô giáo chia đều các bạn thành 5 nhóm. Hỏi mỗi nhóm có bao nhiêu bạn?



## Bài 3

Có 35 bạn tham gia đi cắm trại. Cô giáo chia đều các bạn thành 5 nhóm. Hỏi mỗi nhóm có bao nhiêu bạn?

### *Tóm tắt*

Có: 35 bạn

Chia thành: 5 nhóm

Mỗi nhóm: ... bạn?

### *Bài giải*


Mỗi nhóm có số bạn là:

$$35 : 5 = 7 \text{ (bạn)}$$

Đáp số: 7 bạn.



## Bài 4 SỐ?



# VĂN DUNG



TRÒ CHƠI

HEO CON

QUA CẦU





Câu

$$45 : 5 = ?$$

1:

**Đáp án: 9**



Câu

$$20 : 2 = ?$$

2:

**Đáp án: 10**



Câu

$$2 \times 9 = ?$$

3:

**Đáp án: 18**



Câu

$$25 : 5 = ?$$

3:

**Đáp án: 5**



# HEO CON QUA CẦU

Cảm ơn các bạn  
đã giúp heo con  
nhé!!!



# DẶN DÒ

“ Ôn lại nội dung đã học ”

“ Chuẩn bị nội dung bài mới ”



# TẠM BIỆT CÁC EM

