

CHỦ ĐỀ

8

PHÉP NHÂN, PHÉP CHIA



BÀI 42

SỐ BỊ CHIA, SỐ CHIA,

THƯƠNG



KHÁ

M

PHÁ





$$10 : 2 = 5$$

Mỗi lọ có 5 bông hoa.

Chia đều 10 bông hoa vào 2 lọ. Hỏi mỗi lọ có mấy bông hoa?



$$10 : 2 = 5$$

Số bị
chia

Số
chia

Thương

10 : 2 cũng gọi là thương.

HOẠT

ĐỘNG

G





1 Số ?

Phép chia	$12 : 2 = 6$	$20 : 5 = 4$	$16 : 2 = 8$	$15 : 5 = 3$
Số bị chia	12	20	16	15
Số chia	2	5	2	5
Thương	6	4	8	3



1 Chia đều 8 chiếc bánh vào 2 hộp. Hỏi mỗi hộp có mấy chiếc bánh?

2 Chia 10 chiếc bánh vào các hộp, mỗi hộp 2 chiếc. Hỏi được mấy hộp bánh như vậy?

2 a) Chọn phép tính thích hợp.

(A) $10 : 2 = 5$

(B) $8 : 2 = 4$

(C) $6 : 2 = 3$

3 Chia đều 6 que tính thành 2 nhóm. Hỏi mỗi nhóm có mấy que tính?

b) Số ?

Phép chia	(A)	(B)	(C)
Số bị chia	10	8	6
Số chia	2	2	2
Thương	5	4	3

LUYỆ
N TẬP





1 Số ?

Phép nhân	Phép chia	Số bị chia	Số chia	Thương
$2 \times 8 = 16$	$16 : 2 = 8$	16	2	8
	$16 : 8 = 2$	16	8	2
$2 \times 9 = ?$	$18 : 2 = 9$	18	2	9
	$18 : 9 = 2$	18	9	2
$5 \times 7 = ?$	$35 : 5 = 7$	35	5	7
	$35 : 7 = 5$	35	7	5



luyện tập

2

Tìm thương trong phép chia, biết:

a) Số bị chia là 10, số chia là 2.

Ta có: $10 : 2 = 5$

Vậy thương trong phép chia là 5.

b) Số bị chia là 8, số chia là 2.

Ta có: $8 : 2 = 4$

Vậy thương trong phép chia là 4.

c) Số bị chia là 10, số chia là 5.

Ta có: $10 : 5 = 2$

Vậy thương trong phép chia là 2.





luyện tập

3

Số ?

a) Từ ba thẻ số bên, em lập được hai phép chia sau:

$$(A) \ 6 : 2 = 3$$

$$(B) \ 6 : 3 = 2$$









b)

Phép chia	(A)	(B)
Số bị chia	6	6
Số chia	2	3
Thương	3	2



4 Từ các số bị chia, số chia và thương dưới đây, em hãy lập các phép chia thích hợp.

Số bị chia	Số chia	Thương
		
		

$$10 : 2 = 5$$

$$15 : 5 = 3$$