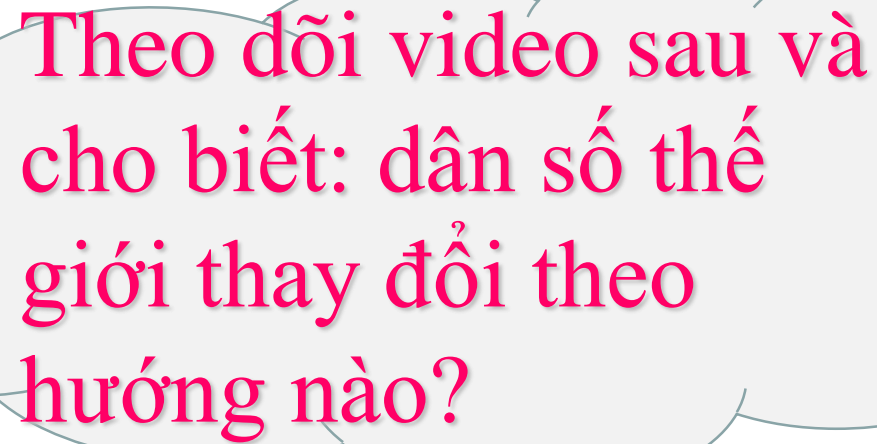




# CHÀO MỪNG CÁC EM ĐẾN VỚI GIỜ HỌC ĐỊA LÍ





Theo dõi video sau và  
cho biết: dân số thế  
giới thay đổi theo  
hướng nào?



# Bài 22. DÂN SỐ VÀ SỰ PHÂN BỐ DÂN CƯ TRÊN THẾ GIỚI



**Dựa vào hình 22.1 sgk, nêu quy mô dân số năm 2018? Tính thời gian dân số tăng thêm 1 tỷ người và ghi vào bảng theo mẫu sau:**



Mức tăng (tỉ người)	1 lên 2	2 lên 3	3 lên 4	4 lên 5	5 lên 6	6 lên 7	7 lên 8
Thời gian (năm)	123	33	14	13	12	12	13

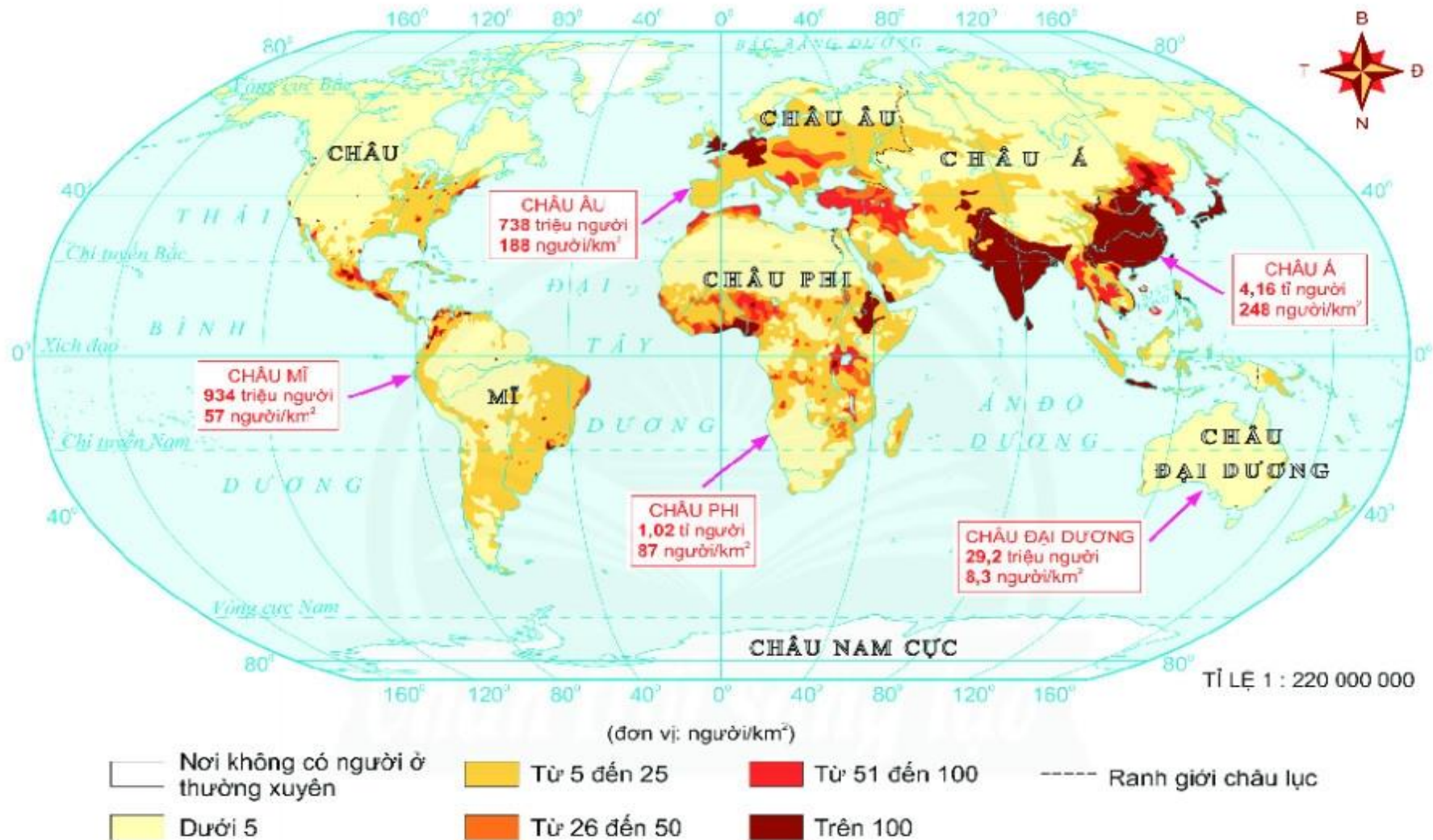
**Em có nhận xét gì về tốc độ tăng dân số trên thế giới?  
Từ đó cho biết xu hướng thay đổi quy mô dân số thế giới trong thời kì 1804 – 2018 diễn ra như thế nào?**

## Dân số một số quốc gia trên thế giới (2017 – 2020)

Tên quốc gia	Dân số ( tr người) năm 2017	Dân số ( tr người) năm 2020
Trung Quốc	1380	1439
Ấn Độ	1338	1380
Hoa Kỳ	325	331
Nhật Bản	126	126,5

**Quan sát bảng số liệu rút ra nhận xét về dân số các nước qua các năm?**

Để xác định sự phân bố dân cư người ta dựa vào tiêu chí nào?  
 Nêu công thức tính mật độ dân số?



Hình 22.2. Phân bố dân cư thế giới (2018).



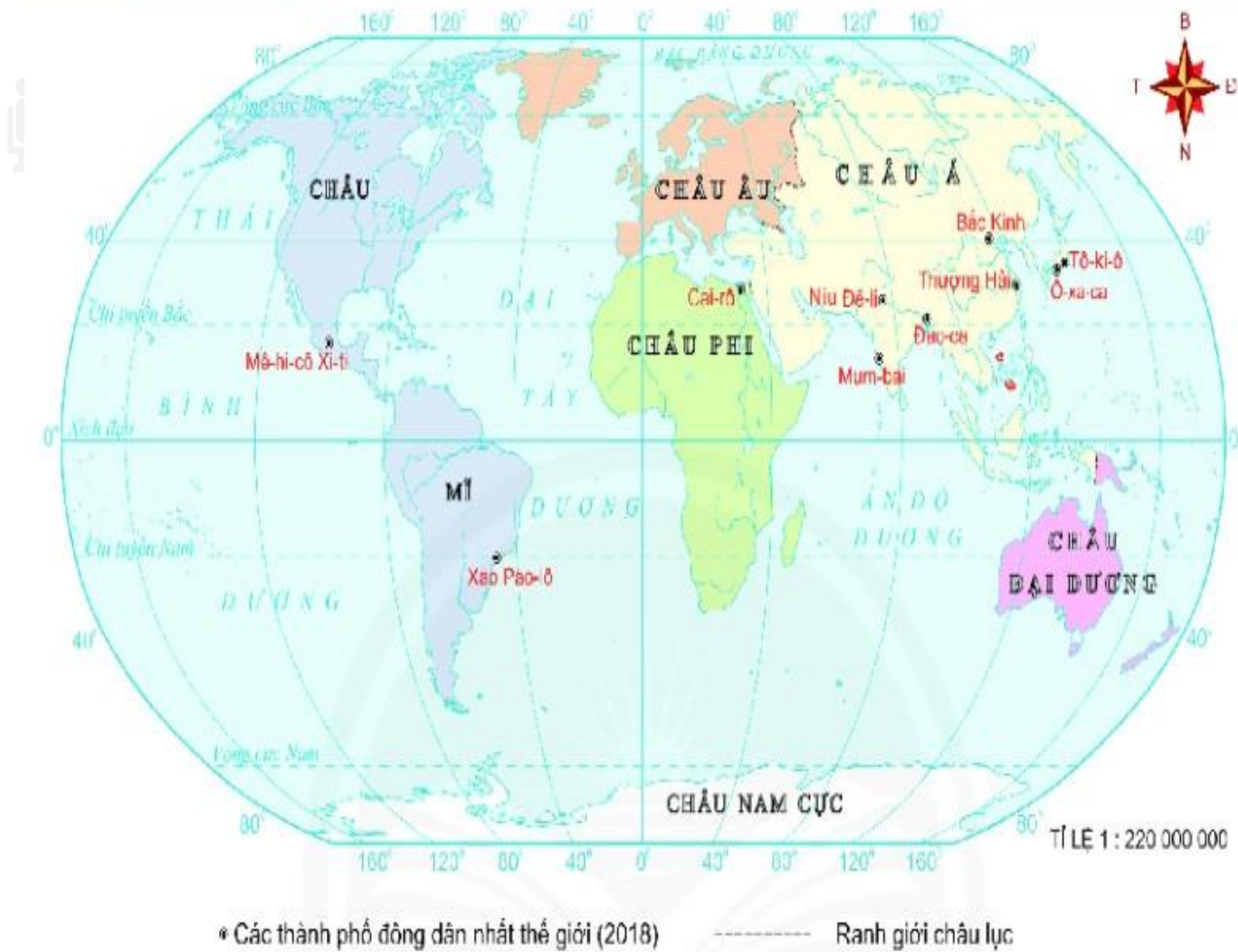
**Hoạt động nhóm: các nhóm chung 1 nhiệm vụ thảo luận trong 4 - 5 phút điền vào phiếu học tập**

<b>Mật độ số người/ km<sup>2</sup></b>	<b>Khu vực phân bố</b>	<b>Nguyên nhân</b>
<b>Trên 250</b>	<ul style="list-style-type: none"> <li>- Nam Á, Đông Á, Đông Nam Á;</li> <li>- Một số nơi thuộc châu Âu....</li> </ul>	<ul style="list-style-type: none"> <li>- Nơi kinh tế phát triển;</li> <li>- Điều kiện tự nhiên thuận lợi (địa hình bằng phẳng, đất đai màu mỡ, nguồn nước dồi dào, khí hậu thuận lợi...);</li> <li>- Giao thông thuận lợi...</li> </ul>
<b>Dưới 5</b>	<ul style="list-style-type: none"> <li>- Bắc Mỹ;</li> <li>- Phần lớn Nam Mỹ;</li> <li>- Bắc Phi;</li> <li>- Bắc Á;</li> <li>- Ô-xtrây-li-a,....</li> </ul>	<ul style="list-style-type: none"> <li>- Các vùng khí hậu khắc nghiệt (băng giá, hoang mạc khô hạn);</li> <li>- Địa hình núi cao, giao thông khó khăn;</li> <li>- Kinh tế kém phát triển,...</li> </ul>

# SỐ DÂN CỦA MỘT SỐ THÀNH PHỐ TRÊN THẾ GIỚI, NĂM 2018

STT	Tên thành phố	Quốc gia	Số dân (Triệu người)
1	Tô-ky-ô	Nhật Bản	37,5
2	Niu Đê-li	Ấn Độ	28,5
3	Hà Nội	Việt Nam	25,05

**Em có nhận xét gì về số dân giữa các thành phố trên?**

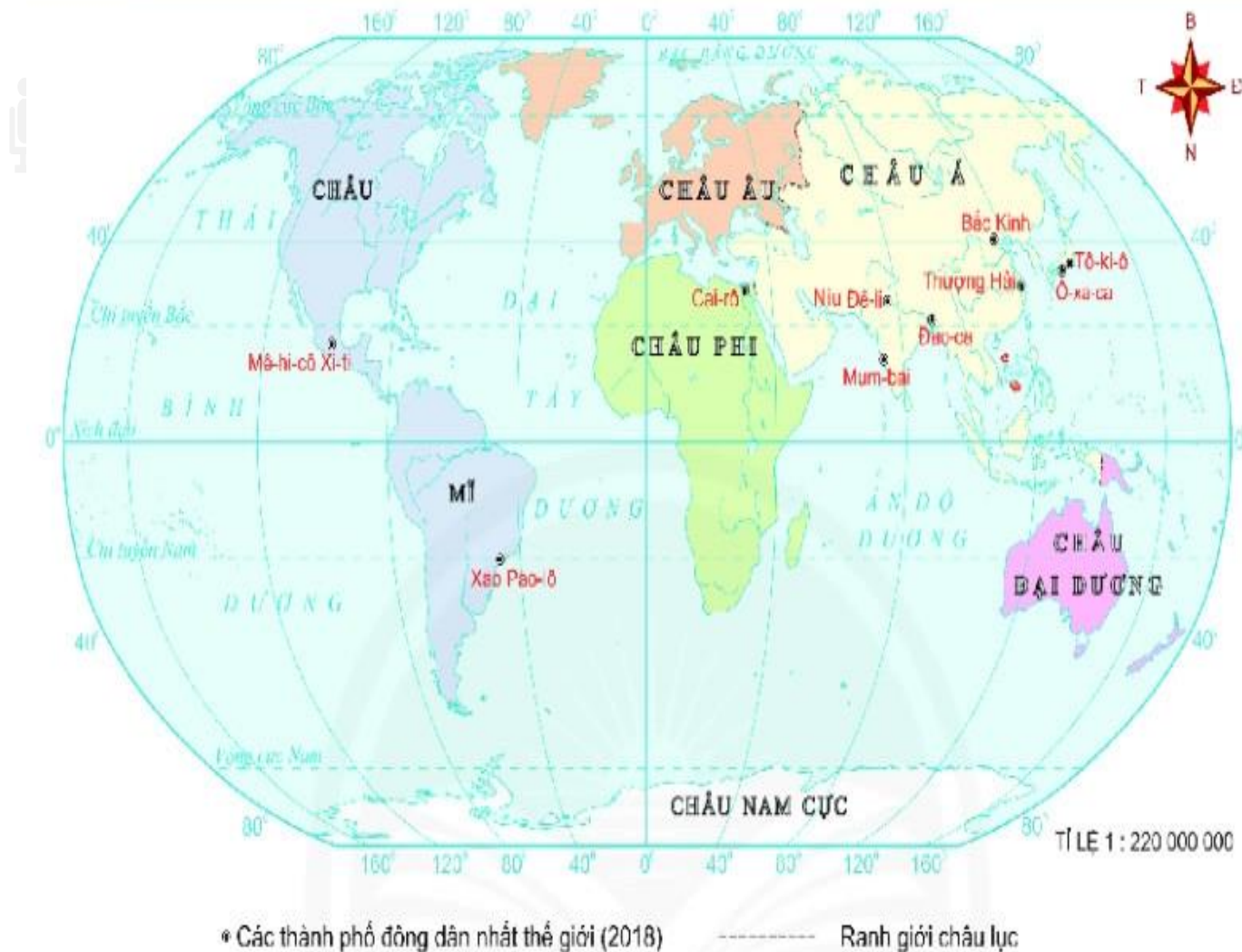


Hình 22.3. Các thành phố đông dân nhất thế giới (2018).

Độ thi có dân số là bao nhiêu triệu người thì được gọi là thế  
 Quan sát bản đồ hình 22.3, cho biết hội đồng bài đề thế  
 siện đô thị? gì?

*Hoạt động theo cặp: Các cặp bàn thực hiện nhiệm vụ trong 4 - 5 phút điền vào phiếu học tập*

<b>STT</b>	<b>Tên thành phố</b>	<b>Quốc gia</b>	<b>Số dân (tr người)</b>
<b>1</b>	<b>Tô-ky-ô</b>	Nhật Bản	37,5
<b>2</b>	<b>Niu Đê-li</b>	Ấn Độ	28,5
<b>3</b>	<b>Thượng Hải</b>	Trung Quốc	25,6
<b>4</b>	<b>Xao Pao-lô</b>	Bra-xin	21,7
<b>5</b>	<b>Mê-hi-cô Xi-ti</b>	Mê-hi-cô	21,6
<b>6</b>	<b>Cai-rô</b>	Ai Cập	20,1
<b>7</b>	<b>Mum-bai</b>	Ấn Độ	20,0
<b>8</b>	<b>Đắc-ca</b>	Băng-la-đét	19,6
<b>9</b>	<b>Bắc Kinh</b>	Trung Quốc	19,6
<b>10</b>	<b>Ô-xa-ca</b>	Nhật Bản	19,3




Hình 22.3. Các thành phố đông dân nhất thế giới (2018).

**Quan sát bản đồ hình 22.3, cho biết dân cư tập chung chủ yếu ở châu lục nào? Vì sao?**

# MỘT SỐ THÀNH PHỐ LỚN TRÊN THẾ GIỚI




*Thành phố Thượng Hải –  
Trung Quốc*




*Thành phố Niu-đê-li – Ấn  
Độ*

# LUYỆN TẬP


Câu 1. Quy mô dân số thế giới năm 2018 là




A. 7,6 tỉ người



B. 8,7 tỉ người




C. 7,8 tỉ người




D. 8 tỉ người .

# LUYỆN TẬP


Câu 2: Quy mô dân số trên thế giới có xu hướng như thế nào?




A. Dân số tăng chậm hoặc giảm.



B. Dân số có xu hướng giảm.



C. Dân số tăng nhanh




D. Dân số tiếp tục tăng




# LUYỆN TẬP


Châu lục có nhiều thành phố đông dân nhất thế giới:




A. Châu Âu.



B. Châu Á



C. Châu Đại Dương



D. Châu Phi

# LUYỆN TẬP

*Dựa vào mục II, bài 22 trong SGK em hãy hoàn thiện sơ đồ của câu 3 trong SBT :*

# VẬN DỤNG

**Tra cứu thông tin, cho biết dân số năm 2021 là bao nhiêu đứng thứ mấy trên thế giới và trong khu vực?**

*(HS hoàn thành nhiệm vụ ở nhà)*