

TIẾT 48 - BÀI 45:

KINH TẾ TRUNG VÀ NAM MỸ
(Tiếp theo)

KIỂM TRA BÀI CŨ

? Nêu sự bất hợp lý trong sử dụng ruộng đất ở Trung và Nam Mỹ ?

Trả lời


- Đất đai phần lớn nằm trong tay địa chủ và các công ti tư bản nước ngoài. Các đại điền chủ sở hữu trên 60% diện tích đất đai.

- Một bộ phận lớn nông dân không có ruộng đất, phải đi làm thuê.

Chính sự bất hợp lý này đã làm kìm hãm sự phát triển nông nghiệp, không có điều kiện cải tiến kỹ thuật canh tác, bị lệ thuộc vào các đại điền chủ; trong khi trên diện tích lớn của đại điền chủ canh tác theo lối quảng canh, năng suất thấp.



Hình 44.1 - Trồng lúa mì ở Pê-ru



Hình 44.3 - Thu hoạch đậu tương ở Bra-xin

Tiết 48- Bài 45 KINH TẾ TRUNG VÀ NAM MỸ

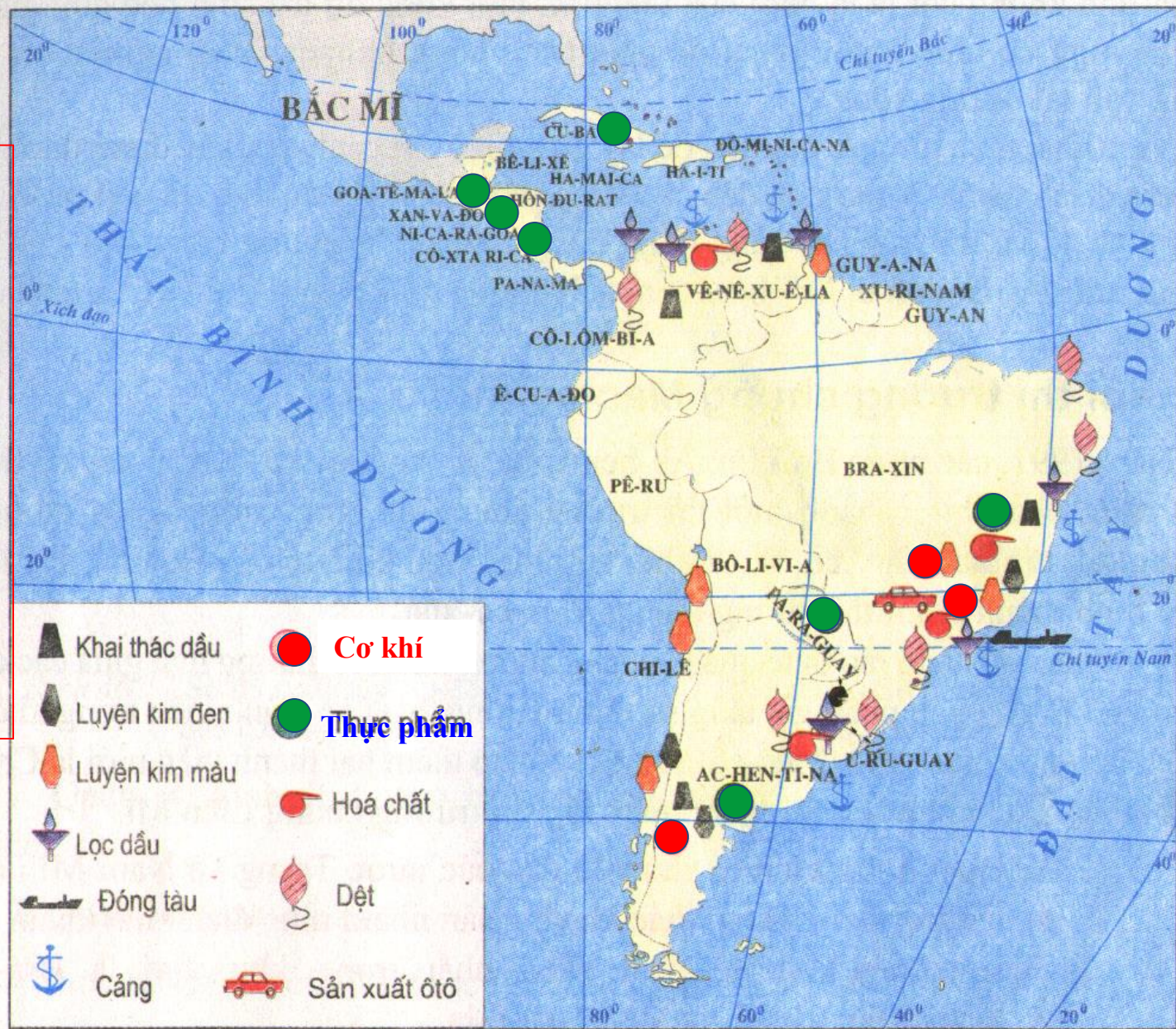
2. Công nghiệp

Nhận xét sự phân bố sản xuất của các ngành công nghiệp chủ yếu của công nghiệp có ở Trung và Nam Mỹ? nước nào trong khu vực phát triển công nghiệp tương đối toàn diện ?



Hình 45.1 - Lược đồ phân bố công nghiệp Trung và Nam Mỹ

Các ngành
công
nghiệp
phát triển
mạnh
nhất?



Hình 45.1 - Lược đồ phân bố công nghiệp Trung và Nam Mỹ

Tiết 46 Bài 45 KINH TẾ TRUNG VÀ NAM MỸ

2. Công nghiệp

- Các ngành công nghiệp chủ yếu: cơ khí chế tạo, lọc dầu, hóa chất, dệt, thực phẩm
- Các nước có CN phát triển tương đối toàn diện: Braxin, A-chentina, Chilê, Venê-xuela.
- Các ngành công nghiệp chủ yếu: cơ khí chế tạo, lọc dầu, hóa chất, dệt, thực phẩm . . .



Sản xuất Ô tô ở Braxin



Đóng tàu ở Braxin



Sản xuất máy bay ở Braxin

Tiết 46 Bài 45 KINH TẾ TRUNG VÀ NAM MỸ

2. Công nghiệp

- Các ngành công nghiệp chủ yếu: cơ khí chế tạo, lọc dầu, hóa chất, dệt, thực phẩm
- Các nước có CN phát triển tương đối toàn diện: Braxin, A-chentina, Chilê, Venêxuêla.
- Các ngành công nghiệp chủ yếu: cơ khí chế tạo, lọc dầu, hóa chất, dệt, thực phẩm . . .
- Các nước vùng An-đét và eo đất Trung Mỹ phát triển công nghiệp khai khoáng.
Eo đất Trung Mỹ và khu vực An-đét phát triển ngành nào ?
- Các nước vùng biển Ca-ri-bê phát triển công nghiệp thực phẩm và sơ chế nông sản.
Các nước ở vùng biển Ca-ri-bê phát triển ngành CN nào ?



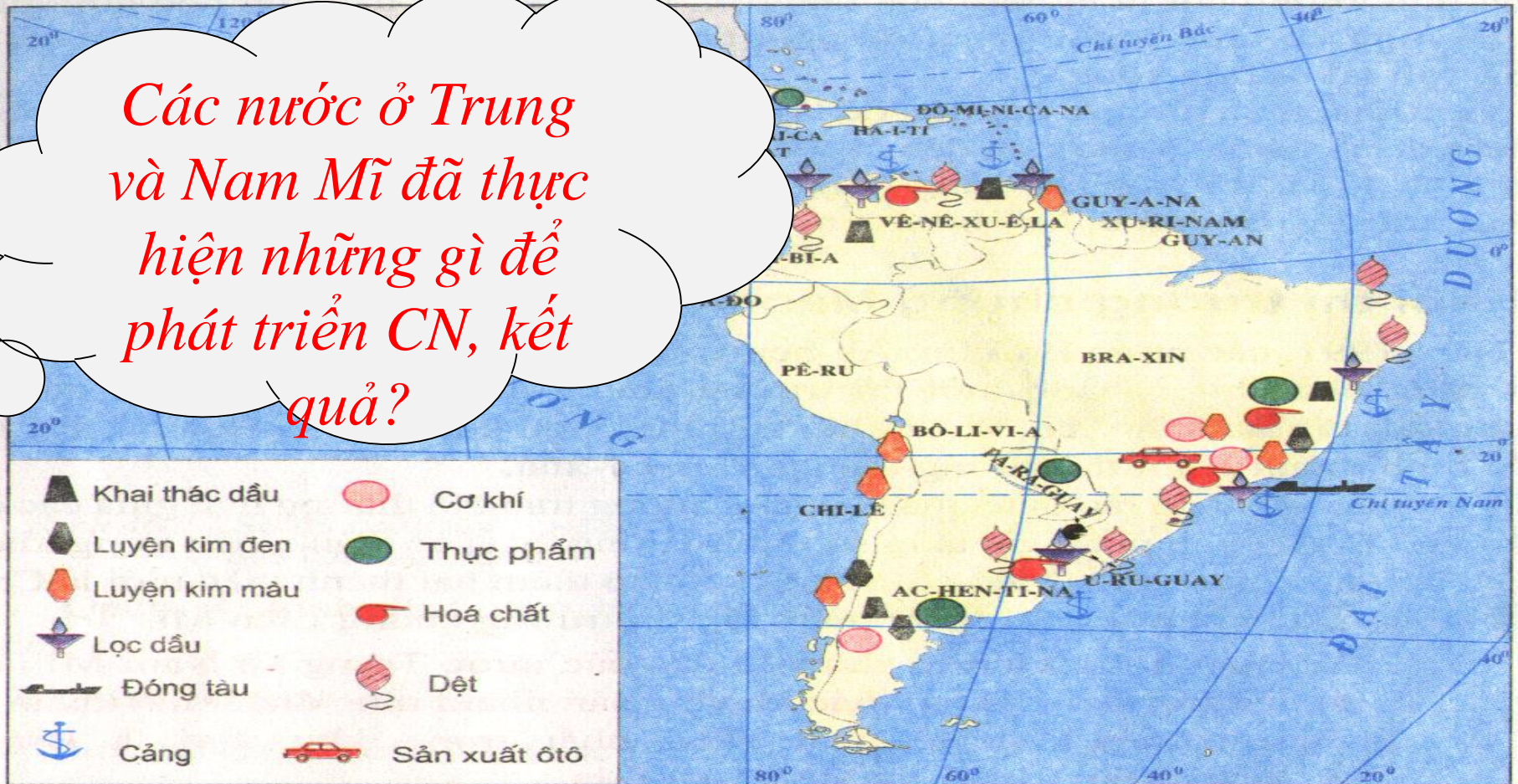
Khái thác Đồng ở Chi-lê



- Các nước thu hút vốn đầu tư nước ngoài để phát triển CN. Tuy nhiên chưa hiệu quả

3. Vấn đề khai thác rừng A-ma-dôn

Các nước ở Trung và Nam Mỹ đã thực hiện những gì để phát triển CN, kết quả?



Hình 45.1 - Lược đồ phân bố công nghiệp Trung và Nam Mỹ



Hiểu biết của em về rừng A-ma-dôn?





Vai trò của rừng A-ma-dôn?

- Các nước thu hút vốn đầu tư nước ngoài để phát triển CN. Tuy nhiên chưa hiệu quả

3. Vấn đề khai thác rừng A-ma-dôn

a. Vai trò của rừng A-ma-dôn:

- Lá phổi xanh của thế giới.
- Nguồn dự trữ sinh vật quý giá.
- Nguồn dự trữ nước, điều hòa khí hậu, cân bằng sinh thái toàn cầu.
- Nhiều tiềm năng để phát triển nông nghiệp, công nghiệp, GTVT đường sông.



Ếch cây



Vẹt



Khỉ đuôi sóc



Cá piranha



Cá piranha



Nấm



Lan tím



Ếch

Sáo nâu



Trăn khổng lồ



Thằn lằn xanh



Khai thác gỗ ở rừng A-ma-dôn



- Các nước thu hút vốn đầu tư nước ngoài để phát triển CN. Tuy nhiên chưa hiệu quả

3. Vấn đề khai thác rừng A-ma-dôn

a. Vai trò của rừng A-ma-dôn:

b. Ảnh hưởng của khai thác rừng Amadôn:

- Khai thác rừng tạo điều kiện phát triển KT nâng cao đời sống vùng đồng bằng Amadôn.
- Sự huỷ hoại MT Amadôn có tác động xấu đến cân bằng sinh thái, khí hậu của KV và TG.

4. Khôi thị trường chung Mec-cô-xua


4. Khối thị trường chung Mec-cô-xua

Suy nghĩ trả lời:

- Thời gian thành lập?
- Thành viên của khối thị trường chung Mec-co-xua?
- Mục tiêu của khối thị trường chung Mec-cô-xua ?
- Thành tựu của khối thị trường chung Mec-cô-xua ?

4. Khối thị trường chung Mec-cô-xua:

- **Năm thành lập:** 1991
- **Các thành viên:** Bra-xin, Ac-hen-ti-na, U-ru-goay, Pa-ra-guay, Chi-lê, Bô-li-vi-a.
- **Mục tiêu:**
 - Tháo dỡ hàng rào thuế quan.
 - Tăng cường trao đổi thương mại.
 - Thoát khỏi sự lũng đoạn kinh tế của Hoa Kỳ.
- **Thành tựu:** Gia tăng sự thịnh vượng của các thành viên trong khối.

An aerial photograph of a vast, dense green forest. A dark, winding river or stream flows through the center of the forest, curving from the bottom left towards the middle right. The forest extends to the horizon under a clear sky.

Dặn dò:

- Học bài cũ.
- Chuẩn bị bài mới.