

Họ và tên:..... Ngày:.....

# BÉ VỚI HIỆN TƯỢNG TỰ NHIÊN

Bé hãy đếm và khoanh tròn vào chữ số chỉ số lượng tương ứng



	1		5
	2		6
	3		7
	2		8
	3		9
	4		10
	2		0
	3		1
	4		2

Họ và tên:..... Ngày:.....

# BÉ VỚI HIỆN TƯỢNG TỰ NHIÊN



Bé hãy đếm và khoanh tròn vào chữ số chỉ số lượng tương ứng










	5		7
	6		8
	7		9
	3		7
	4		8
	5		9
	6		3
	7		4
	8		5

Họ và tên:..... Ngày:.....

## BÉ VỚI HIỆN TƯỢNG TỰ NHIÊN



Bé hãy đếm và khoanh tròn vào chữ số chỉ số lượng tương ứng

 1   5   4	 5   4   3	 7   8   6
 8   1   5	 5   3   8	 9   5   7
 5   9   2	 8   3   2	 9   3   6



Họ và tên:..... Ngày:.....

# BÉ VỚI HIỆN TƯỢNG TỰ NHIÊN



Bé hãy đếm và khoanh tròn vào chữ số chỉ số lượng tương ứng

 10 9 8	 7 8 9	 7 5 8
 9 2 6	 5 9 8	 9 6 7
 1 8 7	 8 3 2	 4 6 7



Họ và tên:..... Ngày:.....

## BÉ VỚI HIỆN TƯỢNG TỰ NHIÊN



Bé hãy đếm số hạt mưa trên mỗi đám mây và viết chữ số tương ứng nhé





Họ và tên:..... Ngày:.....

## BÉ VỚI HIỆN TƯỢNG TỰ NHIÊN



Bé hãy đếm và vẽ thêm số hạt mưa để được số lượng tương ứng với các chữ số dưới từng đám mây

















Họ và tên:..... Ngày:.....

# BÉ VỚI HIỆN TƯỢNG TỰ NHIÊN

Bé hãy đếm số hạt mưa trên mỗi đám mây và viết chữ số tương ứng nhé



 <b>1</b>	 <b>2</b>	 <b>3</b>
 <b>3</b>	 <b>3</b>	 <b>2</b>
 <b>5</b>	 <b>5</b>	 <b>4</b>
 <b>5</b>	 <b>5</b>	 <b>4</b>

 <b>1</b>
 <b>2</b>
 <b>3</b>
 <b>4</b>
 <b>4</b>
 <b>5</b>



Họ và tên:..... Ngày:.....

## BÉ VỚI HIỆN TƯỢNG TỰ NHIÊN



Bé hãy đếm số lượng hạt mưa trên từng đám mây và nối với chữ số tương ứng



8



6



9



7



10





Họ và tên:..... Ngày:.....

# BÉ VỚI HIỆN TƯỢNG TỰ NHIÊN



Bé hãy tô màu số hạt mưa tương ứng với các chữ số trên từng đám mây






Họ và tên:..... Ngày:.....

## BÉ VỚI HIỆN TƯỢNG TỰ NHIÊN



Bé hãy viết chữ số còn thiếu trong các dãy số sau từ  
**1=>2=>3=>4=>5=>6=>7=>8**





Họ và tên:..... Ngày:.....

## BÉ VỚI HIỆN TƯỢNG TỰ NHIÊN

Bé hãy khoanh tròn vào hạt mưa cho kết quả đúng



$2 + 3 =$



$4 + 1 =$



$1 + 2 =$



$3 + 3 =$



$2 + 4 =$



$2 + 2 =$

