


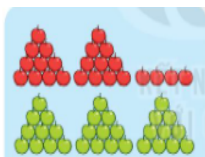


Câu 1: Số?



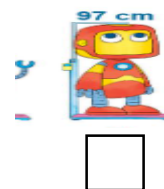





Câu 2: Em hãy đánh dấu X vào ô trống con Robot có số đo cao nhất








Câu 3: Hãy khoanh tròn vào ý đúng

Lớp 1D có 20 bạn trai và 18 bạn gái. Hỏi lớp 1D có tất cả bao nhiêu bạn?

Trả lời: Lớp 1D có.....bạn

A. 28 bạn

B. 38 bạn

C. 30 bạn

Câu 4: Tính

$$37 + 32 =$$

$$20 + 60 =$$

$$67 - 5 =$$

$$99 - 89 =$$

Câu 5: Nối các bông nấm có kết quả tương ứng trong ô vuông



35

67

34

50

**Câu 6: Đọc đúng các số sau**

38:.....

99.....

67.....

100.....

55.....

**Câu 7: Hãy nối con vật ăn tương ứng với loại thức ăn của nó**



50

5

15

7



**Câu 8: Đúng ghi Đ, Sai ghi S vào ô trống**

Quyển sách Toán lớp 1 của em dài khoảng.....

A. 25 cm.

B. 2 gang tay

C. 15cm

D. 30 cm

**Câu 9:** Mẹ đi chợ mua 3 chục bát to và 15 cái bát nhỏ. Hỏi mẹ mua tất cả bao nhiêu cái bát:

Trả lời: .....

--	--	--	--	--

**Câu 10:** Với các số và các dấu tính trong ô vuông. Hãy lập thành các phép tính cộng và phép trừ có kết quả phù hợp

12

4

16

- + =

--	--	--	--	--

--	--	--	--	--

--	--	--	--	--

--	--	--	--	--