

Câu 1: Khoanh vào đáp án đúng

a. Số nào lớn nhất ?

- A. 67 B. 45 C. 23 D. 9

b. Điền dấu thích hợp $78 - 12 \dots\dots 54$

- A. > B. < C. =

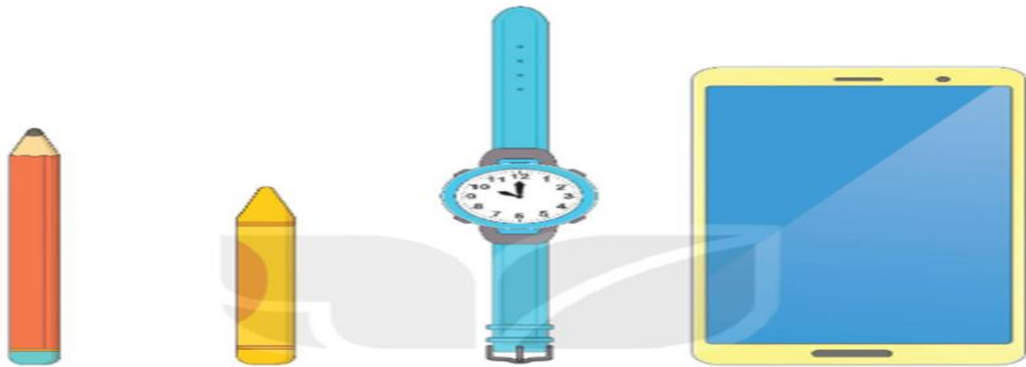
c. Điền dấu thích hợp $67 \dots\dots 12 + 23 = 78$

- A. + B. - C. =

d. Số tròn chục liền sau số 40 là:

- A. 20 B. 30 C. 40 D. 50

Câu 2:





- + Đồ vật cao nhất là :
- + Đồ vật thấp nhất là:.....
- + Đồ vật nào ở giữa chiếc bút sáp và chiếc điện thoại:.....
- + Chiếc bút sáp đứng sau đồ vật nào:.....

Câu 3: Điền dấu + -

- | | |
|---------------------------------------|------------------------------|
| $76 \dots\dots 56 = 20$ | $23 \dots\dots 11 = 12$ |
| $34 \dots\dots 34 + 34 = 34$ | $56 \dots\dots 12 + 5 = 49$ |
| $78 \dots\dots 10 \dots\dots 10 = 98$ | $42 - 12 \dots\dots 10 = 20$ |

Câu 4: Nói đúng các phép tính có cùng kết quả ?



Câu 5: Đặt tính rồi tính .

$77 + 12$

$85 + 13$

$77 - 22$

$87 - 3$

Câu 6:

a. *Viết kết quả của mỗi phép tính vào ô trống*

Phép tính	$17 + 2$	$72 - 2$	$24 + 0$	$32 + 2$	$73 - 23$	$21 + 13$
Kết quả						

b. *Viết phép tính ở câu a vào chỗ chấm*

+ Phép tínhcó kết quả lớn nhất

+ Phép tínhcó kết quả bé nhất

+ Hai phép tínhvàcó kết quả bằng

nhau

Câu 7: Tính .

$67 - 12 = \dots\dots\dots$

$89 + 11 - 80 = \dots\dots\dots$

$70 - 20 = \dots\dots\dots$

$21 + 23 - 40 = \dots\dots\dots$

$12 - 2 = \dots\dots\dots$

$67 - 12 - 12 = \dots\dots\dots$

Câu 8: Đồng hồ chỉ mấy giờ ?



.....
Câu 9. Linh gấp được 23 chiếc thuyền giấy, Hoa gấp được 32 chiếc, Hùng gấp được 18 chiếc. Vậy:

+ Số thuyền giấy của Hoa gấp được nhiều hơn của Linh

+ Số thuyền giấy của Linh gấp được ít hơn của Hùng

+ Số thuyền giấy của Linh gấp được nhiều nhất

+ Số thuyền giấy của Hùng gấp ít nhất

Câu 10: Bác Tư trồng được tất cả 17 quả bưởi và cam, trong đó có 7 cây cam. Hỏi Bác Tư trồng được bao nhiêu cây bưởi?

--	--	--	--	--