



ĐỀ SỐ 2
MÔN TOÁN - LỚP 1
Thời gian làm bài: 40 phút

Câu 1: Đếm - đọc số - viết số thích hợp



.....

Câu 2: Khoanh tròn vào câu trả lời đúng

a. Hôm nay thứ 6 ngày 18 thì thứ 7 sẽ là ngày nào ?

- A. ngày 17 B. ngày 18 C. ngày 19 D. ngày 20

b. Số lớn nhất có 2 chữ số giống nhau là ?

- A. 66 B. 76 C. 88 D. 89

c. Kết quả của phép tính $78 - 23 = \dots\dots$

- A. 55 B. 56 C. 65 D. 54

d. Điền dấu $34 - 4 \dots\dots 30$

- A. > B. < C. + D. =

Câu 3: Em hãy viết lại các số từ 1 đến 20

+ Theo thứ tự từ bé đến lớn

.....

+ Theo thứ tự từ lớn đến bé

.....

Câu 4: Đúng ghi Đ, sai ghi S

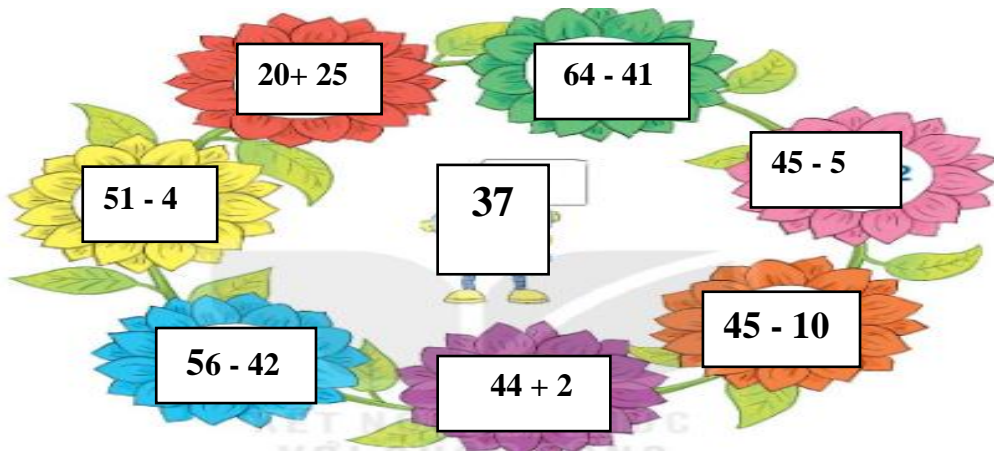
$41 \text{ cm} + 25 \text{ cm} = 56 \text{ cm}$

$67 \text{ cm} - 60 \text{ cm} = 17 \text{ cm}$

$23 \text{ cm} + 12 \text{ cm} = 53 \text{ cm}$

$34 \text{ cm} - 11 \text{ cm} = 23 \text{ cm}$

Câu 5: Nối phép tính ở các bông hoa có kết quả lớn hơn 37



Câu 6: Đặt tính rồi tính

23 + 34

45 + 3

98 - 23

56 - 4

Câu 7: (1điểm) Điền > < =

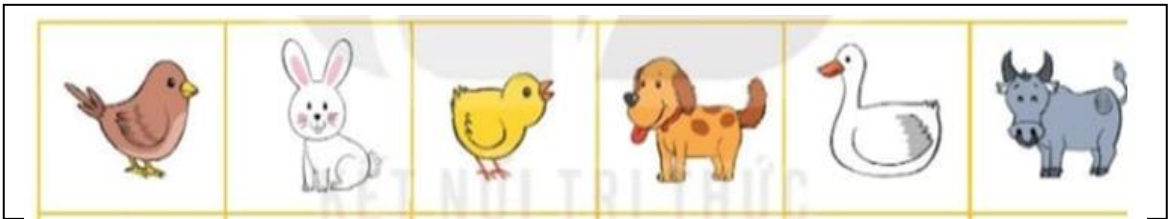
10 + 27 ... 50

17 - 11 ... 10

57 ... 10 + 63

65 ... 99 - 41

Câu 8: Quan sát hình và cho biết:

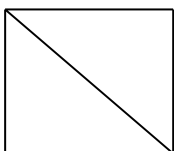


- Con chó đứng sau con nào?
- Con chim đứng trước con nào?
- Con nào đứng ở giữa con chó và con trâu?
- Con nào đứng ở giữa con gà và con trâu?

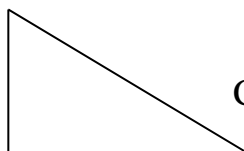
Câu 9: Một nông trại trồng được 26 củ su hào và 23 củ cà rốt. Hỏi nông trại đó trồng được tất cả bao nhiêu củ su hào và cà rốt?

- A. 45
- B. 94
- C. 3
- D. 49

Câu 10: Mỗi hình vẽ dưới đây có bao nhiêu đoạn thẳng?



Có đoạn thẳng



Có..... đoạn thẳng

