


Câu 1: Quan sát tranh và cho biết



Trên hình vẽ có :

Cóquả lêgồmchục vàđơn vị

Cóquả chanh: gồmchục vàđơn vị

Cóquả cam: gồmchục vàđơn vị


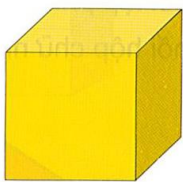
Câu 2: Khoanh tròn vào đáp án đúng.

a. Trong các số sau số nào lớn nhất: A. 23 B. 12 C. 45 D. 9

b. Số tròn chục bé nhất là: A. 10 B. 16 C. 2 D. 50

c. Số 8 chục bằng với số nào : A. 70 B. 80 C. 88 D. 2-

Câu 3: Viết đúng tên mỗi hình.



Câu 4: Với ba số 18, 8, 10 em hãy viết hai phép tính và hai phép tính trừ

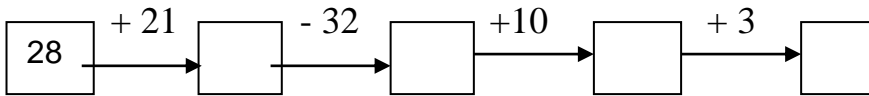
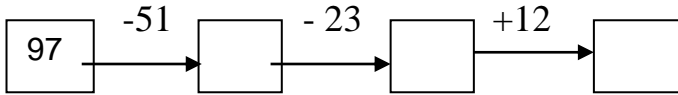
--	--	--	--	--

--	--	--	--	--

--	--	--	--	--

--	--	--	--	--

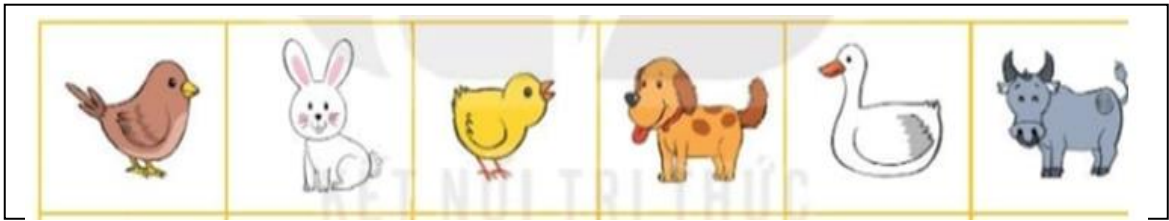
Câu 5: Điền Số?



Câu 6: Bác Ba nuôi được 35 con gà và con vịt, trong đó có 1 chục con gà. Hỏi bác Ba nuôi được bao nhiêu vịt ?

- A.45 B.36 C.25 D. 52

Câu 7: Quan sát hình và cho biết:




- Con vật nào đứng đầu tiên?
- Con Vật nào đứng cuối cùng?
- Con gà đứng sau con nào ?
- Con vịt đứng ở giữa hai con nào ?

Câu 8: Điền dấu + hoặc dấu -


70 20 = 90 87 45 = 42 23 61 = 84 80 20 = 60

Câu 9:

a.Khoanh tròn vào đồ vật cao hơn?



b.Khoanh vào đồ vật thấp hơn?



Câu 10: Tính

$78 - 28 - 10 + 12 + 40 - 4 = \dots\dots\dots$