

Số báo danh:
Phòng thi :

ĐỀ KIỂM TRA CUỐI HỌC KÌ II
Môn: Toán – Lớp 1
Năm học 2022- 2023
(Thời gian làm bài: 40 phút).

Điểm :..... Bằng chữ:.....	Nhận xét:	Giám thị:
	Giám khảo:

Câu 1: (M1-1điểm) Khoanh vào đáp án đúng:

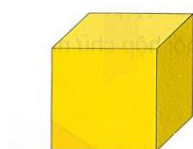
a) Số gồm 8 chục và 5 đơn vị viết là:

- A. 80 B. 50 C. 85 D. 58

b) Số lớn nhất có hai chữ số là:

- A. 90 B. 97 C. 98 D. 99

Câu 2: (M1-1điểm) Nói?



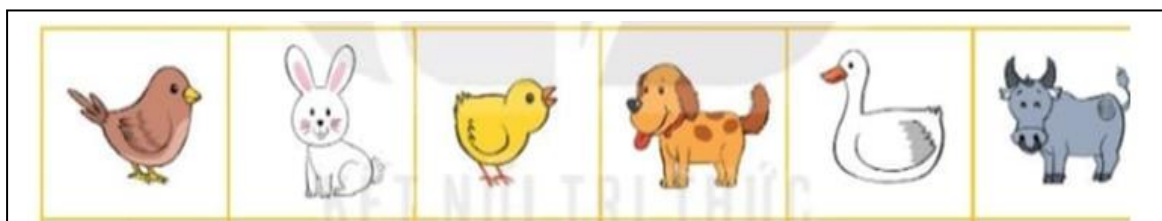
Khối hộp chữ nhật

Khối lập phương

Hình tam giác

Hình tròn

Câu 3. (M1-1điểm) Quan sát hình và viết tên con vật vào chỗ chấm cho thích hợp:



- Con **chó** đứng sau con
- Con **chim** đứng trước con.....
- Con đứng ở giữa con **chó** và con **trâu**.
- Con **thỏ** đứng ở giữa con **gà** và con.....

Câu 4: (M2-1 điểm) Nếu hôm nay là thứ Hai, ngày 10 tháng 10 thì thứ Sáu trong tuần là ngày tháng 10?

- A. Ngày 14 tháng 10 B. Ngày 16 tháng 10
C. Ngày 15 tháng 10 D. Ngày 17 tháng 10

Tháng 10	Tháng 10
10	?
Thứ hai	Thứ sáu

Câu 5: (M2-1 điểm) Sắp xếp các số 67, 35, 21, 98, 26 theo thứ tự :

a) Từ bé đến lớn:

b) Từ lớn đến bé:

Câu 6: (M2- 1 điểm) Điền dấu (<, >, =) vào chỗ chấm:


$$40 + 27 \dots 60$$

$$67 - 57 \dots 10$$

$$45 \dots 35 + 13$$

$$29 \dots 79 - 50$$

Câu 7: (M2-1 điểm) Nối phép tính với kết quả đúng



$$24 + 3 - 6$$

$$70 - 30 + 10$$

$$45 + 3 + 10$$

$$75 - 50 - 4$$

Câu 8: (M2-1 điểm) Đặt tính rồi tính:

$$64 + 20$$

$$34 + 25$$

$$87 - 5$$

$$96 - 26$$

.....

Câu 9: (M3-1 điểm) Viết phép tính thích hợp:

Mẹ Lan mang 68 quả bưởi ra chợ bán. Mẹ Lan đã bán được 35 quả bưởi.

Hỏi mẹ Lan còn lại bao nhiêu quả bưởi?

--	--	--	--	--

Mẹ Lan còn lại quả bưởi.

Câu 10. (M3-1 điểm) Với các số và các dấu phép tính trong ô vuông. Hãy lập các phép cộng và phép trừ có kết quả phù hợp:

$$15$$

$$4$$

$$19$$

$$- + =$$

--	--	--	--	--

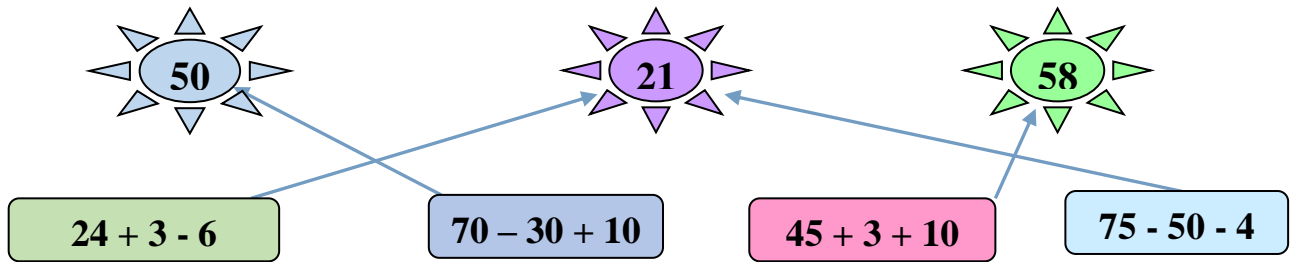
--	--	--	--	--

--	--	--	--	--

--	--	--	--	--

HƯỚNG DẪN VÀ BIỂU ĐIỂM CHẤM BÀI KIỂM TRA CUỐI KỲ II
MÔN TOÁN - LỚP 1
Năm học 2022-2023

- Câu 1. (1 điểm)** HS làm đúng mỗi phần cho 0,5đ. Đáp án: a) C, b) D
Câu 2. (1 điểm) Nối đúng mỗi ô chữ với hình cho 0,25 điểm.
Câu 3. (1 điểm) HS viết đúng tên các con vật vào mỗi chỗ chấm cho 0,25 đ.
Câu 4. (1 điểm) HS khoanh vào đáp án A.
Câu 5. (1 điểm) HS sắp xếp các số theo đúng thứ tự mỗi phần cho 0,5 điểm.
Câu 6. (1 điểm) HS điền đúng mỗi dấu vào chỗ chấm cho 0,25 điểm.
Câu 7. (1 điểm) HS nối mỗi phép tính với kết quả đúng cho 0,25 điểm.



- Câu 8. (1 điểm)** HS đặt tính và tính đúng mỗi phép tính cho 0,25 điểm.
Trong đó: Đặt tính 0,1 điểm, tính đúng 0,15 điểm
Câu 9. (1 điểm) HS viết được phép tính $68 - 35 = 33$ cho 0,75 điểm.
Viết đúng số 33 vào câu trả lời cho 0,25 điểm.
Câu 10. (1 điểm) HS lập được mỗi phép tính đúng cho 0,25 điểm.

$$\begin{array}{l} 15 + 4 = 19 \\ 4 + 15 = 19 \end{array}$$

$$\begin{array}{l} 19 - 4 = 15 \\ 19 - 15 = 4 \end{array}$$